



제 4 교시

한국사 영역

1. 밑줄 친 ‘이 시대’의 사회 모습으로 적절한 것은?

다음 시간에 이 시대 사람들의 생활상을 발표한다고 했지? 각자 조사한 내용을 알려 줘.

 사진은 이 시대에 처음 만들어지기 시작한 도구로 주먹도끼라고 해. 이것을 이용해서 자르고, 긁고, 찍는 작업 등을 했다.

 사람들은 주로 동굴이나 막집에서 생활했어. 또 사냥과 채집으로 식량을 마련했지.

전송

- ① 고인돌을 만들었다.
- ② 상감 청자를 제작하였다.
- ③ 철제 농기구로 농사를 지었다.
- ④ 무리 지어 이동 생활을 하였다.
- ⑤ 상평통보를 화폐로 사용하였다.

2. (가)에 대한 탐구 활동으로 가장 적절한 것은?

우리 영토 (가)

512 1454 1900

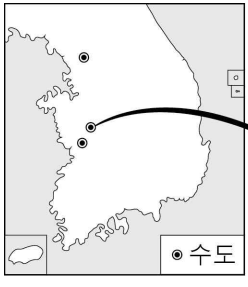

우산국 복속 『세종실록지리지』 편찬 대한 제국 칙령 제41호 반포

『세종실록지리지』에는 울릉도와 (가)이 강원도 울진현에 속한 두 섬이라고 기록되어 있다. 특히, “서로의 거리가 멀지 않아 날씨가 맑으면 바라볼 수 있다.”라고 적혀 있으며, 실제 울릉도에서 이 섬을 육안으로 확인할 수 있다.

- ① 청해진을 설치한 목적을 알아본다.
- ② 북한산 순수비의 내용을 분석한다.
- ③ 안용복의 영토 수호 활동을 조사한다.
- ④ 수원 화성을 건설한 의도를 파악한다.
- ⑤ 탐라총관부가 설치된 지역을 찾아본다.

3. 밑줄 친 ‘이 나라’에 대한 설명으로 옳은 것은? [3점]

사진은 벽돌무덤 양식의 무령왕릉 내부 모습입니다. 온조가 세웠던 이 나라가 웅진을 도움으로 삼은 시기에 만들었습니다. 무덤 양식 등을 통해 중국 남조와 교류가 있었음을 알 수 있습니다.

- ① 과전법을 시행하였다.
- ② 9주 5소경을 설치하였다.
- ③ 광개토 대왕릉비를 건립하였다.
- ④ 화랑도를 국가적 조직으로 개편하였다.
- ⑤ 고구려 계통의 유이민이 건국을 주도하였다.

4. (가) 인물에 대한 설명으로 옳은 것은? [3점]

거란의 소손녕과 벌인 외교 담판에서 어떤 이야기를 하셨나요?

우리 고려가 거란과 외교 관계를 맺지 못했던 것은 여진의 방해 때문이라고 했습니다. 만일 거란이 여진을 쫓고 우리 옛 땅을 돌려주면 서로 왕래할 수 있다고 답변했습니다.

(가)

- ① 강동 6주를 확보하였다.
- ② 위화도 회군을 주도하였다.
- ③ 청산리 전투에 참가하였다.
- ④ 한산도 해전에서 승리하였다.
- ⑤ 살수에서 수의 군대를 격파하였다.

5. (가) 국가에 대한 설명으로 옳은 것은? [3점]

배움 일지

날짜	2020년 ○월 ○○일	교사 확인란	
학습 내용	(가)의 성립과 발전		
알게 된 점	- 대조영이 고구려 유민 등과 동모산에서 건국 - 무왕, 문왕, 선왕의 업적 - 고구려 계승 의식 표방 - 고구려 문화와의 유사성(온돌, 기와 등)		
문고 싶은 점	고구려와 영토 비교, 대외 관계		

- ① 성군관을 설치하였다.
- ② 해동성국이라 불렸다.
- ③ 금관가야를 병합하였다.
- ④ 전국을 8도로 나누어 통치하였다.
- ⑤ 영고라는 제천 행사를 개최하였다.

6. 다음 자료를 활용한 수업 주제로 적절한 것은? [3점]



- ① 고려의 대몽 항쟁
- ② 6·25 전쟁의 전개
- ③ 일제의 국권 침탈 과정
- ④ 조선의 4군과 6진 설치
- ⑤ 삼국의 경쟁과 영토 확장

7. 밑줄 친 '전쟁'으로 옳은 것은?

오늘 이야기할 소재는 조선과 청 사이에 벌어진 전쟁입니다. 인조는 청의 침입에 맞서 신하들과 남한산성으로 들어가 항전하였으나 고립된 상황에서 오래 버티지 못하고 맙니다.

대학창

♡ **역사 교수**
조선이 청의 군신 관계 요구를 거절한 것과 관련이 있죠?

♣ **한국사 사랑**
주화와 의견을 처음부터 받아들였다면 어땠을지 궁금하네요.

전송

- ① 병자호란
- ② 임진왜란
- ③ 신미양요
- ④ 나당 전쟁
- ⑤ 안시성 싸움

8. 밑줄 친 '왕'에 대한 설명으로 옳은 것은?

문화유산 종이 모형 만들기

모형 이름	양부일구
조립 시간	30분
난이도	★★★★☆
같은 시기 추천 모형	자격루 측우기

○ **관련 역사 이야기** : 양부일구는 왕이 장영실 등에게 명하여 제작된 해시계이다. 명칭은 그 모양이 '하늘을 올려다보는 가마솥 같다'고 해서 붙여졌다. 당시 만들어진 것은 현재 남아 있지 않다.

- ① 대가야를 멸망시켰다.
- ② 훈민정음을 반포하였다.
- ③ 사심관 제도를 시행하였다.
- ④ 전민변정도감을 설치하였다.
- ⑤ 22담로에 왕족을 파견하였다.

9. (가)에 들어갈 내용으로 가장 적절한 것은? [3점]

탐구 활동 계획서


○ 주제 : (가)

○ 조사할 내용

- 서원 정리	- 균역법 실시
- 탕평비 건립	- 『속대전』 편찬

- ① 세도 정치의 전개
- ② 영조의 개혁 정치
- ③ 신진 사대부의 성장
- ④ 묘청의 서경 천도 추진
- ⑤ 통일 신라의 민족 융합 정책

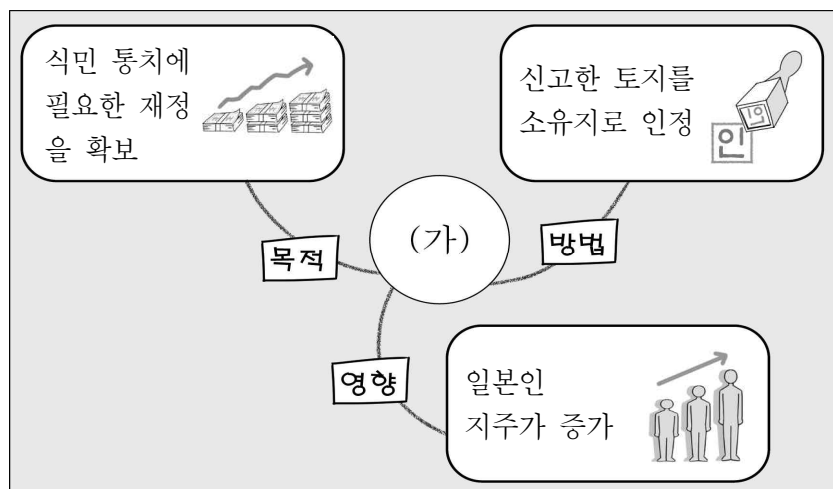
15. (가)에 대한 우리 민족의 대응으로 옳은 것은? [3점]

공 훈 록		
	성명	나철
	생물 연대	1863 ~ 1916
	훈격	건국 훈장 독립장

1905년 일제가 (가) 을/를 강제로 체결하여 대한 제국의 외교권을 강탈하자 관직을 사임하고 항일 운동을 전개하였다. 그는 (가) 체결에 앞장섰던 이완용 등 오적(五賊)을 제거하기로 계획하고 동지 규합에 힘썼다.

- ① 을사의병을 일으켰다.
- ② 별무반을 편성하였다.
- ③ 규장각을 육성하였다.
- ④ 남북 협상을 추진하였다.
- ⑤ 인천 상륙 작전을 전개하였다.

16. (가)에 들어갈 내용으로 적절한 것은?



- ① 광무개혁의 추진
- ② 의정부와 6조의 기능
- ③ 브나로드 운동의 목표
- ④ 일제의 토지 조사 사업
- ⑤ 국채 보상 운동의 전개

17. 다음 자료에 나타난 민족 운동에 대한 설명으로 옳은 것은? [3점]

학생단의 합의 사항

1. 학생단은 기독교와 천도교 등 종교 대표의 연합 전선에 함께 참가한다.
2. 각 전문학교 및 중등학교 학생은 고종의 장례일을 앞둔 3월 1일 탑골 공원에 모여 시위운동을 전개한다.
3. 학생들은 상황에 따라 전문학교 학생을 중심으로 독자적인 시위운동을 전개한다.

- ① 김옥균 등 개화파가 주도하였다.
- ② 대통령이 해야하는 계기가 되었다.
- ③ 을미사변과 단발령에 반발하여 일어났다.
- ④ 대한민국 임시 정부 수립에 영향을 끼쳤다.
- ⑤ 한국광복군이 참가하여 작전을 수행하였다.

18. 다음 자료에 나타난 시기에 있었던 사실로 옳은 것은?

미곡 공출 부진, 원인과 조치

1. 원인
 - 할당량 과다
 - 태평양 전쟁 이후 3년에 걸친 흉작
 - 만주 잠곡 수입의 지연으로 대체 식량 부족
2. 조치
 - 불량한 부락에 대한 물자 배급 일시 중지
 - 공출을 완료하지 못한 관리 징계

- ① 9서당이 조직되었다.
- ② 도병마사가 설치되었다.
- ③ 제물포 조약이 체결되었다.
- ④ 임술 농민 봉기가 일어났다.
- ⑤ 황국 신민 서사 암송이 강요되었다.


19. 다음 자료를 활용한 학습 주제로 가장 적절한 것은?

- 전봉준은 폐정 개혁안을 받아들이면 해산할 것이라고 하였다. 정부 측이 이를 수락하여 전주 화약이 성립되었고, 농민군은 일제히 성 밖으로 철수하였다.
- 전봉준이 이끄는 농민군이 손병희가 이끌고 온 농민군과 논산에서 합세하여 공주로 진격하였다.

- ① 지방 호족의 성장
- ② 북벌 운동의 추진
- ③ 동학 농민 운동의 전개
- ④ 국외 무장 독립군의 활동
- ⑤ 무신 집권기 천민의 봉기

20. 밑줄 친 '국회'의 활동으로 옳은 것은? [3점]

우표로 보는 현대사



1948년 5·10 총선거를 기념하여 발행된 우표이다. 이 선거를 통해 구성된 국회에서는 나라 이름을 대한민국으로 정하였다.

- ① 당백전을 발행하였다.
- ② 신분제를 폐지하였다.
- ③ 헌의 6조를 채택하였다.
- ④ 제헌 헌법을 제정하였다.
- ⑤ 신탁 통치 결정에 반대하였다.

*** 확인 사항**

- 답안지의 해당란에 필요한 내용을 정확히 기입(표기)했는지 확인하십시오.