

제 4 교시

직업탐구 영역(성공적인 직업생활)

성명

수험 번호

제 [    ] 선택

1. 다음 기업 운영 사례 발표에 나타난 A, B 씨의 기업가 정신으로 가장 적절한 것은?

A 씨: 저는 30년 동안 전통 방식을 고수하며 김 가공업체를 운영해 왔습니다. 해수 온도 상승으로 원재료 조달이 어려워져 손실이 예상되었음에도 불구하고 이를 기꺼이 감내한다는 자세로 역경을 이겨낼 수 있었습니다.

B 씨: 기업은 이익을 창출하는 것이 당연한 목표이겠지만 사람과 환경을 고려한 경영 활동도 중요하다고 생각합니다. 이번 우리 지역의 식목 행사에 묘목을 기부한 것도 이와 무관하지 않습니다.

- A 씨

B 씨
- ① 혁신성

진취성
- ② 혁신성

사회적 책임성
- ③ 위험 감수성

혁신성
- ④ 위험 감수성

사회적 책임성
- ⑤ 사회적 책임성

혁신성

2. 다음은 국가직무능력표준(NCS) 경력 개발 로드맵의 일부이다. 이를 통해 알 수 있는 내용으로 옳은 것은?

NCS 경력 개발 로드맵

작성자: 매장운영 담당자 A

• NCS 분류체계

(가)	중분류	소분류	세분류
13. 음식서비스	01. 식음료조리·서비스	03. 외식경영	01. 외식운영관리
분류번호	(나)	수준	(다)
1301030104_21v2	매장 시간대별 업무관리	3	매장 시간대별 업무관리란 매장의 운영효율성을 높이기 위하여 업무를 시간대별로 관리하는 능력이다.

• 진로 계획

매장운영 담당자 (2수준) → NCS의 능력 단위를 교육 및 훈련 하는데 활용할 수 있도록 구성된 '교수·학습자료'를 이용하여 직무 역량 강화하기 → 매장운영 선임자 (3수준)

- ① 직무는 '03. 외식경영'이다.
- ② A 씨는 매장운영 선임자가 되기 위해 'NCS 학습모듈'을 활용할 계획이다.
- ③ (가)는 직능 유형이 유사한 분야를 25개로 구분한 것이다.
- ④ (나)는 능력단위를 구성하는 핵심 하위 능력을 기술한 것이다.
- ⑤ (다)는 (나)의 성취 여부 평가 방법을 제시한 것이다.

3. 다음은 학생이 허생전을 요약한 내용 중 일부이다. 이에 나타난 직업 생활을 분석한 내용으로 적절한 것만을 <보기>에서 있는 대로 고른 것은? (단, 제시된 자료 외의 것은 고려하지 않는다.) [3점]

허생은 가난에 대한 아내의 불평에 자리를 박차고 일어나 본격적으로 상인의 길에 나섰다. 대부업을 하는 변 부자를 찾아가 돈 일만 냥을 빌렸다. 변 부자는 그의 터무니없는 배짱을 믿고 선뜻 돈을 내어 주었다. 허생은 과일을 두 배의 값으로 모조리 사들였다. 이후 과일이 동이 나자 제사나 잔치를 치르지 못할 지경에 이르렀다. 허생에게 과일을 판 과일 장수들은 도리어 열 배의 값을 치르고 다시 사 갈 수밖에 없었다.

- <보 기>
- ㄱ. 허생에게 요구되는 직업 윤리 원칙은 '공정 경쟁의 원칙'이다.

ㄴ. 변 부자는 경영 관리 활동 중 '인적 자원 관리 활동'을 수행 하였다.

ㄷ. 허생과 변 부자가 종사하는 업종은 서비스업에 해당한다.
- ① ㄱ      ② ㄴ      ③ ㄱ, ㄷ      ④ ㄴ, ㄷ      ⑤ ㄱ, ㄴ, ㄷ

4. 다음 A, B 씨의 서비스 활동 사례에 대한 분석 내용으로 적절한 것만을 <보기>에서 고른 것은? [3점]

변호사 A 씨는 소도시에서 지역 산업 단지 소재 기업을 대상으로 지난 10년 간 법률 서비스를 제공하며 기업 간 분쟁 분야에서 전문성을 키워 왔으나 최근 서비스 수요가 줄어들기 시작하였다. 이에 A 씨는 고객 수요가 더 많은 대도시의 산업 단지 근처로 사무실을 이전할 계획이다.

미용사 B 씨는 아파트 상가에서 미용실을 운영하고 있다. 오늘은 노인정에서 열리는 노래자랑으로 예약이 많이 밀려 바쁜 날이었다. B 씨는 꽃단장을 하러 오신 어르신들의 개성에 맞춰 머리카락을 자르거나 염색해 드렸다.

- <보 기>
- ㄱ. A 씨는 서비스의 이질성 때문에 사무소 이전을 계획하고 있다.

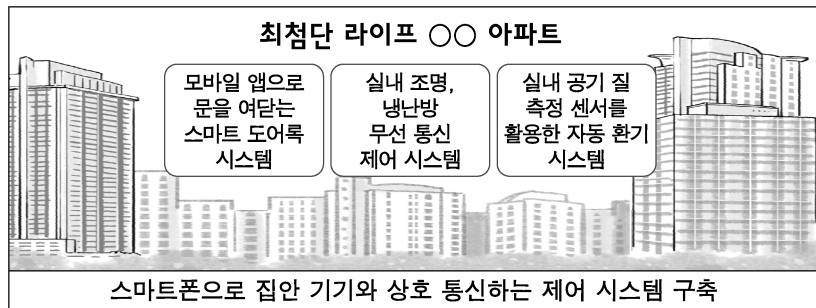
ㄴ. B 씨는 개별 생산 방식으로 서비스를 제공하고 있다.

ㄷ. 서비스 공급 주체에 따라 분류하면 A 씨는 공공 서비스업에, B 씨는 민간 서비스업에 종사하고 있다.

ㄹ. 서비스 수요 주체에 따라 분류하면 A 씨는 생산자 서비스업에, B 씨는 소비자 서비스업에 종사하고 있다.
- ① ㄱ, ㄴ      ② ㄱ, ㄷ      ③ ㄴ, ㄷ      ④ ㄴ, ㄹ      ⑤ ㄷ, ㄹ

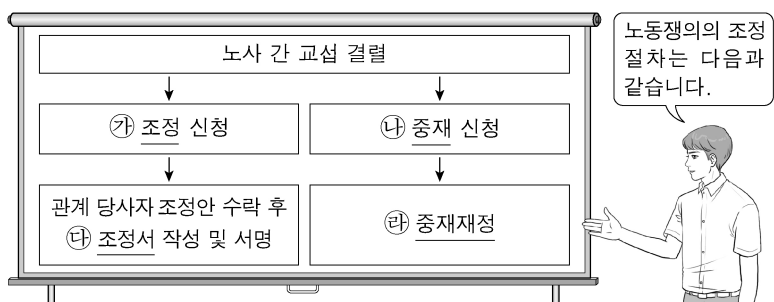
## 2 (성공적인 직업생활)      직업탐구 영역

5. 다음 홍보물에 나타난 첨단 기술로 가장 적절한 것은?



- ① 나노 기술      ② 핀테크 기술      ③ 증강현실 기술  
④ 사물인터넷 기술      ⑤ 웨어러블 로봇 기술

6. 다음은 노동쟁의의 조정 절차에 관한 수업 장면이다. ㉠~㉣에 대한 설명으로 옳은 것만을 <보기>에서 고른 것은? (단, 「노동조합 및 노동관계조정법」에 따르고, 제시된 절차 외의 것은 고려하지 않는다.) [3점]

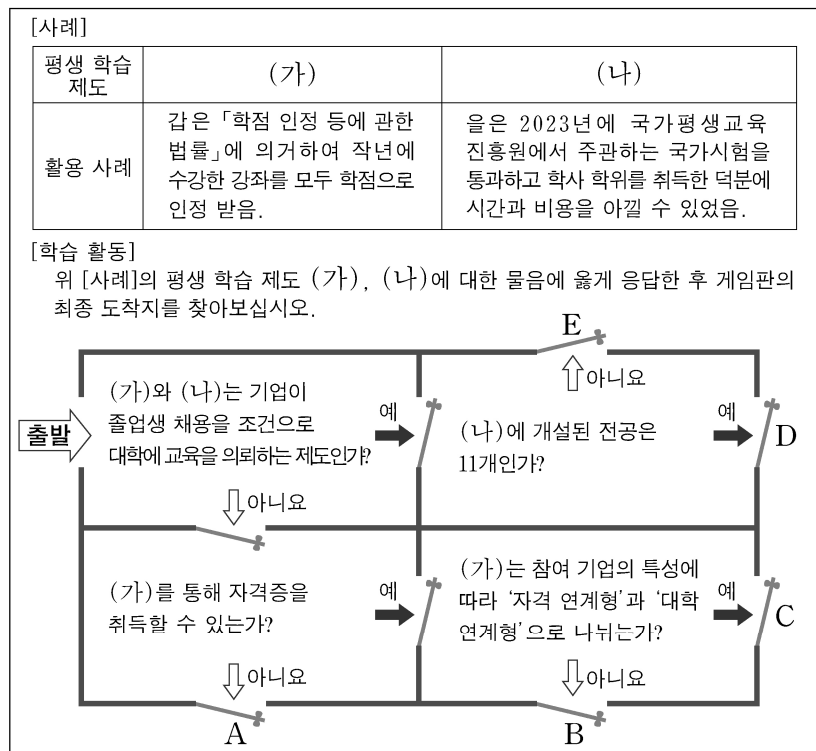


<보 기>

- ㄱ. ㉠은 쟁의 행위를 거치지 아니하면 신청할 수 없다.  
ㄴ. 관계 당사자 쌍방이 ㉠을 신청한 경우 노동위원회는 지체 없이 이를 개시하여야 한다.  
ㄷ. 관계 당사자 일방이 단체협약에 의하여 ㉡을 신청한 경우 고용노동부장관은 지체 없이 이를 행한다.  
ㄹ. ㉢와 ㉣의 내용은 단체협약과 동일한 효력을 가진다.

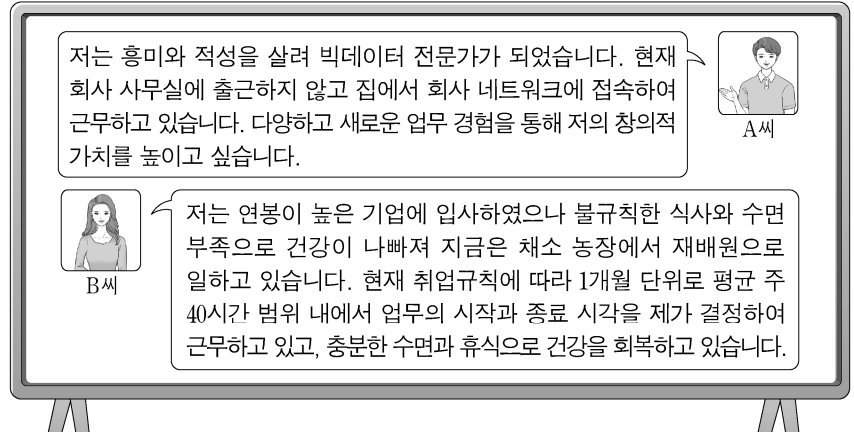
- ① ㄱ, ㄴ      ② ㄱ, ㄷ      ③ ㄴ, ㄷ      ④ ㄴ, ㄹ      ⑤ ㄷ, ㄹ

7. 다음 [사례]에 나타난 평생 학습 제도를 활용하여 [학습 활동]을 수행할 경우 게임판의 최종 도착지로 옳은 것은? [3점]



- ① A      ② B      ③ C      ④ D      ⑤ E

[8~9] 다음은 예능 프로그램의 자기소개 장면이다. 물음에 답하시오.



8. 위 A, B씨의 직업 가치관을 분석한 내용으로 가장 적절한 것은?

- ① A씨는 직업의 가치 중 타인에 대한 '영향력 발휘'를 중요시하고 있다.  
② B씨가 중요시하는 직업의 가치는 '몸과 마음의 여유'에서 '금전적 보상'으로 바뀌었다.  
③ A씨는 B씨에 비해 직무 활동 그 자체에서 얻는 내적 만족을 더 중요시하고 있다.  
④ B씨는 A씨에 비해 직업의 가치 중 '변화 지향'을 더 중요시하고 있다.  
⑤ A씨와 B씨는 '집단 중심적 직업관'을 보여 주고 있다.

9. 위 A, B씨의 직업 생활을 통해 알 수 있는 내용으로 적절한 것만을 <보기>에서 있는 대로 고른 것은?

<보 기>

- ㄱ. A씨의 현재 근무 방식은 근무 장소에 따라 구분하면 재택 근무이다.  
ㄴ. B씨의 현재 근무 방식은 근무 시간에 따라 구분하면 선택적 근로시간제이다.  
ㄷ. A, B씨가 현재 종사하고 있는 직업을 선택한 진로 의사 결정에는 개인적 요인이 영향을 미쳤다.

- ① ㄱ      ② ㄴ      ③ ㄱ, ㄷ      ④ ㄴ, ㄷ      ⑤ ㄱ, ㄴ, ㄷ

10. 다음은 ○○도서관의 [생애 발달 단계별 추천 도서 안내]이다. 이에 대한 설명으로 가장 적절한 것은? (단, 생애 발달 단계별 발달 과업은 해비거스트(Havighurst, R. J.) 이론에 근거한다.)

[생애 발달 단계별 추천 도서 안내]		
추천 대상자	추천 도서	도서 소개
진로 탐색 및 성인이 되기 위해 준비하는 10대	A	컴퓨터 및 멀티미디어 활용 능력 배양
직업 수행에 필요한 기술을 학습하는 30대	B	갈등 조절 능력을 향상시키기 위한 인간관계 관리법
은퇴에 적응하는 70대	C	흔들리지 않는 마음을 위한 명언

- ① A도서 소개에 나타난 직업기초능력은 '조직 이해 능력'이다.  
② B도서 소개에 나타난 직업기초능력은 '업무 처리 능력군'에 속한다.  
③ A도서 추천 대상자의 발달 과업에는 '기본 생활 습관 및 공동생활에 필요한 생활 습관 형성하기'가 있다.  
④ B도서 추천 대상자의 발달 과업에는 '중년기의 위기관리'가 있다.  
⑤ C도서 추천 대상자의 발달 과업에는 '역할 변화에 융통성 있게 대처하기'가 있다.

11. 다음은 ○○(주)에 근무하는 A 씨의 2024년 업무 수첩 일부이다. 이를 통해 알 수 있는 내용으로 가장 적절한 것은? [3점]

월(5/27)	화(5/28)	수(5/29)	목(5/30)	금(5/31)
• 회의 참석 (연초 계획 대비 1분기 실적 평가, 상시 근로자 30명 전원 참석)	• 14시에 예정된 법원 재판에 증인 으로 출석	• 10시 노사협의회 개최 (회의 자료 준비)	• 16시 출장  퇴근 후 B 군 (동생, 17세)이 일할 예정인 △△카페 방문	• 여행(연차 유급 휴가 사용)  2024년 1월 1일 ○○(주) 신규 입사 후 연차 유급휴가 사용한 날: 3/4, 4/15

- (주)의 사용자는 근로기준법상 A 씨가 5월 28일 14시 일정을 위해 필요한 시간을 청구하면 거부하지 못한다.
- (주)의 사용자는 근로기준법상 A 씨가 2024년 6월 1일부터 12월 31일까지 개근할 경우 이에 대해 최소 10일의 연차 유급휴가를 주어야 한다.
- A 씨가 5월 27일에 참석한 회의는 경영 관리 순환 과정 중 '계획 과정'에 해당한다.
- A 씨는 근로기준법상 B 군 대신 △△카페의 사용자와 B 군의 근로 계약을 체결할 수 있다.
- 5월 29일에 개최된 협의기구는 파업 등의 쟁의 행위가 가능하다.

12. 다음 A, B 기업에 대한 분석 내용으로 적절한 것만을 <보기>에서 있는 대로 고른 것은?

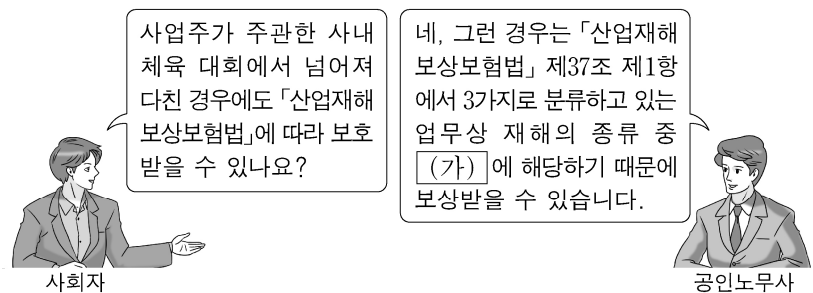
기업명	A 기업	B 기업
생산품	대형 선박	가전제품
생산 특징	고객이 요구한 제품을 주문 수량만큼 생산	예측한 시장 수요만큼 규격화된 제품을 생산

<보 기>

- ㄱ. A기업의 생산 방식은 연속 생산 방식에 해당한다.  
 ㄴ. B기업은 A기업에 비해 완제품의 재고 발생 가능성이 더 높다.  
 ㄷ. A, B기업의 업종은 클라크(Clark, C. G.)의 산업 분류에 따르면 2차 산업에 해당한다.

- ① ㄱ      ② ㄴ      ③ ㄱ, ㄷ      ④ ㄴ, ㄷ      ⑤ ㄱ, ㄴ, ㄷ

13. 다음 산업재해 인정에 관한 대화에서 (가)에 해당하는 사례로 가장 적절한 것은? [3점]



- 휴게시간 중 사업장 구내식당에서 미끄러져 2개월의 치료를 요하는 발목 부상을 당한 경우
- 출근길에 통상적인 경로를 벗어나 친구를 만나러 가던 중 교통사고를 당해 4주의 치료를 요하는 경우
- 건설 현장 근로자가 업무 수행 과정에서 유해 물질에 반복적으로 노출됨으로써 호흡기계 질병에 걸린 경우
- 상사의 폭언과 괴롭힘 등으로 정신적 스트레스를 받아 병원 진료 후 3개월의 요양이 필요하다는 진단을 받은 경우
- 퇴근 후 사업주의 지배관리를 벗어난 상태에서 회사 동료들과 식사를 한 후 귀가하던 중 교통사고를 당한 경우

14. 다음은 재해 사례 보고서의 일부이다. 이를 통해 알 수 있는 내용으로 옳은 것은? [3점]

#### 재해 사례 보고서

- 사고 개요
  - 기업(상시근로자 10명)에 근무하는 A 군(17세)은 2023년 12월 21일 18시 30분에 작업을 마친 후 상사의 지시로 작업장 정리 도중 물품을 선반에 올려놓다가 사다리에서 떨어져 상해를 입음.
- 재해자 상황
  - A 군의 소정근로시간은 9시부터 17시까지(휴게시간: 12시~13시)였으며, 17시 이후 사고 발생 시각까지 계속 작업함.
  - A 군은 해당 보험 급여를 신청하여 업무상 재해로 인정받았으며 산재보험 의료기관에 2주간 입원함.

- A 군의 사고 형태는 '넘어짐'에 해당한다.
- A 군은 한국산업안전보건공단으로부터 요양급여를 지급받는다.
- A 군의 작업장 정리 작업은 근로기준법상 근로시간에 산정되지 않는다.
- 기업의 사용자는 A 군에 대하여 근로기준법상 연장근로 규정을 준수하지 않았다.
- 상시 근로자가 5인 미만인 모든 사업장은 A 군이 신청한 사회보험이 적용되지 않는다.

15. 다음의 사회 보험 관련 기사를 분석한 후, 이를 [(주)△△기업 사례]에 적용한 내용으로 옳은 것만을 <보기>에서 고른 것은? [3점]

(가) 은/는 구직급여와 취업촉진 수당으로 구분한다. 주변에서는 65세를 넘으면 (가) 을/를 받을 수 없다는데 정말 그럴까? 결론적으로 말하면 그렇지 않다. 65세 이전부터 동일 사업장에서 일했다면 예외를 인정하여 수급 요건을 갖추 경우 65세 미만인 경우와 동일하게 혜택을 받을 수 있다.

- ○○신문, 2023년 8월 28일 자 -

[(주)△△기업 사례]

대상자	이직 나이	이직 전 근무 상황 소정근로 시간	입사 나이	이직 사유	실업 신고 직후 상황
A	69세	주당 20시간	63세	직제 개편에 따른 조직 축소로 권고사직	질병으로 6개월간 취업이 불가능한 상태
B	68세	주당 40시간	31세	식당 창업을 위해 사직	요리 학원 수강 예정

<보 기>

- ㄱ. 고용보험 보험료 중 (가)에 드는 비용을 충당하기 위한 보험료는 사업주와 근로자가 절반씩 부담한다.  
 ㄴ. A 씨의 이직 사유는 '부당노동행위'에 해당하는 근로자 권익 침해이다.  
 ㄷ. A 씨가 구직급여의 수급자격을 인정받을 경우 상병급여를 지급받을 수 있다.  
 ㄹ. B 씨는 요리 학원에 등록하여 수강할 경우 훈련연장급여를 지급받을 수 있다.

- ① ㄱ, ㄴ      ② ㄱ, ㄷ      ③ ㄴ, ㄷ      ④ ㄴ, ㄹ      ⑤ ㄷ, ㄹ



## 4 (성공적인 직업생활)      직업탐구 영역

16. 다음은 ○○ 회사의 조직 변경에 대한 질의응답이다. 현재 회사의 종류 (가)와 변경할 방안으로 제시된 회사의 종류 (나)에 대한 설명으로 옳은 것은? [3점]

질의응답 게시판

질의

현재 저희 ○○ 회사는 무한책임사원만으로 구성되어 있습니다. 최근 공장 증설을 위한 자금을 조달할 필요가 있지만 대출받기 곤란한 상황입니다. 조직 변경을 통한 해결 방안이 있을까요?

답변

네, 귀사의 경우에는 아래와 같은 법령에 의거하여 회사의 종류를 변경하고 유한책임사원으로부터 출자를 받을 수 있습니다.  
「상법」제242조(조직변경)  
□(가)는 총사원의 동의로 일부사원을 유한책임사원으로 하거나 유한책임사원을 새로 가입시켜서 □(나)로 변경할 수 있다.

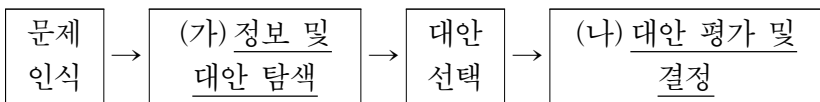
- ① (가)의 사원은 다른 사원의 동의를 얻지 아니하면 그 지분의 전부 또는 일부를 타인에게 양도하지 못한다.
- ② (나)의 각 사원은 출자 1좌마다 1개의 의결권을 가진다.
- ③ (나)의 유한책임사원은 정관에 다른 규정이 없는 때에는 회사의 업무를 집행할 권리와 의무가 있다.
- ④ (가)와 (나)는 자본을 증권화하여 유통할 수 있다.
- ⑤ 제시된 방안을 실행할 경우 ○○ 회사는 물적 회사에서 인적 회사로 변경된다.

17. 다음 글에 나타난 직업기초능력을 향상시키기 위한 방법으로 가장 적절한 것은?

정약용은 수원 화성을 축조하라는 명을 받고 건설에 필요한 기계장비의 원리를 학습하였다. 이를 적용해 무거운 물체를 들어 올리는 거중기를 제작하고, 이후 수원 화성을 쌓는 데 활용하였다.

- ① 다양한 협상 전략을 이해하고 활용한다.
- ② 경청과 지원을 통하여 팀원들의 동기를 유발한다.
- ③ 팀원의 특성을 이해하여 적재적소에 인원을 배치한다.
- ④ 필요한 과업을 파악하고 효과적으로 예산을 수립한다.
- ⑤ 미래 사회에 유용한 기술을 예측하고 이해하여 해당 기술을 업무에 효과적으로 적용한다.

18. 다음 진로 의사 결정 과정 중 (가), (나)에 해당하는 활동 사례로 가장 적절한 것을 <보기>에서 고른 것은?



<보 기>

- 가. 적성 및 흥미 검사를 실시하고 평소 관심이 많았던 금융 분야 직업들에 대한 자료를 수집하였습니다.
- 나. 직업의 미래 전망, 급여, 복지 등을 기준으로 대안들을 비교하여 은행 사무원이 되기로 마음먹었습니다.
- 다. 특성화고등학교 3학년으로서 졸업 후 어느 분야로 진출할지 진지하게 고민할 필요성을 느꼈습니다.
- 르. 적성과 흥미를 고려하여 저에게 가장 적합한 직업을 3가지 (보험 설계사, 자산 운용가, 은행 사무원)로 추렸습니다.

- |   |     |     |   |     |     |
|---|-----|-----|---|-----|-----|
|   | (가) | (나) |   | (가) | (나) |
| ① | ㄱ   | ㄴ   | ② | ㄱ   | ㄷ   |
| ③ | ㄴ   | ㄷ   | ④ | ㄴ   | ㄹ   |
| ⑤ | ㄷ   | ㄹ   |   |     |     |

[19~20] 다음은 드라마의 인물 소개이다. 물음에 답하십시오.

드라마 ‘내 꿈을 요리하라’ 인물 소개

<div> <div>갑</div> </div>	요리에 소질과 흥미가 있음을 깨닫고, 적성 검사 결과를 바탕으로 오랜 조사와 깊은 고민 끝에 요리사가 되기로 결정한다. 이후 10년간 일하며 모은 돈과 금융 기관에서 빌린 돈으로 자신의 이름을 딴 개인 음식점을 창업하여 운영하게 된다.
<div> <div>을</div> </div>	갑의 아버지로 (주)○○국밥으로부터 원재료, 상점 관리 노하우 등을 제공받고 매달 가맹비를 지급하는 방법으로 창업하였다. 그러나 건강상의 이유로 사업 경영에 어려움을 겪으며 폐업 위기에 봉착하게 된다.
<div> <div>병</div> </div>	갑의 친구로 학창 시절 자신이 하고 싶은 일과 아버지의 강력한 권유 사이에서 소신 있게 결정하지 못하고 갈등하였으나, 결국 아버지의 바람대로 요리사의 길을 걷게 된다.
<div> <div>정</div> </div>	병의 아버지로 20살에 친구들과 떠난 여행 중 고속도로 휴게소에서 먹은 국밥에 매료되어 그 순간 국밥집 사장이 되기로 결심하였다. 이후 30년 동안 일해 (주)○○국밥이라는 새로운 회사를 설립하고 사업을 확장한다.

19. 위에 나타난 인물의 직업 선택 시 의사 결정 유형에 대한 설명으로 적절한 것만을 <보기>에서 고른 것은? (단, 의사 결정 유형은 하렌(Harren, V. A.)의 진로 의사 결정 유형 이론에 근거한 합리적, 직관적, 의존적 유형으로만 구분한다.)

<보 기>

- 가. 갑의 의사 결정 유형은 상상과 정서적 자각에 기초하여 의사 결정하는 유형이다.
- 나. 병의 의사 결정 유형은 충분한 정보를 수집, 분석하여 미래 상황까지 예측하는 유형이다.
- 다. 정의 의사 결정 유형은 즉흥적인 판단이나 직관으로 의사 결정하는 유형이다.
- 르. 병의 의사 결정 유형은 정의 의사 결정 유형에 비해 실패 시 타인을 탓하기 쉬운 유형이다.

- ① 가, 나    ② 가, 다    ③ 나, 다    ④ 나, 르    ⑤ 다, 르

20. 위에 나타난 창업 방법에 대한 설명으로 가장 적절한 것은? [3점]

- ① 갑의 창업 자본은 자기 자본과 타인 자본으로 구성되어 있다.
- ② 갑은 상표의 사용권, 상품의 판매권을 제공받는 대가로 비용을 지급한다.
- ③ 정이 회사를 창업한 방법은 프랜차이즈 창업에 해당한다.
- ④ 갑의 창업 방법은 을의 창업 방법에 비해 창업 이후 기업 운영에 있어 창업자의 자율적인 의사 결정이 어렵다.
- ⑤ 을의 창업 방법은 갑의 창업 방법에 비해 창업 준비 기간이 상대적으로 길다.

\* 확인 사항

- 답안지의 해당란에 필요한 내용을 정확히 기입(표기)했는지 확인하십시오.