

제 4 교시

직업탐구 영역(상업 경제)

성명

수험 번호

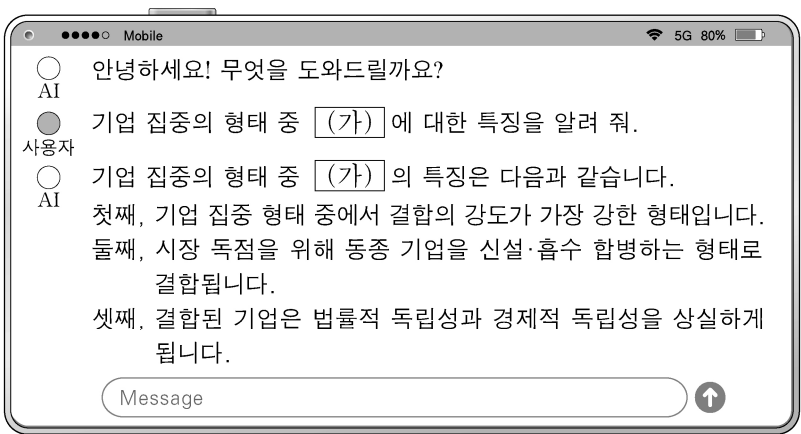
제 [    ] 선택

1. 다음은 경제 주체에 대한 부녀간의 대화 장면이다. (가)에 들어갈 내용으로 가장 적절한 것은?



- ① 조세를 징수하는
- ② 일자리를 창출하는
- ③ 생산 요소를 공급하는
- ④ 소비 활동을 담당하는
- ⑤ 공공 서비스를 제공하는

2. 다음은 생성형 인공지능(AI) 프로그램을 활용한 질문과 답변 내용이다. (가)에 들어갈 기업 집중의 형태로 옳은 것은?



- ① 카르텔
- ② 콘체른
- ③ 트러스트
- ④ 콤비나트
- ⑤ 컨글로머릿

3. 다음 사례에서 A 씨가 가입한 보험에 대한 설명으로 옳은 것만을 <보기>에서 있는 대로 고른 것은? [3점]

A 씨는 자신이 소유한 시가 10억 원의 건물에 대하여 ○○보험(주)과 화재 보험 계약을 체결하고 보험료를 납입하였다. 그 후 이 건물에 우연한 사고로 화재가 발생하여 ○○보험(주)에 보험금을 청구하였다. 손해 사정을 마친 ○○보험(주)는 손실을 건물 시가의 50%로 평가하고, 2억 5천만 원의 보험금을 A 씨에게 지급하였다.

<보 기>

- ㄱ. A 씨가 가입한 보험은 정액 보험이다.
- ㄴ. A 씨는 피보험자이자 보험 계약자이다.
- ㄷ. ○○보험(주)가 지급할 보험금의 최고 한도액은 5억 원이다.

- ① ㄱ
- ② ㄷ
- ③ ㄱ, ㄴ
- ④ ㄴ, ㄷ
- ⑤ ㄱ, ㄴ, ㄷ

4. 다음은 A 재화의 가격 변화에 따른 B, C 재화의 수요량 변화를 나타낸 것이다. A 재화와 B, C 재화 간의 관계로 가장 적절한 것은? (단, A 재화의 가격 변화에 의해서만 B, C 재화의 수요량이 변한다고 가정하고, A 재화는 수요 법칙에 따르며 다른 조건은 고려하지 않는다.) [3점]

A 재화의 현재 가격에 따른 B 재화의 수요량은 100개이고 C 재화의 수요량은 150개이다. 이후 A 재화의 가격이 상승 또는 하락하였을 때, B, C 재화의 수요량 변화는 다음과 같다.

<A 재화의 가격 변화에 따른 B, C 재화의 수요량 변화>

구분	A 재화의 가격 변화	
	상승	하락
B 재화 수요량(개)	140	80
C 재화 수요량(개)	130	180

A-B 재화 간의 관계

A-C 재화 간의 관계

- ① 독립재
- ② 독립재
- ③ 대체재
- ④ 대체재
- ⑤ 보완재
- 대체재
- 보완재
- 독립재
- 보완재
- 대체재

5. 다음은 ○○(주)에 대한 경영 컨설팅 보고서의 일부이다. [컨설팅 의견]을 반영할 경우 ○○(주)가 수행해야 할 업무로 적절한 것만을 <보기>에서 있는 대로 고른 것은?

○○(주) 경영 컨설팅 보고서

작성자: 경영지도사 A

[현재 상황]

- 경기 불황에 따라 매출액이 감소하고 있음.
- 경영 관리 순환 과정의 흐름이 원활하지 않음.
- 기능별 전문 관리자를 두는 현재의 조직은 구성원 간 협력이 잘 이루어지지 않고 있음.

[컨설팅 의견]

- 성과에 대한 평가 결과에 따라 경영 목표의 수정이 요구됨.
- 장기적인 경기 불황에 대비하기 위해 조직 내의 인력 규모 축소가 필요함.
- 현재의 조직과 프로젝트 조직을 결합하여 인적 자원의 효율적 운영이 가능한 형태로 조직 개편을 제안함.

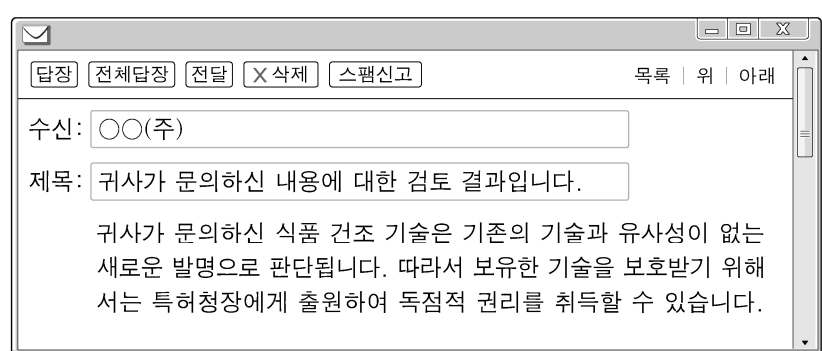
<보 기>

- ㄱ. 매트릭스 조직으로 조직 형태를 변경한다.
- ㄴ. 벤치마킹을 활용한 경영 혁신 방안을 도입한다.
- ㄷ. 통제 과정에 따른 결과를 지휘 과정에 반영한다.

- ① ㄱ
- ② ㄷ
- ③ ㄱ, ㄴ
- ④ ㄴ, ㄷ
- ⑤ ㄱ, ㄴ, ㄷ

## 2 (상업 경제) 직업탐구 영역

6. 다음은 ○○(주)가 전문가로부터 받은 이메일 내용이다. ○○(주)가 취득할 수 있는 무형 재화에 대한 설명으로 적절한 것은?



- ① 권리금으로 양도할 수 있다.
- ② 소비자의 욕구를 충족시켜 주는 물적 용역에 해당한다.
- ③ 10년마다 특허청장에게 신청하여 권리를 갱신할 수 있다.
- ④ 인간의 사상 또는 감정을 표현한 창작물에 대한 권리이다.
- ⑤ 권리의 존속 기간은 설정 등록한 날부터 출원일 후 20년이다.

[7~8] 다음은 ○○(주)의 무역 거래 내용 일부이다. 물음에 답하시오.

우리나라 ○○(주)는 베트남의 △△(주)로부터 커피 원두를 수입하여 가공하지 않고 원형 그대로 미국의 □□(주)에 수출하고 있다. 2023년과 2024년 ○○(주)의 수입 가격 조건과 이에 따른 판매 가격 구성은 다음과 같다.			
구분	연도별 박스당 수입 가격 조건		수입 가격 조건에 따른 연도별 박스당 판매 가격 구성 (단위: US \$)
	2023년	2024년	
품명	커피 원두	커피 원두	
단가	US \$15 (FOB* Saigon)	US \$30 (FOB* Saigon)	
해상 보험료	US \$2	US \$3	
해상 운임	US \$3	US \$4	

\* FOB는 인코텀스 2010 기준

구분	2023년	2024년
매입 가격	×××	×××
매입 제비용	×××	×××
영업 사원 인건비	3	4
상품 광고료	7	9
이익	10	10

7. 위 ○○(주)가 수행하고 있는 무역의 종류로 옳은 것은?
- ① 중계 무역      ② 중개 무역      ③ 구상 무역
  - ④ 삼각 무역      ⑤ 스위치 무역
8. 위 수입 가격 조건에 따른 연도별 박스당 판매 가격 구성에 대한 설명으로 옳은 것만을 <보기>에서 고른 것은? (단, 다른 비용은 고려하지 않는다.) [3점]

<보 기>

ㄱ. 2023년 이폭률은 50%이다.  
 ㄴ. 2024년 매입 원가는 US \$30이다.  
 ㄷ. 2024년 판매 가격은 2023년 판매 가격의 1.5배이다.  
 ㄹ. 2023년보다 2024년의 판매 원가는 US \$15 증가하였다.

- ① ㄱ, ㄴ    ② ㄱ, ㄷ    ③ ㄴ, ㄷ    ④ ㄴ, ㄹ    ⑤ ㄷ, ㄹ

9. 다음은 A, B 국의 고용 지표 산출을 위한 자료이다. 이를 통해 알 수 있는 내용으로 옳은 것만을 <보기>에서 고른 것은? [3점]

총인구수는 A 국이 100만 명이고, B 국이 200만 명이다.  
 그리고 A, B 국의 고용 관련 자료는 다음 표와 같다.

<A, B 국의 고용 관련 자료>

(단위: 만 명)

구분	A 국	B 국
경제 활동 인구	40	100
비경제 활동 인구	40	20
취업자	30	60
실업자	10	40

<보 기>

ㄱ. A 국의 경제 활동 참가율은 40%이다.  
 ㄴ. B 국의 실업률은 40%이다.  
 ㄷ. A, B 국의 고용률은 같다.  
 ㄹ. 노동 가능 인구는 A 국이 80만 명, B 국은 120만 명이다.

- ① ㄱ, ㄴ    ② ㄱ, ㄷ    ③ ㄴ, ㄷ    ④ ㄴ, ㄹ    ⑤ ㄷ, ㄹ

10. 다음은 ○○상점의 월별 매매 관련 내용이다. [변경 전]과 [변경 후]의 매입 방법에 따라 ○○상점이 얻을 수 있는 효과로 적절한 것만을 <보기>에서 고른 것은? [3점]

○○상점은 달걀을 매입하여 주말 장터에서 소비자에게 판매 하고 [변경 전] 매매 일지를 작성하였다. 하지만 이 매입 방법은 한꺼번에 많은 양을 매입함에 따라 재고가 발생하는 문제점이 나타났다. 이 문제점을 해결하기 위해 주별 판매량을 분석하여 매입 방법을 변경하고 [변경 후] 매매 일지를 작성하였다.

[변경 전]			[변경 후]		
9월 매매 일지 (단위: 판)			10월 매매 일지 (단위: 판)		
일자	매입	판매	일자	매입	판매
7일	100	20	5일	20	20
14일		20	12일	20	20
21일		20	19일	20	20

<보 기>

ㄱ. [변경 전]은 [변경 후]보다 상품 회전율을 높일 수 있다.  
 ㄴ. [변경 전]은 [변경 후]보다 매입 가격의 할인 가능성이 높을 것이다.  
 ㄷ. [변경 후]는 [변경 전]보다 보관 비용 부담이 줄어들 것이다.  
 ㄹ. [변경 후]는 [변경 전]보다 예상치 못한 급격한 수요 증가에 대비할 수 있다.

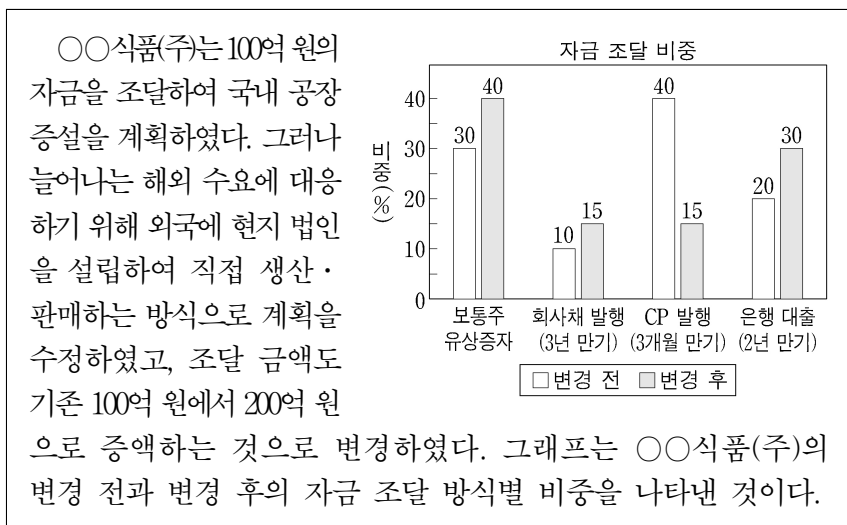
- ① ㄱ, ㄴ    ② ㄱ, ㄷ    ③ ㄴ, ㄷ    ④ ㄴ, ㄹ    ⑤ ㄷ, ㄹ

11. 다음 인터뷰 장면에서 유통 전문가 A, B 씨가 언급한 경쟁 매매 방식의 공통점으로 적절한 것은?



- ① 상대매매 방식이다.
- ② 판매자가 다수이다.
- ③ 적하법을 사용하여 가격을 결정한다.
- ④ 구두나 손짓 등으로 가격을 제시한다.
- ⑤ 매매 가격은 최고 가격으로 결정한다.

[12~13] 다음은 ○○식품(주)의 해외 진출 사례이다. 물음에 답하시오.



12. 위 ○○식품(주)가 추진하고자 하는 해외 진출 방식으로 옳은 것은?

- ① 계약 생산      ② 국제 라이선싱      ③ 경영 관리 계약
- ④ 해외 직접 투자      ⑤ 국제 프랜차이즈

13. 위 ○○식품(주)의 자금 조달 비중에 따른 조달 금액에 대한 설명으로 옳은 것만을 <보기>에서 고른 것은? [3점]

<보 기>

ㄱ. 변경 전, 자본 시장을 통해 조달할 자금은 40억 원이다.  
 ㄴ. 변경 후, 증권 발행 시장을 통해 조달할 자금은 60억 원이다.  
 ㄷ. 변경 전보다 변경 후 자기 자본에 해당하는 조달 자금은 50억 원이 증가하였다.  
 ㄹ. 변경 전보다 변경 후 원금 상환 방식에 해당하는 조달 자금은 60억 원이 증가하였다.

- ① ㄱ, ㄴ      ② ㄱ, ㄷ      ③ ㄴ, ㄷ      ④ ㄴ, ㄹ      ⑤ ㄷ, ㄹ

14. 표는 미 달러화 대비 A, B 국의 월별 통화 가치 변동 추이를 나타낸 것이다. 이와 같은 추이를 초래할 수 있는 요인으로 적절한 것은? (단, 기준 월은 1월이며, 미 달러화의 수요와 공급에 따른 환율 변동만 고려한다.) [3점]

<미 달러화 대비 A, B 국의 월별 통화 가치 변동률>

(단위: %)

국가	월	1월	2월	3월	4월
A 국		-1	-3	-5	-7
B 국		1	4	8	12

- ① 미국 기업이 A 국에 지급한 상품 수입액이 증가하였다.
- ② A 국의 투자자가 미국 주식 시장에 투자한 금액이 증가하였다.
- ③ B 국 기업이 미국 기업에 지급한 건물 시공비가 증가하였다.
- ④ 미국 기업이 B 국의 자선 단체에 제공한 기부금은 감소하였다.
- ⑤ 미국으로 여행 가는 여행객이 지출한 경비가 A 국은 감소, B 국은 증가하였다.

15. 다음 기사에 나타난 상황에 따라 한국은행이 취할 수 있는 통화 정책으로 적절한 것만을 <보기>에서 고른 것은? (단, 물가만 고려하고, 금융 기관은 한국은행 거래 대상 기관이다.) [3점]

한국은행 총재는 국정 감사\*에서 “앞으로 상당 기간 물가 안정에 중점을 두고 긴축적인 통화 정책을 시행할 필요가 있다.”고 강조했다. 그는 “물가가 여전히 목표 수준인 2%를 상당히 상회하는 가운데 국제 유가도 오르고 있는 상황”이라고 밝혔다.

\* 국정 감사는 국회가 행정부의 국정 수행이나 예산 집행 등에 대해 감사하는 활동을 말한다.

- ○○신문, 2023년 10월 23일 자 -

<보 기>

- ㄱ. 금융 기관에 대한 대출을 확대한다.
- ㄴ. RP매매로 국채를 금융 기관에 매각한다.
- ㄷ. 금융 기관의 통화안정계정 예치 규모를 확대한다.
- ㄹ. 금융 기관이 보유한 통화안정증권을 중도 환매한다.

- ① ㄱ, ㄴ      ② ㄱ, ㄷ      ③ ㄴ, ㄷ      ④ ㄴ, ㄹ      ⑤ ㄷ, ㄹ

16. 다음은 장 종료 후 주식 시세표의 일부이다. 이에 대한 설명으로 옳은 것은?

주식 시세표					
(202×년 ××월 ××일)					
KOSPI지수 2,670.43(▲11.39)					(단위: 원)
종목	시가	종가	고가	저가	전일비
A	22,000	22,000	26,000	17,000	▲2,000
KOSDAQ지수 852.65(▲8.05)					(단위: 원)
종목	시가	종가	고가	저가	전일비
B	10,000	7,000	10,000	7,000	↓3,000

- ① A 종목의 당일 개장 가격은 전일 종가와 동일하다.
- ② A 종목이 속한 시장은 한국금융투자협회가 운영한다.
- ③ B 종목의 최소 주문 단위는 10주이다.
- ④ B 종목이 속한 시장의 지수는 기준 시점에 비해 약 8.05배 상승하였다.
- ⑤ A 종목은 장중 상한가를 기록하였고, B 종목은 하한가로 장을 마감하였다.



17. 다음 (가)~(다)는 현장 실습 사례이다. 이를 통해 알 수 있는 내용으로 적절한 것은?

- (가) A 학생은 ○○온라인 쇼핑몰에서 물품을 구매한 개인 고객이 인터넷 게시판에 남긴 문의 사항에 대해 실시간 답변하였다.
- (나) B 학생은 △△의류 점포에서 고객의 요구와 취향에 따라 맞춤형 스타일을 제안하여 설명하고, 고객에게 상품을 판매하였다.
- (다) C 학생은 □□생명(주)의 실습 담당자와 함께 고객과 약속한 장소로 찾아가 보험 상품을 설명하고 고객이 전자정부사이트에서 발급 받은 서류를 확인한 후 보험 계약을 체결하는 과정을 참관하였다.

- ① (가)에서 A 학생은 가상 공간에서 이루어지는 고객 관리 활동을 실습하였다.
- ② (나)에서 B 학생은 방문 판매 활동에 대해 실습하였다.
- ③ (다)에서 C 학생은 고객 발굴부터 사후 관리까지의 전 과정을 실습하였다.
- ④ (가)에서는 B2B, (다)에서는 G2C 전자 상거래가 활용되었다.
- ⑤ (나)와 (다)에서는 자금의 불일치를 해소하는 상업의 기능이 수행되었다.

18. 다음은 ○○(주)의 마케팅 전략 기획안 일부이다. (가)~(다) 단계에 대한 설명으로 적절한 것만을 <보기>에서 있는 대로 고른 것은?

○○(주)의 마케팅 전략 기획안

신상품 자전거 출시를 위한 마케팅 전략을 다음과 같이 단계별로 추진하고자 합니다.

단계	내용
(중략)	
(가)	• 연령대: 10~20대, 30~40대, 50대 이상 • 소득 수준: 고, 중, 저 • 구입 목적: 일상생활용, 레저 스포츠용

↓

Targeting	자전거를 일상생활용으로 사용하는 소득 수준이 낮은 10~20대
-----------	------------------------------------

↓

(나)

실용성

자사 상품

저가격

고가격

기능성

경쟁 상품

↓

(다)	• 자사의 대리점을 통해 판매 • 구입 시 안전 장비 세트를 사은품으로 증정
-----	---

<보 기>

- ㄱ. (가) 단계에서는 마케팅 전략에서 활용되는 3C 분석 결과를 모두 확인할 수 있다.
- ㄴ. (나) 단계에서는 경쟁 상품과 비교하여 고객의 마음속에 자사 상품을 인식시킬 위치를 선정하였다.
- ㄷ. (다) 단계에서는 마케팅 믹스 전략 중 유통 전략과 촉진 전략을 수립하였다.

- ① ㄱ      ② ㄷ      ③ ㄱ, ㄴ      ④ ㄴ, ㄷ      ⑤ ㄱ, ㄴ, ㄷ

19. 다음은 A 기업이 수행한 무역 관련 업무 내용이다. 이를 통해 알 수 있는 내용으로 옳은 것은? [3점]

한국의 A 기업은 미국의 B 기업과 무역 계약을 체결하였다. 이후 A 기업은 수출 물품을 선적하고 B/L을 수령하였다. 그리고 신용장의 조건과 일치하는 화환어음을 첨부하여 ○○은행에 수출환어음 매입 신청서를 제출하고 환어음 매입을 요청하였다.

수출 환어음 매입 신청서

(1) 신용장 및 선적 서류 내용

- L/C No.: KTK0124
- 발행 은행: △△은행
- 발행 일자: 2024년 4월 15일
- 수익자: A 기업 (중략)

(2) 매입 신청 내용

- 환어음 금액: US \$100,000

- ① A 기업은 선적 후 자본 증권에 해당하는 서류를 수령하였다.
- ② B 기업은 발행된 환어음의 지급을 보증한다.
- ③ A 기업은 △△은행을 지급인으로 하는 환어음을 발행하였다.
- ④ B 기업은 ○○은행에 신용장 개설을 요청하였다.
- ⑤ ○○은행은 추심 의뢰 은행, △△은행은 추심 은행이다.

20. 다음은 A 국과 B, C 국 간 연도별 경제 통합 과정이다. 경제 통합 단계별로 석탄 수입국인 A 국에서 나타나는 경제 현상으로 옳은 것만을 <보기>에서 있는 대로 고른 것은? (단, 가격 조건은 인코텀스 2010, 경제 통합 형태는 B. Balassa의 분류에 따른다.) [3점]

- A 국의 ○○(주)는 B, C 국가로부터 석탄 수입 시 수입 가격이 가장 낮은 국가를 수입국으로 결정하고 있다.
- 수입 가격 = 수입 단가 + 수입 관세
- 수입 관세 = 수입 단가 × 수입 관세율
- ○○(주)가 수입 관세를 부담하지 않으면 수입 가격은 수입 단가가 된다.
- A 국의 ○○(주)는 2022~2024년에 석탄을 수입할 때, B 국에는 DDP 조건, C 국에는 DAP 조건을 적용하고 있고, 석탄의 품질은 동일하다.

연도	경제 협정 체결 현황	B 국으로부터 수입하는 석탄		C 국으로부터 수입하는 석탄	
		수입 단가 (US \$/ton)	수입 관세율 (%)	수입 단가 (US \$/ton)	수입 관세율 (%)
2022년	협정 미체결	130	20	120	20
2023년	FTA (A 국↔B 국)	130	0	120	20
2024년	공동 시장 (A 국↔C 국)	130	0	120	0

<보 기>

- ㄱ. 2022년 ○○(주)는 B 국에서 석탄을 수입하며 톤당 수입 가격은 US \$130이다.
- ㄴ. 2023년 A, B 국은 생산에 필요한 노동과 자본의 이동이 자유로워진다.
- ㄷ. 2024년 A 국은 ○○(주)의 석탄 수입 시 2023년 대비 톤당 US \$24의 관세 수입이 감소한다.

- ① ㄱ      ② ㄷ      ③ ㄱ, ㄴ      ④ ㄴ, ㄷ      ⑤ ㄱ, ㄴ, ㄷ

\* 확인 사항

- 답안지의 해당란에 필요한 내용을 정확히 기입(표기)했는지 확인 하시오.