

제 4 교시

직업탐구 영역(상업 경제)

성명

수험번호

3

제 () 선택

1. 다음은 국제 환경 협약 관련 수행 평가지이다. (가)~(다)에 대한 내용으로 적절한 것만을 <보기>에서 있는 대로 고른 것은?

수행 평가지

[문제] 국제 환경 협약의 명칭을 작성하시오.

[채점 기준] 협약 체결 목적에 따른 국제 환경 협약의 명칭이 맞을 때마다 각각 1점씩 부여함.

[답안지]

협약 체결 목적	답안 작성 (국제 환경 협약의 명칭)	받은 점수
온실가스 배출 규제	• 교토 의정서 • (가)	2점
(나)	• 빈 협약 • 몬트리올 의정서	2점
습지 보호	• 바젤 협약 • 람사르 협약	(다)

ㄱ. (가)에는 '런던 협약'이 들어갈 수 있다.
ㄴ. (나)에 해당하는 협약 체결 목적은 '오존층 보호'이다.
ㄷ. (다)에 들어갈 점수는 '2점'이다.

① ㄱ ② ㄴ ③ ㄱ, ㄷ ④ ㄴ, ㄷ ⑤ ㄱ, ㄴ, ㄷ

2. 다음은 무역 계약 조건에 따라 가입한 해상 적하 보험 증권의 일부이다. 이를 통해 알 수 있는 내용으로 적절한 것만을 <보기>에서 고른 것은? (단, 가격 조건은 인코텀스 2010의 CIF에 의한 다.) [3점]

해상 적하 보험 증권

피보험자: A 기업		신용장 번호(L/C No.):	
보험자: ○○보험(주)		MXXXX-2507-BS-XXXXX	
보험 계약자: B 기업			
효력 시작 장소	부산항의 본선상	보험 조건	ICC(C)
효력 종료 장소	뉴욕항	화물 명세	곡물 10ton(M/T)

ㄱ. 수출 물품의 품질은 선적 시점에 결정된다.
ㄴ. A 기업은 수입업자, B 기업은 수출업자이다.
ㄷ. 수출 물품에 대한 보험 조건은 전 위험 담보 조건이다.
ㄹ. 물품의 위험 분기점과 비용 분기점은 부산항의 본선상으로 동일하다.

① ㄱ, ㄴ ② ㄱ, ㄷ ③ ㄴ, ㄷ ④ ㄴ, ㄹ ⑤ ㄷ, ㄹ

[3~4] 다음은 ○○(주)의 인턴십 프로그램 참여자 모집 공고이다. 물음에 답하시오.

2025년 인턴십 프로그램 참여자 모집 공고

○ 모집 개요

부문	모집 인원	인턴십 업무
창구 사무	00명	• 예금 및 대출 업무 • 방카슈랑스 업무

○ 인턴십 우수 활동자 혜택

– 인턴십 프로그램 종료 후 종합 평가를 통해 수료자 중 우수자 30%를 신입 사원으로 채용 예정임.

3. 위 자료의 '인턴십 업무'에 나타난 상업의 기능으로 적절한 것만을 <보기>에서 고른 것은?

ㄱ. 시간적 불일치 해소 ㄴ. 자금의 불일치 해소
ㄷ. 장소적 불일치 해소 ㄹ. 경제적 손실 위험 해소

① ㄱ, ㄴ ② ㄱ, ㄷ ③ ㄴ, ㄷ ④ ㄴ, ㄹ ⑤ ㄷ, ㄹ

4. 위 자료의 '인턴십 우수 활동자 혜택'에 나타난 업무를 수행하는 기업의 부문별 활동 내용으로 적절한 것은?

- ① 자금의 조달 및 운용 계획을 수립한다.
② 품질 관리를 위해 생산 공정을 점검한다.
③ 소비자의 욕구 파악을 위해 시장 조사를 실시한다.
④ 재무제표를 작성하여 외부 정보 이용자에게 제공한다.
⑤ 조직 구성원의 인사 고과에 따른 경제적 보상을 관리한다.

5. 다음 AI와의 대화에 나타난 A~D에 해당하는 운송 수단을 기차, 트럭, 항공기, 화물선의 순서대로 옳게 배열한 것은? [3점]

우리나라 상거래에서 가장 많이 활용되는 운송 수단을 알려 주래?

AI> 화물량 기준으로 한국의 국내 거래에서는 A가, 무역 거래에서는 B가 가장 많이 활용돼요.

운송 수단 A~D의 상대적인 특징을 표로 비교해 줘.

AI> 좋아요! 요청하신 내용을 표로 정리해 봤어요.

비교 대상	비교 내용
A와 B	A는 근거리 운송, B는 원거리 운송에 적합함.
B와 C	B는 C보다 적재 가능 용량이 큼.
C와 D	C는 D보다 날씨의 영향을 더 많이 받음.
D와 A	D는 A보다 원거리 운송 시 단위당 운임이 저렴함.

① C-A-B-D ② C-A-D-B ③ C-D-A-B
④ D-A-B-C ⑤ D-A-C-B

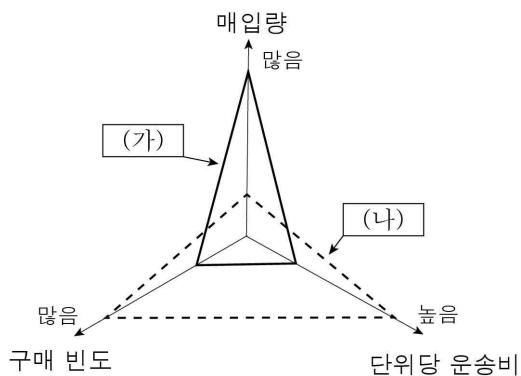
6. 표는 질문의 답변에 따라 상업의 주체 A~C를 구분한 것이다. 이에 대한 설명으로 적절한 것만을 <보기>에서 고른 것은? (단, A~C는 대리상, 중개인, 상업 사용인 중 각각 하나이다.)

질문 \ 상업의 주체	A	B	C
타인 명의로 거래하는가?	예	아니요	아니요
특정 상인과 종속 관계를 가지는가?	아니요	아니요	예
(가)	아니요	예	예

- < 보 기 > —
- ㄱ. A는 특정 상인으로부터 보수를 받는다.
 ㄴ. B는 본인 명의로 거래한다.
 ㄷ. C의 사례로는 부동산 중개인이 있다.
 ㄹ. (가)에는 ‘경업 금지 의무가 있는가?’가 들어갈 수 있다.

- ① ㄱ, ㄴ ② ㄱ, ㄷ ③ ㄴ, ㄷ ④ ㄴ, ㄹ ⑤ ㄷ, ㄹ

7. 그래프는 매입 방법 (가), (나)를 세 가지 기준으로 비교하여 구분한 것이다. (가), (나)에 대한 내용으로 적절한 것만을 <보기>에서 있는 대로 고른 것은? (단, (가), (나)는 당용 매입, 입도선매 중 각각 하나이다.)



- < 보 기 > —
- ㄱ. (가)는 상품 인도 시까지 감시 비용이 발생한다.
 ㄴ. (나)는 (가)보다 상품 매입 시 높은 가격 할인율을 적용 받는다.
 ㄷ. (가)는 입도선매, (나)는 당용 매입에 해당한다.

- ① ㄱ ② ㄴ ③ ㄱ, ㄷ ④ ㄴ, ㄷ ⑤ ㄱ, ㄴ, ㄷ

8. 다음 기업 분석 보고서에 나타난 물류 정보 시스템으로 가장 적절한 것은?

OO(주) 기업 분석 보고서	
구분	분석 내용
기업 혁신 사례	<ul style="list-style-type: none"> 추진 목표: 물류 운영의 효율성 극대화 경영 사례: 자재 조달, 제품의 생산·판매 및 배송에 이르기까지 생산자와 고객을 연결하는 모든 공급망을 체계적으로 관리함으로써 추진 목표를 달성함.

- ① 공급 사슬 관리(SCM) ② 전자 문서 교환(EDI)
 ③ 첨단 화물 운송(CVO) ④ 유닛 로드 시스템(ULS)
 ⑤ 전자 주문 시스템(EOS)

9. 다음은 A 씨의 보험 사례를 나타낸 것이다. 이를 통해 알 수 있는 내용으로 적절한 것만을 <보기>에서 고른 것은? [3점]

일자	내용
5월 1일	소유 건물에 대해 ○○보험(주)의 화재 보험에 가입함.
5월 8일	소유 건물의 용도를 주거용에서 상업용으로 변경하였고, 해당 사실을 ○○보험(주)에 통보함.
6월 1일	소유 건물에 화재가 발생하여 ○○보험(주)에 사고를 접수하고 보험금을 청구함.
7월 3일	○○보험(주)로부터 6월 1일에 접수한 사고로 인해 발생한 손해가 보험 사고에 해당한다고 통지를 받음.
7월 5일	○○보험(주)로부터 보험금을 수령함.

- < 보 기 > —
- ㄱ. 5월 1일에 A 씨가 가입한 보험은 장기 보험에 해당한다.
 ㄴ. 5월 8일에 A 씨는 고지 의무를 이행하였다.
 ㄷ. 6월 1일 A 씨가 접수한 사고에 대해 ○○보험(주)는 손해 사정 업무를 실시하였다.
 ㄹ. 7월 5일에 A 씨는 비례 보상의 원칙에 의해 산출된 보험금을 수령하였다.

- ① ㄱ, ㄴ ② ㄱ, ㄷ ③ ㄴ, ㄷ ④ ㄴ, ㄹ ⑤ ㄷ, ㄹ

10. 다음은 A~D국의 경제 통합 상황을 나타낸 것이다. A~D국에서 나타날 수 있는 경제 현상으로 적절한 것만을 <보기>에서 고른 것은? (단, 경제 통합 단계는 B. Balassa의 분류에 의하며, 제시된 자료 외에는 고려하지 않는다.) [3점]

[2024년]	[2025년]
<ul style="list-style-type: none"> A국과 B국은 어느 국가와도 경제 협정이 체결되어 있지 않음. C국과 D국은 공동 시장을 체결 및 발효함. 	<ul style="list-style-type: none"> C국과 D국은 완전 경제 통합을 체결 및 발효함. B국은 C국, D국이 속한 완전 경제 통합과 관세 동맹을 체결 및 발효함.

- < 보 기 > —
- ㄱ. 2024년에 C국과 D국은 생산 요소의 이동이 자유롭다.
 ㄴ. 2025년에 B국은 C국, D국과 단일 화폐를 사용하게 된다.
 ㄷ. 2025년에 B~D국은 A국으로부터 수입하는 물품에 대하여 공동 관세율을 적용하게 된다.
 ㄹ. 2024년과 2025년 모두 C국과 D국은 공동 경제 정책을 수립하여 운영하게 된다.

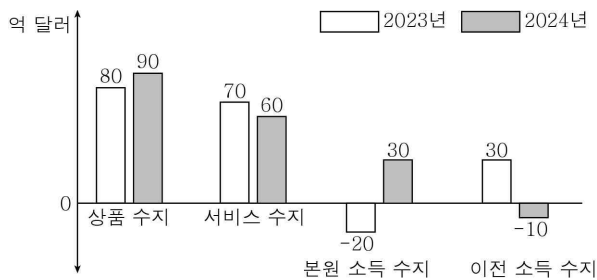
- ① ㄱ, ㄴ ② ㄱ, ㄷ ③ ㄴ, ㄷ ④ ㄴ, ㄹ ⑤ ㄷ, ㄹ

11. 그림의 대화 장면에서 나타난 환율 변동 추세가 지속될 경우 우리나라의 입장에서 나타날 수 있는 경제 현상을 유추한 것으로 가장 적절한 것은? (단, 미 달러화의 수요와 공급에 따른 환율 변동만 고려하며, 환전을 전제로 한다.) [3점]



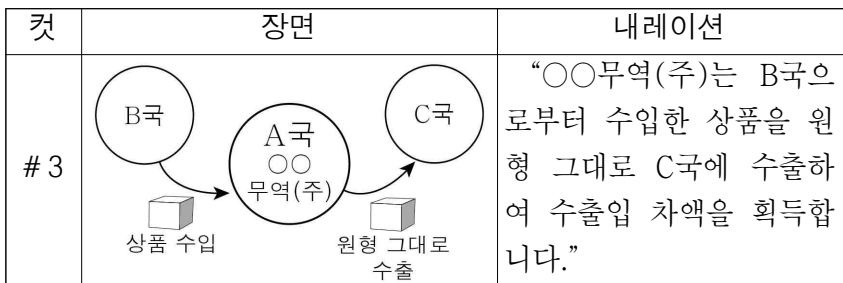
- ① 우리나라 국민의 미국 여행이 증가할 것이다.
- ② 국내 기업의 미국 상품에 대한 수입이 감소할 것이다.
- ③ 수입 원자재 가격 하락으로 국내 물가가 하락할 것이다.
- ④ 국내 기업의 미 달러 표시 외채 상환 부담이 감소할 것이다.
- ⑤ 대미 수출 시 후급보다 상환급으로 계약하는 비중이 증가할 것이다.

12. 그래프는 A국의 2023년, 2024년 경상 수지를 나타낸 것이다. 이를 분석한 내용으로 옳은 것은? [3점]



- ① 2023년 해외에 무상 원조한 금액이 속하는 수지는 20억 달러 적자를 기록하였다.
- ② 2023년 해외로 수출한 상품 금액은 해외로부터 수입한 상품 금액보다 90억 달러 많았다.
- ③ 2024년 특허권 이용 수수료가 반영되는 수지는 해외로부터 수취한 금액이 해외에 지급한 금액보다 60억 달러 많았다.
- ④ 2023년 대비 2024년 경상 수지의 흑자 규모는 10억 달러 축소되었다.
- ⑤ 2023년 대비 2024년 해외 투자자에게 지급한 배당금이 반영되는 수지는 흑자에서 적자로 전환되었다.

13. 다음은 A국 ○○무역(주)의 기업 소개 영상 스토리보드이다. 이에 나타난 무역의 종류로 가장 적절한 것은?



- ① 구상 무역 ② 대응 구매 ③ 중개 무역
- ④ 중계 무역 ⑤ 통과 무역

14. 다음은 ○○화장품 마케팅 전략 수립 계획서의 일부이다. 이를 통해 알 수 있는 내용으로 적절한 것은? [3점]

○○화장품 마케팅 전략 수립 계획서

단계	내용
STP 전략	소비자가 추구하는 편익(노화 방지, 미백 관리, 트러블 개선)을 기준으로 시장을 세분화함.
	모든 세분 시장을 표적 시장으로 선정하여 세분 시장별로 마케팅 전략을 수립함.

(중략)

	제품	제품 기능	가격	유통 경로	촉진
마케팅 믹스 전략	A	노화 방지	고가격	전속적	PR 활동
	B	미백 관리	저가격	개방적	광고
	C	트러블 개선	저가격	선택적	판매 촉진

- ① 제품 A는 ‘저가의 기능성 화장품’으로 포지셔닝하였다.
- ② 제품 B는 전매권을 부여한 직영점에서 판매하게 될 것이다.
- ③ 제품 C는 뉴스 기사를 통하여 홍보를 진행하게 될 것이다.
- ④ 제품 A ~ C에 대해 비차별적 마케팅 전략을 수립하였다.
- ⑤ ○○화장품은 행동적 변수를 기준으로 시장을 세분화하였다.

15. 다음은 A 씨의 창업 과정을 나타낸 것이다. 이에 대한 설명으로 적절한 것만을 <보기>에서 있는 대로 고른 것은?

A 씨는 유아를 대상으로 한 교육 서비스의 제공 및 학습 교구의 판매를 위해 창업 계획을 수립하고, 창업 절차에 따라 영업을 준비하여 개업하였다.

창업 계획	<ul style="list-style-type: none"> • 판매 품목: 학습 교구 및 서적, 교육 서비스 • 판매 방식: 방문 판매 • 목표 고객: 6세 이하 유아가 있는 가정 및 기관 등
-------	--



창업 절차	<ul style="list-style-type: none"> • 사업 계획서 작성 • 사업자 등록 신청(국세청의 홈택스 홈페이지 활용) • 방문 판매업 신고 및 영업 개시
-------	---

< 보 기 >

- ㄱ. 판매 방식은 무점포 소매업에서 활용하는 방식에 해당한다.
- ㄴ. 사업자 등록 신청을 위해 이용한 전자 상거래 유형은 B2C이다.
- ㄷ. A 씨는 목표 고객의 가정이나 기관에 직접 방문하여 상품을 판매한다.

- ① ㄱ ② ㄴ ③ ㄱ, ㄷ ④ ㄴ, ㄷ ⑤ ㄱ, ㄴ, ㄷ

[16~17] 다음은 ○○(주)의 이사회 회의록이다. 물음에 답하시오.

이사회 회의록				
일시	2025. 7. 18.(금)		장소	대회의실
안건	사업 구조 변경 및 자금 조달 계획 수립의 건			
현황	자사는 오픈 마켓 플랫폼을 운영하고 있으나 위탁 물류비 상승으로 영업 이익이 감소하고 있음.			
의결 내용	<ul style="list-style-type: none">• 사업 구조 변경 : 중소 규모의 물류 기업을 인수·합병(M&A)하여 사업 구조를 재구축하기로 함.• 자금 조달 계획 : 인수·합병(M&A)을 위한 500억 원 규모의 자금을 다음과 같이 조달하기로 함.			
	조달 시장			조달 비율
	단기 금융 시장			10%
	간접 금융 시장(타인 자본)			20%
	자본 시장 (발행 시장)	자기 자본		30%
		타인 자본		40%

16. 위 ‘사업 구조 변경’에 나타난 경영 혁신 기법으로 적절한 것은?

- ① 벤치마킹 ② 아웃소싱 ③ 다운사이징
④ 식스 시그마 ⑤ 리스트럭처링

17. 위 ‘자금 조달 계획’에 따라 ○○(주)가 실행할 수 있는 자금 조달 방안으로 적절한 것만을 <보기>에서 고른 것은? [3점]

< 보 기 >

- ㄱ. 자기 주식 150억 원 장내 처분
ㄴ. 3년 만기의 회사채 200억 원 발행
ㄷ. 시중 은행으로부터 200억 원 차입
ㄹ. 6개월 만기의 기업 어음(CP) 50억 원 발행

- ① ㄱ, ㄴ ② ㄱ, ㄷ ③ ㄴ, ㄷ ④ ㄴ, ㄹ ⑤ ㄷ, ㄹ

18. 다음 수업 장면에서 나타난 (가)에 해당하는 경영 관리 순환 과정의 사례로 적절한 것은? (단, 경영 관리 순환 과정은 계획, 조직, 지휘, 통제에 한정한다.)

다음의 조선 시대 군주들이 발휘한 역량은 오늘날 경영 관리 순환 과정 중 (가)에 해당합니다.

군주	역량 발휘 사례
세종	민주형 리더십을 발휘하여 신하들의 사기를 북돋움.
태종	신문고를 설치하여 백성과의 의사소통을 강화함.

- ① 사업 단위별로 책임과 권한을 부여하여 효율성을 높인다.
② 영업 이익률을 10% 이상 확보하는 것을 목표로 설정한다.
③ 업무의 효과성 및 효율성 증대를 위해 조직 구조를 변경한다.
④ 근로 의욕을 높이기 위한 다양한 복지 혜택을 제공하여 종업원들에게 동기를 부여한다.
⑤ 연말 업무 성과를 평가하기 위해 연초에 설정한 성과 측정 기준에 따라 목표의 달성 여부를 점검한다.

19. 다음은 ○○상사의 무역 대금 결제 장부이다. 이를 통해 알 수 있는 무역 거래 당사자가 수행한 업무로 적절한 것만을 <보기>에서 고른 것은? [3점]

○○상사 무역 대금 결제 장부					
분기	거래 구분	거래처	결제 방식	금액	
1분기	<input checked="" type="checkbox"/> 수입 <input type="checkbox"/> 수출	A 사	D/P	US \$100	
2분기	<input checked="" type="checkbox"/> 수입 <input type="checkbox"/> 수출	B 사	Usance L/C	US \$300	
3분기	<input type="checkbox"/> 수입 <input checked="" type="checkbox"/> 수출	A 사	청산 계정* (O/A)	US \$250	
	<input checked="" type="checkbox"/> 수입 <input type="checkbox"/> 수출	A 사		US \$700	
4분기	<input type="checkbox"/> 수입 <input checked="" type="checkbox"/> 수출	B 사	At sight L/C	US \$600	

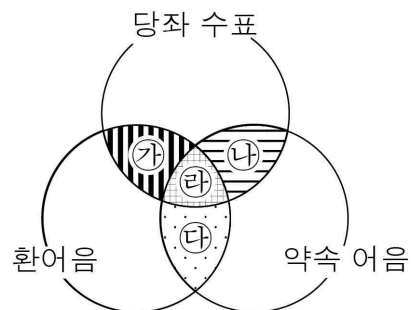
* 매 분기 말, 결제 대금 정산

< 보 기 >

- ㄱ. 2분기의 대금 결제를 위해 ○○상사의 거래 은행은 ○○상사를 대신하여 수입 대금 지급을 약속하였다.
ㄴ. 3분기 말 ○○상사는 무역 결제 대금의 정산을 위해 A 사에 US \$450를 지불하였다.
ㄷ. 4분기의 대금 결제를 위해 ○○상사는 B 사를 지급인으로 하는 환어음을 발행하였다.
ㄹ. 1~2분기의 대금 결제 시 ○○상사는 후급보다 상환급에 해당하는 결제 방식으로 더 많은 금액을 결제하였다.

- ① ㄱ, ㄴ ② ㄱ, ㄷ ③ ㄴ, ㄷ ④ ㄴ, ㄹ ⑤ ㄷ, ㄹ

20. 그림은 지급 수단의 특징을 나타낸 것이다. ㉠~㉣에 대한 설명으로 적절한 것만을 <보기>에서 고른 것은? (단, ㉠~㉣은 교차하는 지급 수단 간의 공통점을 나타낸다.) [3점]



< 보 기 >

- ㄱ. ㉠에는 ‘일정 금액의 지급을 위탁하는 수단이다.’가 들어갈 수 있다.
ㄴ. ㉡에는 ‘은행과 약정된 예금 한도 내에서만 발행한다.’가 들어갈 수 있다.
ㄷ. ㉢에는 ‘지급 수단의 필수 기재 사항으로 만기가 있다.’가 들어갈 수 있다.
ㄹ. ㉣에는 ‘자본 증권에 해당한다.’가 들어갈 수 있다.

- ① ㄱ, ㄴ ② ㄱ, ㄷ ③ ㄴ, ㄷ ④ ㄴ, ㄹ ⑤ ㄷ, ㄹ

* 확인 사항

- 답안지의 해당란에 필요한 내용을 정확히 기입(표기)했는지 확인하시오.