

제 4 교시

사회탐구 영역(세계지리)

성명

수험 번호

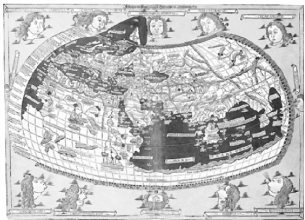
제 [] 선택


1. 표는 (가)~(다) 지도의 특징을 정리한 것이다. (가)~(다)에 해당하는 지도를 <보기>에서 고른 것은?

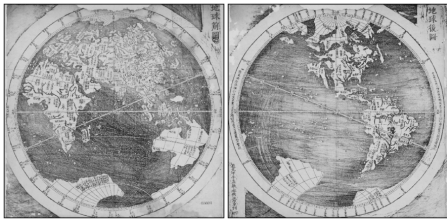
질문	지도	(가)	(나)	(다)
경위선 개념이 적용되었나요?		○	○	○
아메리카 대륙이 표현되어 있나요?		×	○	○
우리나라에서 제작되었나요?		×	×	○

* '○'는 예, '×'는 아니요를 의미함.

<보 기>

ㄱ. 
<프톨레마이오스 세계 지도>

ㄴ. 
<메르카토르 세계 지도>

ㄷ. 
<지구전후도>

- (가) (나) (다)

① ㄱ ㄴ ㄷ




② ㄴ ㄱ ㄷ

③ ㄷ ㄴ ㄱ
- (가) (나) (다)

④ ㄱ ㄷ ㄴ

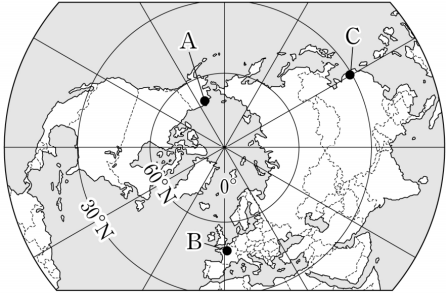
⑤ ㄴ ㄷ ㄱ

2. 다음 자료의 (가)~(다) 도시에 대한 설명으로 옳은 것은?

(가)		템스강 위 고딕 양식의 타워브리지는 이 도시의 랜드마크로 영화에 자주 등장한다. * 위·경도 : 51° 30' N, 0° 08' W
(나)		유럽 연합, 북대서양 조약 기구 등의 국제 기구 본부가 위치하는 도시이다. * 위·경도 : 50° 51' N, 4° 21' E
(다)		오페라하우스와 하버브리지가 주변의 아름다운 경관과 더불어 한눈에 들어온다. * 위·경도 : 33° 52' S, 151° 12' E

- ① (가)에는 국제 연합 본부가 위치한다.
- ② (나)는 해당 국가의 수도이다.
- ③ (다)의 랜드마크로는 에펠탑이 있다.
- ④ (다)가 속한 국가는 (나)가 속한 국가보다 인구 밀도가 높다.
- ⑤ (가)~(다)는 바다를 접하고 있는 항구 도시이다.

3. 지도의 A~C 지역에 대한 설명으로 옳은 것만을 <보기>에서 고른 것은? [3점]



<보 기>

ㄱ. A는 연중 얼음으로 덮여있다.

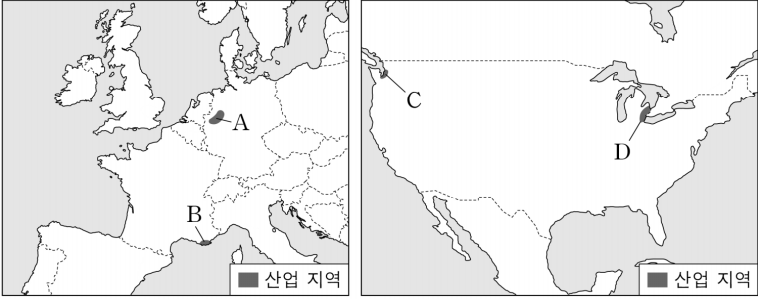
ㄴ. B는 A보다 1월의 태양 고도가 높다.

ㄷ. B는 C보다 여름 강수 집중률이 높다.

ㄹ. C는 B보다 기온의 연교차가 크다.

① ㄱ, ㄴ ② ㄱ, ㄷ ③ ㄴ, ㄷ ④ ㄴ, ㄹ ⑤ ㄷ, ㄹ

4. 지도의 A~D 지역에 대한 설명으로 옳은 것은? [3점]



- ① A에는 첨단 산업이 발달한 '케임브리지 사이언스 파크'가 있다.
- ② B에서 유럽의 산업 혁명이 시작되었다.
- ③ C는 미국 최대의 자동차 생산지이다.
- ④ D는 러스트 벨트에 해당한다.
- ⑤ B와 C는 각각 유럽과 미국의 철강 산업 중심지이다.

5. 다음 글의 ㉠~㉣에 대한 설명으로 옳은 것은? [3점]

권역은 세계를 나누는 공간 단위 중 하나이다. ㉠권역을 구분하는 기준은 다양하기 때문에 하나의 지역이 여러 권역에 포함되는 경우가 있는데, 튀르키예를 대표적인 사례로 들 수 있다. 튀르키예 도시 중 ㉡40° 54' N, 29° 09' E에 위치한 ㉢이스탄불은 유럽과 아시아의 연결 통로라는 지리적 특성을 가지고 있다. 이러한 지리적 특성은 두 종교 경관이 혼재하는 건축물인 ㉣아야 소피아에서 찾을 수 있다.

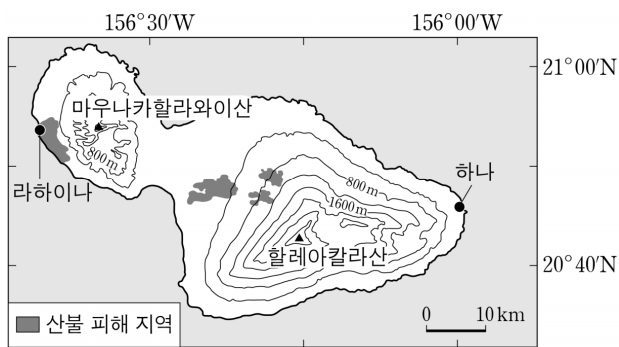
- ① ㉠의 문화 요소에는 민족과 언어가 있다.
- ② ㉡은 지리 정보 중 속성 정보이다.
- ③ ㉢은 튀르키예의 수도이다.
- ④ ㉢은 서울보다 본초 자오선과의 최단 거리가 멀다.
- ⑤ ㉣에서는 이슬람교와 불교의 경관이 나타난다.

2 (세계지리)

사회탐구 영역

6. 다음 자료에 나타난 지역에 대한 설명으로 옳은 것만을 <보기>에서 고른 것은? [3점]

2023년 8월, 하와이 ㉠마우이섬에서 발생한 대형 산불은 많은 인명과 재산의 피해를 일으켜, 역사적인 재난으로 기록되었다. 마우이섬은 두 개의 ㉡순상 화산인 할레아칼라산과 마우나카할라와이산으로 이루어졌다. 할레아칼라산 동쪽에 위치한 ㉢하나 지역은 연 강수량 2,000 mm 정도의 많은 비가 오지만, 마우나카할라와이산 서쪽에 있는 ㉣라하이나 지역은 연 강수량 500 mm 미만의 건조한 기후를 보인다.




<보 기>

- ㄱ. ㉠은 편서풍이 우세하게 부는 지역이다.
 ㄴ. ㉠은 두 판이 서로 충돌하는 곳에 위치한다.
 ㄷ. ㉡은 유동성이 큰 용암의 분출로 형성된다.
 ㄹ. ㉢과 ㉣의 연 강수량 차이는 주로 지형성 강수에서 비롯된다.

- ① ㄱ, ㄴ ② ㄱ, ㄷ ③ ㄴ, ㄷ ④ ㄴ, ㄹ ⑤ ㄷ, ㄹ

7. 다음은 세 국가의 지폐에 대한 자료이다. ㉠~㉣의 공통점으로 옳은 것만을 <보기>에서 고른 것은?



- ㉠ 히말라야산맥에 위치한 에베레스트산은 세계에서 가장 높은 산으로, 네팔의 과거 지폐에 그려져 있다.



- ㉡ 알프스산맥을 지나가는 쾰름 철도는 유명한 산악 철도 중 하나로, 오스트리아의 과거 지폐에 그려져 있다.



- ㉣ 안데스산맥에 위치한 마추픽추는 잉카 제국의 건축 유산으로, 페루의 과거 지폐에 그려져 있다.

<보 기>

- ㄱ. 신기 습곡 산지에 해당한다.
 ㄴ. '불의 고리'로 불리는 지역이다.
 ㄷ. 지각이 불안정하여 지진이 발생하는 지역이다.
 ㄹ. 판이 분리되어 새로운 지각이 형성되는 지역이다.

- ① ㄱ, ㄴ ② ㄱ, ㄷ ③ ㄴ, ㄷ ④ ㄴ, ㄹ ⑤ ㄷ, ㄹ

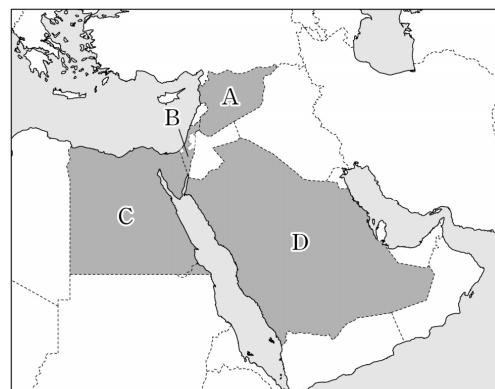
8. 표는 지도에 표시된 세 국가의 신자 수 상위 2개 종교를 나타낸 것이다. 이에 대한 설명으로 옳은 것은? (단, A~C는 각각 불교, 이슬람교, 힌두교 중 하나임.) [3점]

1위	A	B	C
2위	(가) 국가		(다) 국가
B			
C		(나) 국가	



- ① (나)는 중국과 국경을 접하고 있다.
 ② (다)는 불교도와 힌두교도 간 내전을 겪고 있다.
 ③ A는 C보다 발생 시기가 이른다.
 ④ A와 B는 남부 아시아에서 기원했다.
 ⑤ 전 세계 신자 수는 A > C > B 순으로 많다.

9. 지도의 A~D 국가에 대한 설명으로 옳은 것만을 <보기>에서 고른 것은?

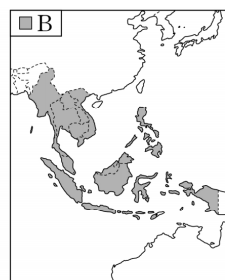
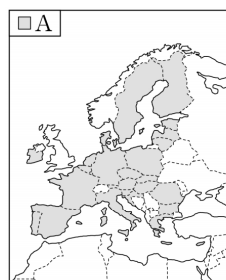


<보 기>

- ㄱ. A에는 유대교의 성지인 '통곡의 벽'이 있다.
 ㄴ. B에는 메카와 메디나가 있다.
 ㄷ. C는 수니파 교도가 시아파 교도보다 많다.
 ㄹ. D의 국교는 보편 종교로 분류된다.

- ① ㄱ, ㄴ ② ㄱ, ㄷ ③ ㄴ, ㄷ ④ ㄴ, ㄹ ⑤ ㄷ, ㄹ

10. 지도의 A~C 경제 블록에 대한 설명으로 옳은 것만을 <보기>에서 고른 것은? [3점]



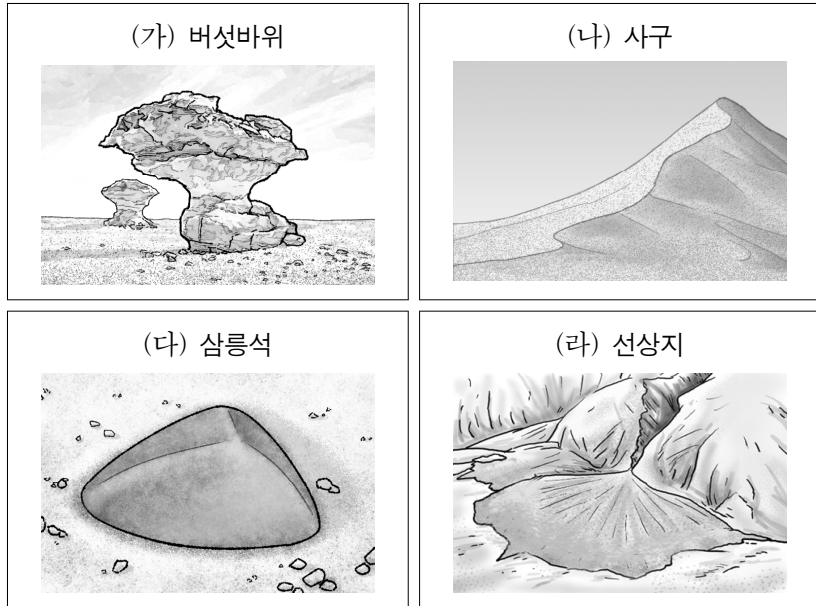
(2024년)

<보 기>

- ㄱ. 스위스는 2020년에 A에서 탈퇴했다.
 ㄴ. C는 달러화를 단일 통화로 사용한다.
 ㄷ. A는 B보다 정치·경제적 통합 수준이 높다.
 ㄹ. A~C 중 인구가 가장 많은 것은 B이다.

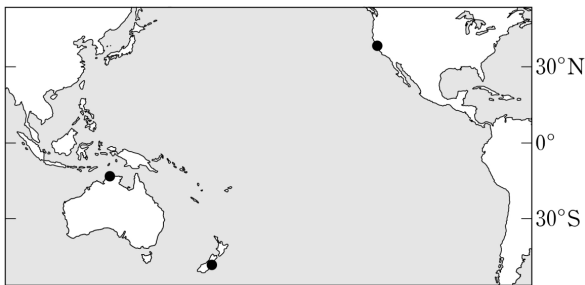
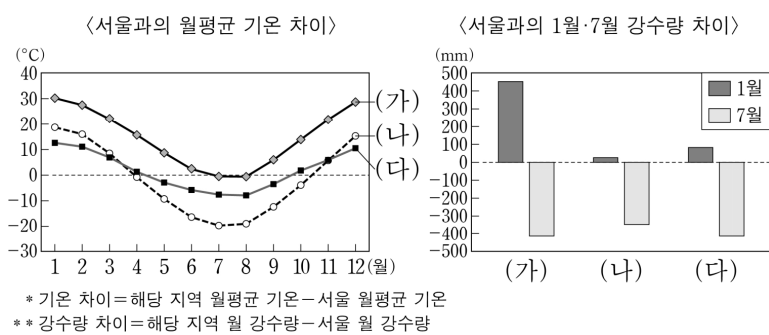
- ① ㄱ, ㄴ ② ㄱ, ㄷ ③ ㄴ, ㄷ ④ ㄴ, ㄹ ⑤ ㄷ, ㄹ

11. 다음 자료의 (가)~(라)에 대한 설명으로 옳지 않은 것은?



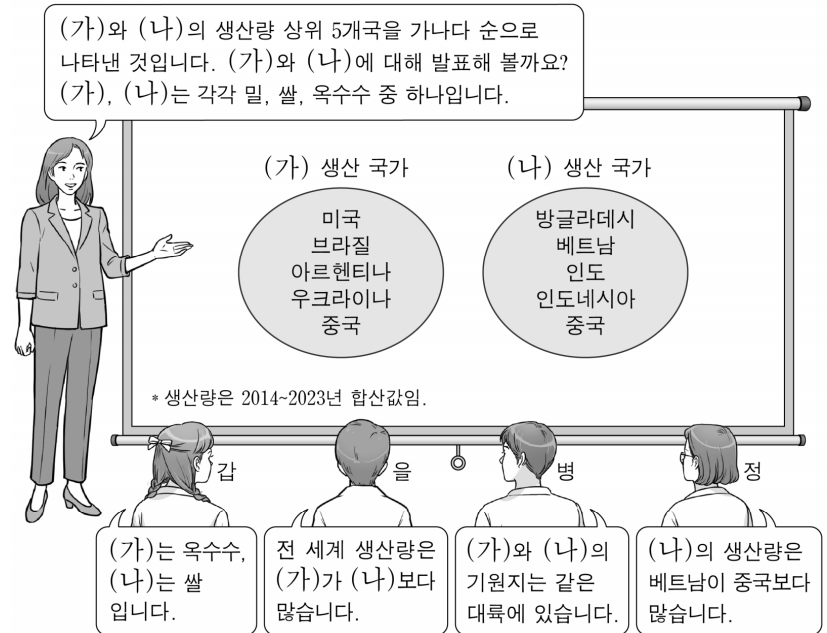
- ① (가)는 바위의 아랫부분이 집중적으로 침식되어 형성된다.
- ② (나)가 연속적으로 나타나는 지형을 '바하다'라고 한다.
- ③ (다)는 바람에 날린 모래에 의한 침식으로 형성된다.
- ④ (라)는 주로 유수에 의한 퇴적으로 형성된다.
- ⑤ (가)~(라)가 발달하는 건조 기후 지역에서는 물리적 풍화가 화학적 풍화보다 활발하다.

12. 그래프는 지도에 표시된 세 지역의 기후 특성을 나타낸 것이다. (가)~(다) 지역에 대한 설명으로 옳은 것은? [3점]



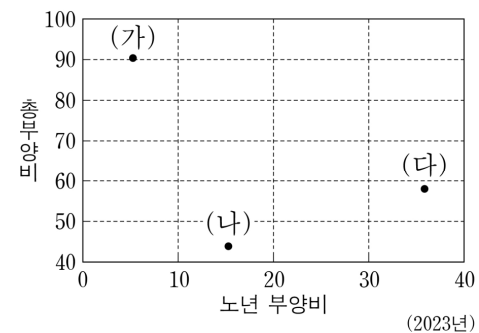
- ① (가)는 (나)보다 남회귀선과의 최단 거리가 멀다.
- ② (나)는 (다)보다 겨울 강수 집중률이 높다.
- ③ (다)는 (나)보다 1월의 낮 길이가 길다.
- ④ (가)와 (다)는 7월에 아열대 고압대의 영향을 받는다.
- ⑤ (가)는 오세아니아, (나)는 북아메리카에 위치한다.

13. 다음은 세계지리 수업 장면이다. 교사의 질문에 옳게 답한 학생만을 고른 것은?



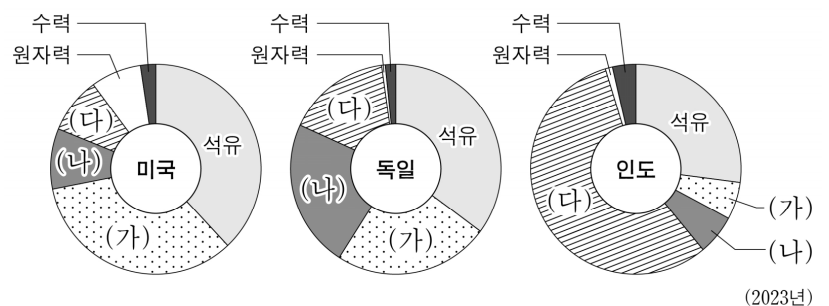
- ① 갑, 을 ② 갑, 병 ③ 을, 병 ④ 을, 정 ⑤ 병, 정

14. 그래프는 세 국가의 인구 특성을 나타낸 것이다. (가)~(다)에 대한 설명으로 옳은 것은? (단, (가)~(다)는 각각 독일, 브라질, 앙골라 중 하나임.)



- ① (가)는 북반구에 위치한다.
- ② (나)는 노령화 지수가 100 이하이다.
- ③ (가)는 (나)보다 합계 출산율이 낮다.
- ④ (나)는 (다)보다 유소년 부양비가 낮다.
- ⑤ (다)는 (가)보다 중위 연령이 낮다.

15. 그래프는 세 국가의 1차 에너지원별 소비량 비율을 나타낸 것이다. (가)~(다)에 해당하는 에너지를 고른 것은? [3점]

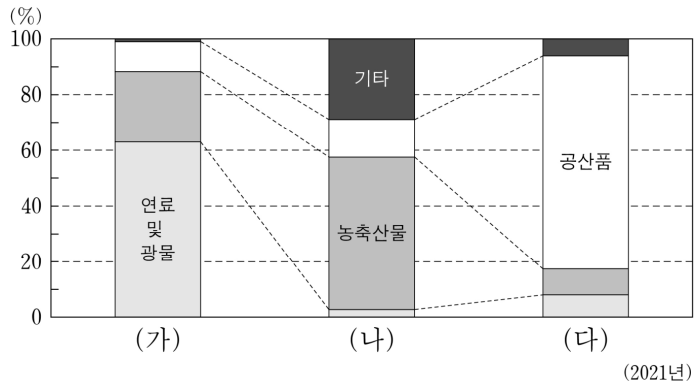


- | (가) | (나) | (다) |
|------------|----------|----------|
| ① 석탄 | 천연가스 | 신·재생 에너지 |
| ② 석탄 | 신·재생 에너지 | 천연가스 |
| ③ 천연가스 | 석탄 | 신·재생 에너지 |
| ④ 천연가스 | 신·재생 에너지 | 석탄 |
| ⑤ 신·재생 에너지 | 천연가스 | 석탄 |

4 (세계지리)

사회탐구 영역

16. 그래프는 세 국가의 품목별 수출액 비율을 나타낸 것이다. (가)~(다) 국가에 대한 설명으로 옳은 것만을 <보기>에서 고른 것은? (단, (가)~(다)는 각각 멕시코, 아르헨티나, 칠레 중 하나임.) [3점]



<보 기>

- ㄱ. (가)는 (나)보다 국토 면적이 넓다.
 ㄴ. (다)는 (가)보다 총수출액이 많다.
 ㄷ. (다)는 (나)보다 인구가 많다.
 ㄹ. (가)는 북반구, (나)는 남반구에 속한다.

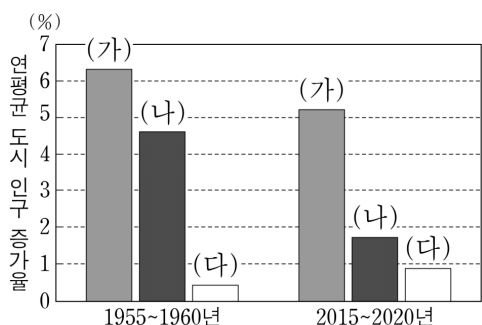
- ① ㄱ, ㄴ ② ㄱ, ㄷ ③ ㄴ, ㄷ ④ ㄴ, ㄹ ⑤ ㄷ, ㄹ

17. 다음 글의 ㉠~㉣에 대한 설명으로 옳지 않은 것은?

한대 기후 지역의 일부 토양층은 수직적으로 ㉠ 영구 동토층과 ㉡ 활동층으로 나뉘어진다. 이러한 토양의 특성으로 인해 지표면에서는 독특한 지형과 현상을 관찰할 수 있다. 대표적인 것은 토양이 분급되어 형성된 ㉢ 구조토와 토양이 경사면을 따라 흘러내리는 ㉣ 솔리플럭션이다.

- ① ㉠은 지구 온난화가 지속되면 두께가 얇아질 것이다.
 ② 최종 빙기에 ㉠은 현재보다 저위도 지역까지 분포하였다.
 ③ ㉡은 계절에 따라 동결과 융해를 반복한다.
 ④ ㉢은 빙설 기후 지역에서 잘 발달한다.
 ⑤ ㉣은 겨울보다 여름에 많이 발생한다.

18. 그래프는 세 국가의 연평균 도시 인구 증가율을 나타낸 것이다. (가)~(다)에 대한 설명으로 옳은 것만을 <보기>에서 고른 것은? (단, (가)~(다)는 각각 영국, 타이, 탄자니아 중 하나임.) [3점]



<보 기>

- ㄱ. (가)에는 최상위 계층의 세계 도시가 위치한다.
 ㄴ. (다)는 도시 인구가 촌락 인구보다 많다.
 ㄷ. (가)는 (다)보다 1인당 국내 총생산이 많다.
 ㄹ. (나)는 (가)보다 국가 내 2차 산업 종사자 비율이 높다.

- ① ㄱ, ㄴ ② ㄱ, ㄷ ③ ㄴ, ㄷ ④ ㄴ, ㄹ ⑤ ㄷ, ㄹ

19. 다음 글은 아프리카에 위치한 (가)~(다) 국가에 대한 것이다. 이에 대한 설명으로 옳은 것은?

- (가) 아프리카 최대의 커피 생산국이며, 소말리아와 국경을 접하는 국가이다. 해발 고도 약 2,500m의 고산 지대에 있는 수도 ㉠은 아프리카 연합 본부가 위치해 아프리카 외교의 중심지 역할을 한다.
 (나) 인도양과 접하고 적도가 국토의 중앙부를 지나며 빅토리아호의 일부를 포함하는 국가이다. 수도 ㉡은 정보 통신 산업을 중심으로 '실리콘 사바나'를 육성하며 아프리카의 경제·기술 허브로 성장하고 있다.
 (다) 아프리카 최대 석유 생산 국가이다. 급격한 도시화로 인한 문제 해결과 국토의 균형 발전을 위해 수도를 아부자로 이전했으나, 과거 수도였던 ㉢은 여전히 국가 경제의 핵심 도시로 기능하고 있다.

- ① (가)는 국토가 바다와 접한 연안국이다.
 ② (나)는 (다)보다 국내 총생산이 많다.
 ③ (가)와 (나)는 국경을 접하고 있다.
 ④ ㉡은 사하라 사막 북부에 위치한다.
 ⑤ ㉠은 ㉢보다 인구가 많다.

20. 다음 자료는 세 국가를 여행한 학생의 온라인 게시물이다. (가)~(다) 국가의 특징에 대한 설명으로 옳은 것은?



- ① (가)에서는 우기가 시작하는 4월에 송끄란 축제가 열린다.
 ② (나)에는 '카나트'라는 전통적인 지하 관개 시설이 있다.
 ③ (다)의 여성 전통 의복으로 '아오자이'가 있다.
 ④ (가)는 (다)보다 커피 재배 면적이 넓다.
 ⑤ (다)는 (나)보다 국가 내 이슬람교 신자 비율이 높다.

* 확인 사항

- 답안지의 해당란에 필요한 내용을 정확히 기입(표기)했는지 확인 하시오.