

제 4 교시

사회탐구 영역(사회·문화)

성명

수험 번호

제〔 〕선택

1. 밑줄 친 ㉠~㉣과 같은 현상의 일반적인 특징에 대한 설명으로 옳은 것은?

산타의 썰매를 끄는 ㉠ 루돌프 이야기는 순록의 붉은 코를 재미있게 표현한 상상력의 산물이다. ㉡ 순록의 코에는 모세혈관이 촘촘하게 분포되어 있어 혈액 순환을 활발하게 하고 ㉢ 먹이를 찾는 감각과 체온을 유지하는 데 도움을 준다. 순록을 유목하는 사람들은 순록의 붉은 코가 ㉣ 짙짓기 시기에 상대를 유인하는 신호로 쓰인다고 추측하기도 한다.

- ① ㉠과 같은 현상은 불가치적이다.
 ② ㉡과 같은 현상은 개연성의 원리가 적용된다.
 ③ ㉠과 같은 현상에 비해 ㉢과 같은 현상은 특수성이 강하다.
 ④ ㉢과 같은 현상에 비해 ㉡과 같은 현상은 인과 관계가 불분명하다.
 ⑤ ㉢과 같은 현상과 ㉢과 같은 현상은 모두 경험적 자료로 연구할 수 있다.

2. 다음 글에서 개인과 사회의 관계를 바라보는 필자의 관점에 대한 옳은 설명만을 <보기>에서 고른 것은? [3점]

의례는 삶에서 일어나는 중요한 변화에 대응해야 할 때 구성원의 결속을 재확인시켜 준다. 예컨대 장례는 사회 구성원이 애도를 표현하고, 유족이 변화된 환경에 적응할 수 있게 도와주는 의미를 지닌다. 애도 행위는 단순히 개인의 마음에서 우러나는 자발적 행위가 아니라 구성원으로서 마땅히 따라야 할 사회적 규범에 의한 행위이다.

<보 기>

- ㄱ. 사회가 개인의 외부에 존재하는 실체라고 본다.
 ㄴ. 개인은 사회에 의해 구조화된 행동을 한다고 본다.
 ㄷ. 사회 규범은 개인들이 옳다고 믿기에 존재한다고 본다.
 ㄹ. 사회의 속성을 개인의 속성으로 환원할 수 있다고 본다.

- ① ㄱ, ㄴ ② ㄱ, ㄷ ③ ㄴ, ㄷ ④ ㄴ, ㄹ ⑤ ㄷ, ㄹ

3. (가), (나)에 나타난 문화 변동에 대한 설명으로 옳은 것은?

- (가) 갑국은 을국을 식민 지배하며 갑국의 종교와 의복을 을국 국민에게 강제하였다. 그 결과 을국 전통 의복은 갑국의 것으로 대체되었고, 현재는 박물관에서만 접할 수 있게 되었다. 한편 종교의 경우, 을국의 문화 복고 운동의 영향으로 을국 전통 종교가 갑국 종교와 결합하여 새로운 종교가 나타났다.
 (나) 병국을 침략한 정국은 포로로 잡아온 도공에게 도자기 제작을 강요하여 획득한 병국 도자기 기술을 널리 활용하게 되었다. 정국은 무국에 도자기를 수출하였는데, 도자기 포장지에는 정국 고유의 독특한 화풍이 담긴 그림이 그려져 있었다. 이에 영향을 받은 무국 화가들은 자신들의 화풍에 이를 접목하여 새로운 미술 사조를 탄생시켰다.

- ① (가)에서는 내재적 요인으로 인해 문화 변동이 나타났다.
 ② (나)에서는 자극 전파로 인해 문화 변동이 나타났다.
 ③ (가)에서와 달리 (나)에서는 문화 융합이 나타났다.
 ④ (나)에서와 달리 (가)에서는 문화 동화가 나타났다.
 ⑤ (가)와 (나)에서는 모두 강제적 문화 접변이 나타났다.

4. 사회·문화 현상을 바라보는 갑~병의 관점에 대한 설명으로 옳은 것은? [3점]



인공 지능 기술에 대한 자신의 의견을 말씀해 주세요.

인공 지능 기술의 수용 여부는 개인이 부여하는 의미에 달려 있습니다. 인공 지능 기술을 '위험한 경쟁자'로 보던 초기와 달리 '똑똑한 비서'로 보는 사람이 많아지고 있어 널리 활용될 것입니다.



인공 지능 기술의 등장은 사회가 그 기술을 필요로 했기 때문입니다. 인공 지능 기술은 특정 직업을 사라지게도 하지만 새로운 직업과 기회를 창출하여 전체 사회의 조화와 균형을 이루게 할 것입니다.

인공 지능 기술은 이윤을 추구하는 자본가의 필요에 의해서 나타난 것입니다. 인공 지능 기술이 노동자의 일자리를 대체하여 사회적 불평등과 갈등이 심화될 것입니다.



- ① 갑의 관점은 기득권층의 이익을 옹호하는 논리로 이용된다는 비판을 받는다.
 ② 을의 관점은 개인의 행동이 상황에 대한 주관적 해석에 기초하여 이루어진다고 본다.
 ③ 갑의 관점과 달리 을의 관점은 행위자의 능동성을 강조한다.
 ④ 을의 관점과 달리 병의 관점은 사회적 갈등을 균형 회복을 위한 일시적 과정으로 본다.
 ⑤ 병의 관점과 달리 갑의 관점은 개인에 대한 사회 구조의 영향력을 간과한다는 비판을 받는다.

5. 다음 글에 나타난 갑국의 '스케이트보드 문화'에 대한 옳은 설명만을 <보기>에서 고른 것은?

갑국의 스케이트보드 문화는 파도타기를 즐기는 사람들이 바다에서 서핑을 할 수 없을 때 육지에서도 즐길 수 있도록 바퀴 달린 보드를 고안한 것에서 비롯되었으며, 1950년대 일부 젊은이들 사이에서 유행하였다. 1970년대에는 공격적인 스케이트보딩을 선보이는 팀이 등장하고, 펑크 록 음악과 결합하여 기성세대에 대한 저항을 상징하는 스케이트보드 문화가 형성되었다. 스케이트보더들은 공공장소에서 스케이트보딩을 금지하는 정부의 규제와 위험하고 난폭하다는 기성세대의 비판에도 불구하고 스케이트보딩을 지속하였다. 1990년대 이후 스케이트보드는 대중 매체에 의해 소개되며 주목을 받기 시작하였다. 스케이트보드 문화는 스케이트보드 패션의 유행, 스케이트보드 관련 TV 프로그램의 선풍적인 인기, 올림픽 정식 종목 채택 등으로 인하여 모든 세대가 즐기는 문화가 되었다.

<보 기>

- ㄱ. 1950년대에 반문화였다.
 ㄴ. 1970년대에 하위문화였다.
 ㄷ. 1990년대 이후 대중문화의 상업성을 비판하는 상징으로 여겨졌다.
 ㄹ. 하위문화가 주류 문화로 변화한 사례이다.

- ① ㄱ, ㄴ ② ㄱ, ㄷ ③ ㄴ, ㄷ ④ ㄴ, ㄹ ⑤ ㄷ, ㄹ

2 (사회 · 문화)

사회탐구 영역

6. 다음 자료에 대한 옳은 설명만을 <보기>에서 고른 것은? (단, A~C는 각각 자문화 중심주의, 문화 상대주의, 문화 상대주의 중 하나임.) [3점]

○ 각자 배정받은 문화 이해 태도의 특징을 두 가지씩 작성하시오.

구분	문화 이해 태도의 특징
갑	A 1. 문화의 다양성을 보존하는 데 기여한다. 2. 문화 간 우열의 차이가 존재한다고 본다.
을	B 1. 각 사회의 문화를 해당 사회의 맥락에서 바라본다. 2. (가)
병	C 1. 문화를 이해가 아닌 평가의 대상으로 본다. 2. 국수주의로 변질될 수 있다는 비판을 받는다.



교사


병은 두 가지 특징을 모두 옳게 작성하였고, 갑과 을 중 ㉠ 한 명은 한 가지만 옳게, 나머지 한 명은 모두 옳지 않게 작성하였습니다.

<보 기>

- ㉠. ㉠은 '을'이다.
㉡. B와 달리 A는 자문화의 정체성을 상실할 가능성이 크다는 비판을 받는다.
㉢. C에 비해 B는 타문화를 무비판적으로 수용할 가능성이 크다.
㉣. (가)에는 '문화 제국주의로 변질될 수 있다는 비판을 받는다.'가 들어갈 수 있다.

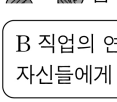
- ① ㉠, ㉡ ② ㉠, ㉢ ③ ㉡, ㉣ ④ ㉢, ㉣ ⑤ ㉣, ㉣

7. 사회 불평등 현상을 바라보는 갑, 을의 관점에 대한 설명으로 옳은 것은?



갑

A 직업은 B 직업에 비해 사회에서 중요한 역할을 수행하고, 오랜 기간의 기술 숙련을 요구하므로 연평균 임금이 높습니다.



을

B 직업의 연평균 임금이 A 직업보다 낮은 이유는 사회의 지배 계층이 자신들에게 유리하도록 B 직업의 가치를 낮게 평가했기 때문입니다.

- ① 갑의 관점은 사회적 희소 자원의 차등 분배로 기존의 사회 불평등 구조가 재생산된다고 본다.
② 을의 관점은 사회적 희소 자원의 균등 분배가 인재를 적재 적소에 배치하는 데 어려움을 초래한다고 본다.
③ 갑의 관점과 달리 을의 관점은 사회 불평등이 불가피한 현상이라고 본다.
④ 을의 관점과 달리 갑의 관점은 개인의 귀속적 요인이 사회 불평등에 미치는 영향을 중시한다.
⑤ 을의 관점과 달리 갑의 관점은 사회적 희소 자원의 분배 기준을 사회 전체가 합의한 것이라고 본다.

8. 밑줄 친 ㉠~㉤에 대한 설명으로 옳은 것은? [3점]



사회자

영화 ○○에서의 열연으로 ㉠ 남우 주연상을 수상하게 된 것을 축하합니다. 소감 부탁드립니다.

㉡ 아역 배우 시절부터 저를 위해 헌신해주신 부모님께 감사드립니다.
㉢ △△예술고등학교에서 만나 극단 생활을 하며 함께 꿈을 키웠던
㉣ 아내에게 사랑한다고 말하고 싶습니다. 저보다 더 저를 믿고 응원해준
㉤ ☆☆팬클럽과 변함없이 제 활동을 지원해주는 ㉥ □□기획사 식구들, 이 상은 우리가 함께 받는 상입니다. ㉦ 시청자 여러분, ㉧ 가족과 행복한 저녁 시간 보내세요.



갑

- ① ㉠은 갑의 역할에 대한 보상이다.
② ㉡, ㉢은 모두 성취 지위에 해당한다.
③ ㉣, ㉤은 모두 공식적 사회화 기관에 해당한다.
④ ㉥은 비공식 조직, ㉦은 공식 조직에 해당한다.
⑤ ㉦은 2차 집단, ㉧은 1차 집단에 해당한다.

- [9~10] 다음 자료를 읽고 물음에 답하시오.

연구자 갑은 고령층의 인간 관계와 디지털 기기 활용 교육을 연구 주제로 선정하고 관련 연구를 검토하였다. 갑은 디지털 기기 활용 교육이 고령층의 온라인 공간에서의 인간 관계에 긍정적인 영향을 미칠 것이라는 가설을 설정하였다. 갑은 ㉠ 65세 이상 고령층 남녀 1,000명을 연구 대상으로 무작위 선정하여 설문 조사를 실시하였다. 조사 문항에는 디지털 기기 활용 교육 이수 여부 및 이수 시간, ㉡ 가족, 친척, 친구 등 이미 알고 있는 사람과의 온라인 공간에서의 친밀도(5점 척도), ㉢ 온라인을 통해서 새롭게 알게 된 사람과의 온라인 공간에서의 친밀도(5점 척도) 등이 포함되었다. 갑은 ㉣ 수집한 자료를 분석하여 연구 결과를 발표하였다.

연구자 을은 디지털 기기 활용 교육과 온라인 공간에서의 인간 관계에 대한 선행 연구를 검토한 후, 고령층을 대상으로 연구를 진행하였다. 을은 노인 복지관을 방문하여 디지털 기기 ㉤ 활용 교육을 받은 경험이 있는 10명, ㉥ 활용 교육을 받은 경험이 없는 10명을 연구 대상으로 선정하였다. 을은 두 달에 걸쳐서 1인당 2회 이상 이들을 만나 깊이 있는 대화를 나누고 이 과정을 녹음하였다. 조사 내용에는 온라인 공간에서 인간 관계의 의미, 인간 관계 형성의 양상, 디지털 기기 활용 교육에 따른 온라인 공간에서의 인간 관계의 변화 등이 포함되었다. 을은 ㉦ 녹취한 자료를 해석하여 연구 결과를 도출하였다.

9. 위 연구에 대한 설명으로 옳은 것은? [3점]

- ① 갑의 연구에서 모집단은 ㉠이다.
② 갑의 연구에서 ㉡, ㉢은 모두 종속 변수의 조작적 정의에 해당한다.
③ 을의 연구에서 ㉤은 실험 집단, ㉥은 통제 집단이다.
④ 갑의 연구에서 ㉣ 단계, 을의 연구에서 ㉦ 단계는 모두 연구자의 가치 개입이 허용된다.
⑤ 갑의 연구와 달리 을의 연구는 방법론적 일원론을 전제로 하여 수행되었다.

10. 위 연구에서 갑, 을이 사용한 자료 수집 방법의 일반적인 특징에 대한 설명으로 옳은 것은?

- ① 갑과 달리 을은 기존 연구 동향 파악에 유리한 자료 수집 방법을 사용하였다.
② 갑과 달리 을은 표준화된 도구의 사용이 필수적인 자료 수집 방법을 사용하였다.
③ 을에 비해 갑은 연구 대상자의 반응에 유연한 대처가 용이한 자료 수집 방법을 사용하였다.
④ 을과 달리 갑은 실제성이 높은 생생한 자료를 확보하기에 용이한 자료 수집 방법을 사용하였다.
⑤ 갑과 을은 모두 연구 대상자의 주관적 인식을 파악할 수 있는 자료 수집 방법을 사용하였다.

11. (가)에 들어갈 수 있는 내용으로 가장 적절한 것은?



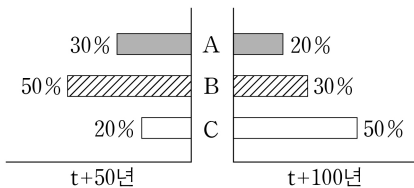
<자료 1>에서 <자료 3>은 전 지구적 수준의 문제를 해결하기 위하여 (가) 이/가 필요하다는 것을 공통적으로 보여줍니다.

- <자료 1> 정치적·사회적 불안정으로 인하여 세계 곳곳에서 벌어지는 전쟁과 테러의 위협을 후손에게 고스란히 넘겨주어야 하는 비극적 상황에 처해 있다.
- <자료 2> 무한할 것 같았던 에너지 자원은 미래에도 우리 사회가 현재의 경제 성장 수준을 유지할 수 있을지 걱정스러운 정도로 얼마 남지 않았다.
- <자료 3> 대량 생산과 대량 소비로 인해 발생한 환경 문제와 기후 위기는 다음 세대도 살아가야 할 터전의 소실을 걱정해야 할 만큼 심각한 상태이다.

- ① 개별 국가의 자율성 강화
- ② 신기술 개발을 위한 초국가적 대응
- ③ 미래 세대의 삶에 대한 관심과 배려
- ④ 문화 다양성을 바탕으로 한 공존의 문화 구축
- ⑤ 인간과 자연이 더불어 살아가야 한다는 인식의 강화

12. 다음 자료에 대한 분석으로 옳은 것은? [3점]

갑국의 계층은 A, B, C로 구분되며, A~C는 각각 상층, 중층, 하층 중 하나이다. A에서 B로의 수직 이동과 A에서 C로의 수직 이동의 방향은 같다. 상승 이동을 통해 B에 진입하는 사람은 존재할 수 없다. t년에 갑국의 A, B, C 계층의 인구 구성비는 1:6:3이다. 그림은 t+50년과 t+100년 갑국 계층의 인구 구성 비율을 나타낸 것이다.



- ① t년에 중층 인구 비율은 하층 인구 비율의 2배이다.
- ② t+50년의 계층 구조는 피라미드형이다.
- ③ 상층 인구 대비 하층 인구의 비는 t년보다 t+100년이 작다.
- ④ t년은 폐쇄적 계층 구조, t+100년은 개방적 계층 구조이다.
- ⑤ t+100년에 비해 t+50년의 계층 구조가 사회 안정에 유리하다.

13. 다음 글의 필자가 강조하는 사회 운동의 특징으로 가장 적절한 것은?

사회 운동은 문제의 원인과 해결 방안에 대한 일반화된 믿음 없이 산발적으로 나타나는 집단행동에서 비롯한다. 참여자 사이에서 이슈에 대한 공통된 인식이 형성되면, 행동의 조직화가 요구된다. 중요한 역할을 하고 있거나 참여자들이 인정하는 사람들을 중심으로 조직이 결성되고, 참여자는 더욱 증가한다. 따라서 집단적인 행동과 의사 표현이 일관되고 지속되도록, 조직은 필요한 자원을 동원하고 참여자에게 구체적인 역할을 부여한다. 필요한 경우에는 다른 사회 운동 단체와의 사회적 연결망을 구축하기도 한다. 이러한 과정은 사회 운동의 성패를 좌우할 만큼 중요하다.

- ① 다수의 자발적인 행동에 기반하여 유지된다.
- ② 목표 달성을 위해 체계적인 조직이 필요하다.
- ③ 목표와 활동 방향을 정당화하는 이념을 가지고 있다.
- ④ 특정 집단의 이익을 추구하는 반사회적 집단행동이다.
- ⑤ 현재의 사회 체제를 근본적으로 바꾸는 것을 지향한다.

14. 일탈 이론 A~C에 대한 설명으로 옳은 것은? (단, A~C는 각각 뒤르캄의 아노미 이론, 차별 교제 이론, 낙인 이론 중 하나임.) [3점]

[서술형 문항]

이름: ○○○

최근 급증하고 있는 온라인 공간에서의 일탈 행동 원인을 A~C의 입장에서 설명하시오.

구분	일탈 행동의 원인
A	새로운 기술의 등장으로 사회 변화가 매우 빠르게 진행되어, 온라인 공간에서의 활동에 대한 규범이 미처 정립되지 않았기 때문이다.
B	온라인 공간에서는 경미한 일탈조차 수많은 사람들의 비난의 대상이 되고, 이러한 부정적 평가를 내면화하였기 때문이다.
C	온라인 범죄를 반복적으로 저지르고 있는 친구들과 자주 어울리면서 온라인 공간에서의 일탈을 정당화하는 태도를 학습하였기 때문이다.

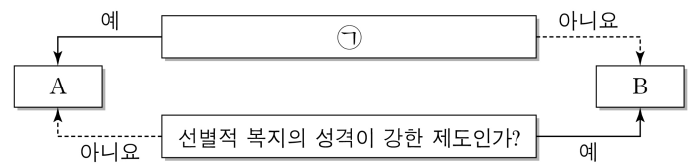
[교사의 평가] A~C 입장에서 모두 옳게 설명하였음.

- ① A는 문화적 목표를 달성할 수 있는 합법적 수단의 확대를 강조한다.
- ② B는 2차적 일탈이 발생하는 과정에 주목한다.
- ③ C는 차별적인 사회적 제재를 최소화하면 일탈 행동을 줄일 수 있다고 본다.
- ④ A와 달리 B는 객관적 기준에 의해 일탈 행동을 규정할 수 있다고 본다.
- ⑤ C와 달리 A는 타인과의 상호 작용을 통해 일탈자가 되어 가는 과정에 주목한다.

15. 다음 자료에 대한 분석으로 옳은 것은? (단, A, B는 각각 공공 부조, 사회 보험 중 하나임.) [3점]

갑국에는 사회 보장 제도 A, B만 존재하며, A, B는 우리나라의 사회 보장 제도와 동일하다. 갑국은 (가), (나) 지역으로만 구성되며, (가) 지역 인구는 (나) 지역 인구의 2배이다. <자료 1>은 두 가지 질문을 통해 A, B를 구분한 것이고, <자료 2>는 갑국의 지역별 수급자 현황의 일부이다. 단, A 수급자 수 대비 중복 수급자 수의 비율은 (가) 지역이 10%, (나) 지역이 20%이다.

<자료 1>



<자료 2>

(단위: %)

구분	(가) 지역	(나) 지역
비(非)수급자 비율	18	20
중복 수급자 비율	8	15

* 비(非)수급자: A나 B 어느 것도 받지 않는 사람

** 중복 수급자: A 수급자이면서 동시에 B 수급자인 사람

*** 비수급자(중복 수급자) 비율(%) = $\frac{\text{해당 지역 비수급자(중복 수급자) 수}}{\text{해당 지역 인구}} \times 100$

- ① ㉠에는 '소득 재분배 효과가 있는가?'가 들어갈 수 있다.
- ② A와 달리 B는 상호 부조의 원리가 적용된다.
- ③ B 수급자 수는 (나) 지역이 (가) 지역보다 많다.
- ④ 강제 가입의 원칙이 적용되는 제도의 수급자 비율은 (가) 지역이 (나) 지역보다 낮다.
- ⑤ 사후 처방적 성격이 강한 제도의 수급자 비율은 (나) 지역이 (가) 지역의 2배이다.

사회탐구 영역

16. 사회 변동 이론 A, B 중 하나의 입장에서 일관되게 응답한 학생은? (단, A, B는 각각 진화론, 순환론 중 하나임.)

A: 사회는 지속적으로 진보하는 것이 아니라, 주기적으로 동일한 과정을 반복한다고 본다.

B: 사회가 단계적으로 변동하며, 모든 단계는 이전 단계보다 복잡하고 분화된 것이라고 본다.

질문 \ 학생	갑	을	병	정	무
서구 중심적인 사고라는 비판을 받는가?	○	○	×	×	○
운명론적 시각에서 사회 변동을 설명하는가?	×	○	○	○	×
사회가 일정한 방향으로 변동한다고 보는가?	○	×	○	×	○
홍명성씨를 거둔한 국가의 사례를 설명하기에 적합한가?	×	○	×	×	○

(○: 예, ×: 아니요)

① 갑 ② 을 ③ 병 ④ 정 ⑤ 무

17. 다음 글에서 강조하는 빈곤의 유형에 대한 옳은 설명만을 <보기>에서 있는 대로 고른 것은? [3점]

인간은 무인도에 고립되어 사는 로빈슨 크루소가 아니다. 인간은 사회적 관계 속에서 영향을 받으며 존재하고 생활하는 사회적 동물이다. 빈곤은 개인적 생존의 문제일 뿐 아니라 개인들이 생활하는 사회의 차원에서 발생하는 문제이다. 즉 개인의 일상생활은 물론 생명과 건강 유지에 필요한 재화나 서비스조차도 사회 속에서 영향을 받는다. 따라서 빈곤을 인간다운 삶을 유지하기 위한 최소한의 조건을 충족하지 못한 상태로 규정하기보다는, 사회 구성원이 보편적으로 누리는 생활 수준을 유지하는 데 필요한 자원이 부족한 상태로 보아야 한다.

-<보 기>-

- ㄱ. 소득 수준이 높은 국가에서도 나타날 수 있다.
- ㄴ. 경제가 성장할수록 빈곤을 판단하는 기준 금액이 적어지는 경향이 있다.
- ㄷ. 사회 구성원들의 소득 분포를 고려하지 않는 개념이라는 평가를 받는다.

① \neg ② \perp ③ \neg, \perp ④ \perp, \perp ⑤ \neg, \perp, \perp

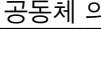
18. A, B의 일반적인 특징에 대한 설명으로 옳은 것은? (단, A, B는 각각 관료제, 탈관료제 중 하나임.)

○○기업은 설립 초기 A의 운영 원리를 도입하여 고정된 부서나 직책 없이 유동적인 프로젝트 팀 중심으로 조직을 운영하였다. 이를 통해 구성원의 자율성이 보장되고 환경 변화에 유연한 대처가 가능하였다. 그러나 회사의 규모가 확대되면서 책임과 권한의 소재가 불분명하여 프로젝트 우선순위를 결정하는 데 어려움을 겪었다. 이러한 문제를 극복하기 위해 ○○기업은 B의 운영 원리를 도입하였다. B의 운영 원리는 역할과 책임을 명확히 규정하고 구성원 간 협력도 일정한 틀 안에서 이루어지도록 하여 보다 안정적으로 조직을 운영하는 것이다.

- ① A와 달리 B는 공식적 규범에 의해 구성원을 통제한다.
- ② A와 달리 B는 효율적인 목표 달성이 조직 운영의 핵심이다.
- ③ B에 비해 A는 능력과 업적에 따른 보상 체계를 중시한다.
- ④ B에 비해 A는 목적과 수단의 전치 현상이 나타날 가능성이 높다.
- ⑤ A, B는 모두 상향식 의사 결정 방식이 지배적이다.

19. 밑줄 친 ㉠~㉣에 대한 설명으로 옳은 것은? [3점]

제주 해녀 문화



해녀는 ㉠ 상군*이나 동료 해녀를 관찰하고, 그들에게 경험을 들으면서 물질**을 익힌다. 이러한 과정을 통해 물질에 필요한 지식뿐만 아니라 ㉡ 해녀 문화를 공유하고 공동체에 대한 책임감도 배운다.

해녀는 테왁, 망사리, 빗창 등과 같은 ㉢ 도구를 사용하고, 자연 친화적인 방법으로 해산물을 채취한다. 이들은 매년 물질에 들어가기 전에 잠수고를 하여 풍요와 안전을 기원한다. ㉣ 잠수고는 지역 주민에게 자연스럽게 익숙한 풍습이며, 지역 특유의 ㉤ 민간 신앙이다. 해녀들이 바다에서 위험을 감수하며 이어온 ㉥ 물질은 지역 사회의 공동체 의식, 경제 활동 등 생활 영역 전반에 영향을 미쳤다.

* 상군 : 물질 경험이 풍부하여 노련하고 기량이 뛰어난 해녀
 ** 물질 : 해녀가 바다에 잠수하여 해산물을 채취하는 행위

- ① ㉠에는 문화가 고정된 것이 아니라 변화한다는 속성이 부각되어 있다.
- ② ㉡에서 ‘문화’는 좁은 의미로 사용되었다.
- ③ ㉢, ㉣은 모두 비물질문화에 해당한다.
- ④ ㉤에는 문화가 구성원들의 사고와 행동에 동질성을 갖게 한다는 속성이 부각되어 있다.
- ⑤ ㉥에는 문화가 후천적으로 학습된다는 속성이 부각되어 있다.

20. 다음 자료에 대한 옳은 분석만을 <보기>에서 고른 것은?

인구 구조의 변화는 경제 성장과 세대 간 갈등에 영향을 미칠 수 있다.
 ㉠ 연구 결과에 따르면 부양 인구(15~64세 인구)가 감소할수록 경제 성장
 동력은 약화되며, 노년 부양비가 커질수록 세대 간 갈등이 심해진다.

갑국의 $t+100$ 년 전체 인구와 을국의 t 년 전체 인구는 동일하다. 을국에서 $t+100$ 년의 전체 인구는 t 년의 2배이다. 갑국에서 t 년의 유소년 인구는 $t+100$ 년의 4배이다.

구분	t년		t+100년	
	갑국	을국	갑국	을국
노령화 지수	50	50	150	25
유소년 부양비	100	100	40	80

$$* \text{노령화 지수} = \frac{\text{노년 인구(65세 이상 인구)}}{\text{유소년 인구(0~14세 인구)}} \times 100$$
$$** \text{ 유소년(노년) 부양비} = \frac{\text{유소년(노년) 인구}}{\text{부양 인구}} \times 100$$

-〈보기〉.

ㄱ. t 년 대비 $t+100$ 년에 을국의 유소년 인구 증가율은 40%이다.

ㄴ. t 년에 노년 인구는 갑국이 을국의 2배이고, $t+100$ 년에 노년 인구는 갑국이 을국의 1.5배이다.

ㄷ. ㉠에 따르면, 갑국은 t 년에 비해 $t+100$ 년에 세대 간 갈등이 심해진다.

ㄹ. ㉠에 따르면, 을국은 t 년에 비해 $t+100$ 년에 경제 성장 동력이 약화된다.

① ㄱ, ㄴ ② ㄱ, ㄷ ③ ㄴ, ㄷ ④ ㄴ, ㄹ ⑤ ㄷ, ㄹ

* 확인 사항

○ 답안지의 해당란에 필요한 내용을 정확히 기입(표기)했는지 확인
하시오.