

제 4 교시

사회탐구 영역(동아시아사)

성명

수험 번호

제 [] 선택

1. 밑줄 친 ‘이 지역’을 지도에서 옳게 고른 것은?



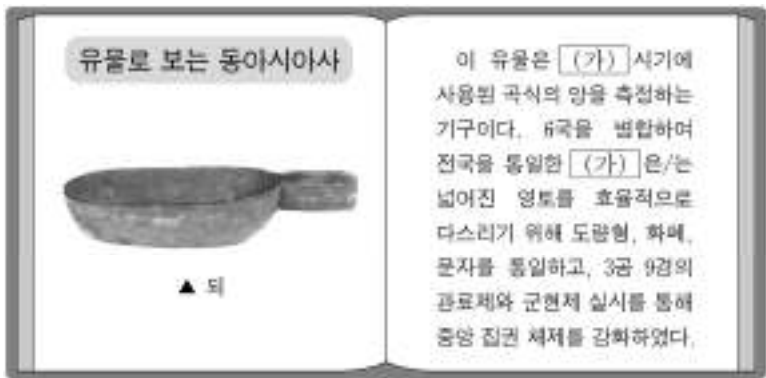
- ① (가) ② (나) ③ (다) ④ (라) ⑤ (마)

2. (가) 왕조에 대한 설명으로 옳은 것은? [3점]



- ① 삼포(3포)에서 왜인과의 무역을 허가하였다.
② 건당사를 파견하여 선진 문물을 수용하였다.
③ 청해진을 설치하여 해상 교역을 주도하였다.
④ 정화의 선단을 동남아시아 등지로 파견하였다.
⑤ 매카트니 사절단의 통상 확대 요구를 거절하였다.

3. (가) 왕조 시기에 동아시아에서 있었던 사실로 옳은 것은? [3점]



- ① 고조선이 멸망하였다.
② 분서갱유가 단행되었다.
③ 다이카 개신이 일어났다.
④ 히미코가 친위왜왕의 칭호를 받았다.
⑤ 취안저우 등지에 시박사가 설치되었다.

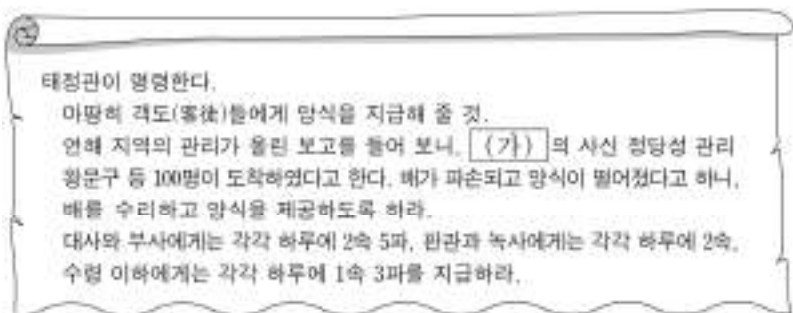
4. 다음 자료를 활용한 탐구 주제로 가장 적절한 것은?

우리 동방은 본디 예의가 있다고 칭해져 왔으나 전해 오는 문헌이 있다고는 듣지 못하였다. … (중략) … 정몽주 선생께서는 노장 사상과 불교가 극성하던 시대에 태어나서 도(道)를 부흥시키고자 하였다. … (중략) … 주희가 편찬한 『사서집주』가 우리나라에 전해지자 그 뜻을 이해하는 자가 많지 않았는데, 선생께서 정밀하게 분석하여 해석하였다.

- 『지산집』 -

- ① 유학의 발달과 성리학의 확산
② 선교사의 활동과 서양 문물의 전래
③ 유목민의 이동과 호한 문화의 융합
④ 유학승의 구법 여행과 불교의 전파
⑤ 도공의 강제 이송과 생산 기술의 발전

5. (가) 국가에 대한 설명으로 옳은 것은?



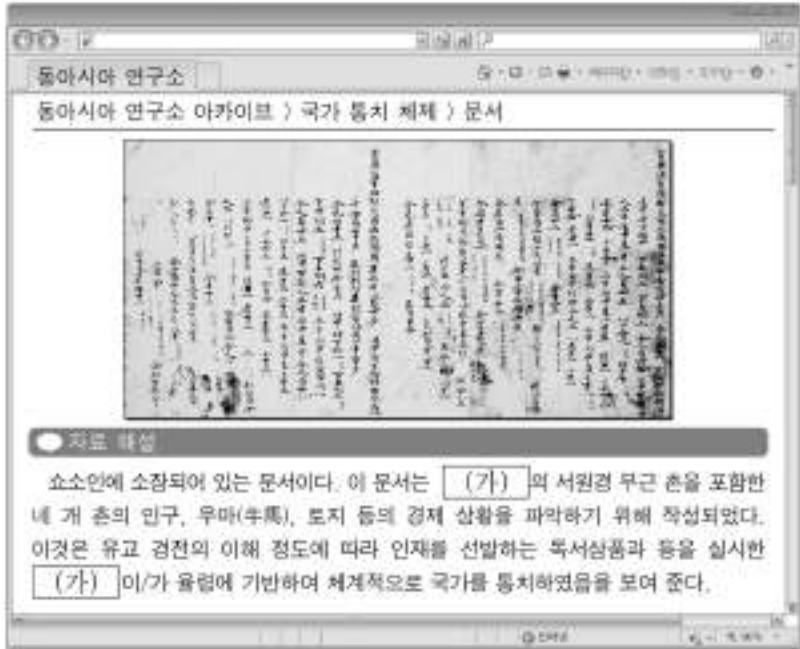
- ① 교육 기관으로 주자감을 세웠다.
② 제사를 담당하는 신기관을 설치하였다.
③ 농경민을 관장하는 남추밀원을 설립하였다.
④ 6부의 행정을 총괄하는 상서성을 운영하였다.
⑤ 베트남 북부를 관할하는 안남 도호부를 두었다.

동아시아사

2 (동아시아사)

사회탐구 영역

6. (가) 국가 시기에 동아시아에서 볼 수 있는 모습으로 가장 적절한 것은?



- ① 해체신서를 간행하는 학자
- ② 경사대학당에 입학하는 학생
- ③ 백운동 서원에서 공부하는 선비
- ④ 시현력을 제작하는 예수회 선교사
- ⑤ 입당구법순례행기를 저술하는 승려

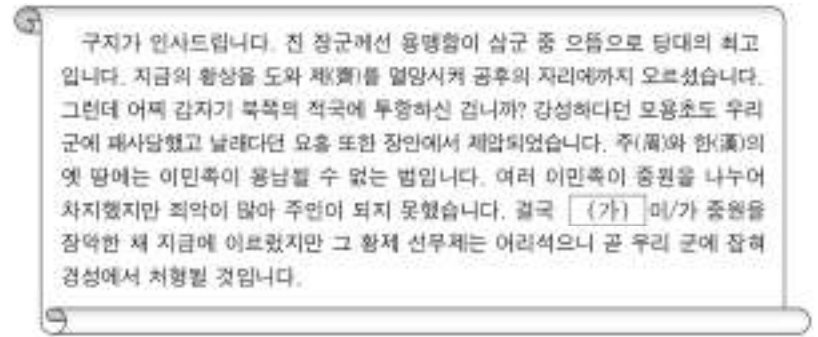
7. (가), (나) 국가에 대한 설명으로 옳은 것은? [3점]



(가) 이/가 해금 정책을 시행한 이후 중국 저우산 부근 쌍서를 중심으로 밀무역이 성행하였다. 이슬람 왕국 몰라카를 점령한 (나) 이/가 들어오고, 회저우 상인 출신인 왜구 우두머리 왕직이 합류하면서, 이 섬은 중국인, 일본인, 유럽인이 모여 사는 국제 무역의 중심지가 되었다. 쌍서와 그 주변 세력이 왜구와 결탁하여 세력이 커지자, (가) 은/는 호종헌, 척계광 등으로 하여금 이들을 토벌하게 하였다.

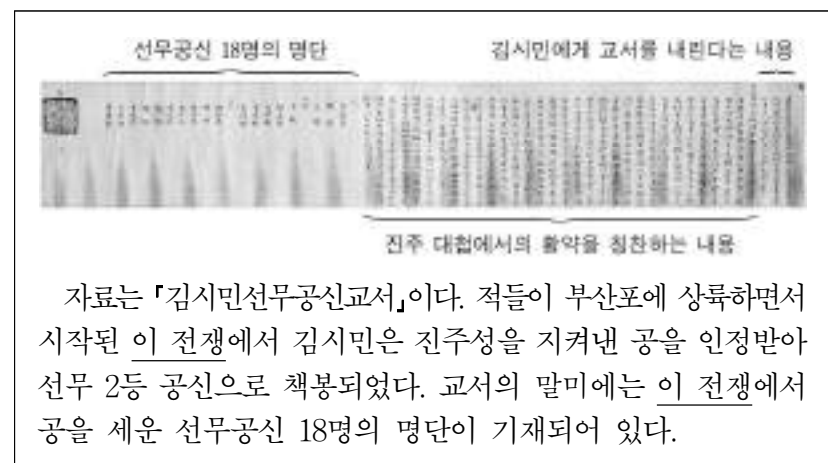
- ① (가) - 광저우에 공행을 설치하였다.
- ② (가) - 신패를 발급하여 무역을 통제하였다.
- ③ (나) - 바타비아를 무역의 거점으로 삼았다.
- ④ (나) - 마닐라를 건설하고 갈레온 무역을 전개하였다.
- ⑤ (나) - 크리스티고 포교 문제로 일본과의 교역이 중단되었다.

8. (가) 국가에 대한 설명으로 옳은 것은? [3점]



- ① 송과 대립하였다.
- ② 호라즘을 정벌하였다.
- ③ 토번에 화번공주를 파견하였다.
- ④ 5대 10국의 분열을 수습하였다.
- ⑤ 평성에서 한 고조를 포위하였다.


9. 밑줄 친 '이 전쟁' 중에 있었던 사실로 옳은 것은?



자료는 「김시민선무공신교서」이다. 적들이 부산포에 상륙하면서 시작된 이 전쟁에서 김시민은 진주성을 지켜낸 공을 인정받아 선무 2등 공신으로 책봉되었다. 교서의 말미에는 이 전쟁에서 공을 세운 선무공신 18명의 명단이 기재되어 있다.

- ① 전주 화약이 체결되었다.
- ② 국왕이 남한산성에서 항전하였다.
- ③ 명의 모문룡이 가도에 주둔하였다.
- ④ 조선군이 사르후 전투에 출전하였다.
- ⑤ 사야가(사야카)가 조선에 투항하였다.

10. (가), (나) 국가에 대한 설명으로 옳은 것만을 <보기>에서 고른 것은? [3점]



<보 기>

- ㄱ. (가) - 백강에서 왜군을 격퇴하였다.
- ㄴ. (가) - 주요 도로에 역참을 설치하였다.
- ㄷ. (나) - 금과 강화를 맺고 세폐를 보냈다.
- ㄹ. (나) - 타이완의 정씨 세력을 진압하였다.

- ① ㄱ, ㄴ ② ㄱ, ㄷ ③ ㄴ, ㄷ ④ ㄴ, ㄹ ⑤ ㄷ, ㄹ

11. (가) 왕조에 대한 설명으로 옳은 것은?



- ① 대동법을 전국적으로 실시하였다.
- ② 장거정을 등용하여 개혁을 추진하였다.
- ③ 슈인장을 발급하여 무역을 통제하였다.
- ④ 균전제를 시행하여 백성들에게 토지를 나눠주었다.
- ⑤ 인두세(인정세)를 토지세에 포함하여 세금을 징수하였다.

12. 밑줄 친 '정부'에 대한 설명으로 옳은 것은?



이 자료는 지번사가 조정의 회의에 참석하는 순서를 색깔로 구분한 지도이다. 판적봉환*을 단행하였음에도 지번사는 예전처럼 번내 권한을 유지하였다. 이에 정부는 현을 설치하고 관리를 직접 파견하는 폐번치현을 실시하여 지번사를 없앴다. 정부는 이들이 행사하고 있던 연공(세금)을 징수하는 권한을 완전히 거두어들이고, 근대적 토지세 제도인 지조개정을 시행하였다. 이를 통해 중앙 집권 체제를 강화하였다.

* 판적봉환: 번주가 영지와 영민에 대한 권한을 조정에 반환한 것.

- ① 금릉 기기국을 설치하였다.
- ② 교육입국 조서를 반포하였다.
- ③ 흥정 헌법 대강을 발표하였다.
- ④ 소학교 의무 교육을 실시하였다.
- ⑤ 미·일 수호 통상 조약을 체결하였다.

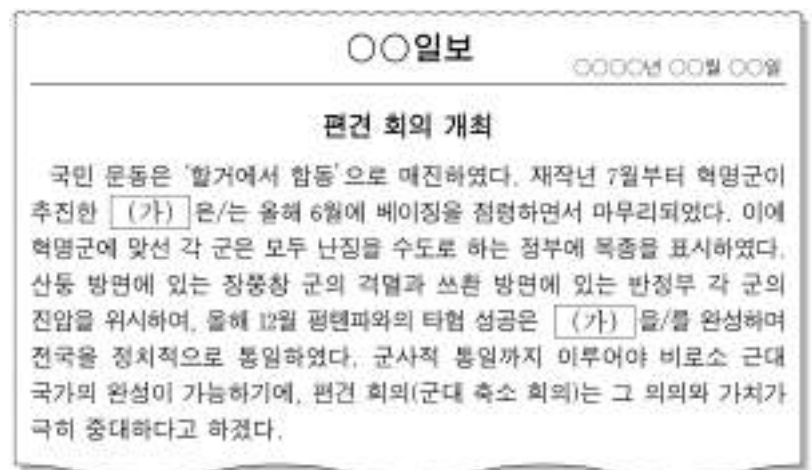
13. (가) 막부 시기 동아시아 문화에 대한 설명으로 옳지 않은 것은?



그림은 (가) 막부 시기에 제작된 우키요에이다. 이것은 당시 유명한 가부키 배우들이 『삼국지연의』의 등장인물 장비, 마초, 관우, 황충, 조운으로 분한 모습을 생동감 있게 표현하였다. 이렇게 고사나 고전을 동시대 사람들이 이해하기 쉬운 소재에 빗대어 그리는 작법을 미타테에(見立繪)라고 부른다.

- ① 판소리가 성행하였다.
- ② 홍루몽이 저술되었다.
- ③ 고증학이 발전하였다.
- ④ 가나 문자가 만들어졌다.
- ⑤ 한글 소설이 유행하였다.

14. (가) 시기에 있었던 사실로 옳은 것만을 <보기>에서 있는 대로 고른 것은? [3점]

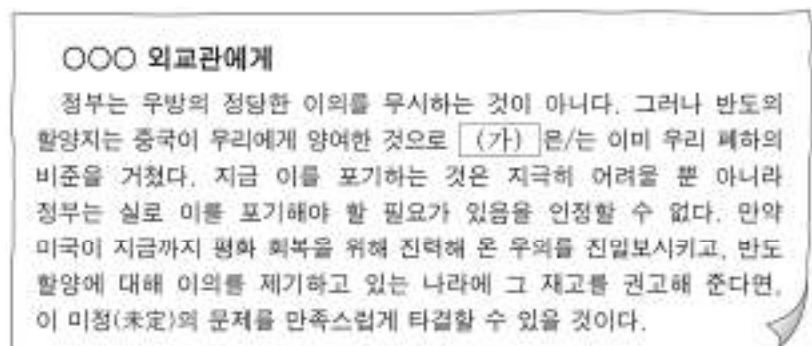


<보 기>

- ㄱ. 제1차 국·공 합작이 붕괴되었다.
- ㄴ. 쑨원이 임시 대총통에 취임하였다.
- ㄷ. 한·중 민족 항일 (대)동맹이 결성되었다.

- ① ㄱ ② ㄴ ③ ㄱ, ㄷ ④ ㄴ, ㄷ ⑤ ㄱ, ㄴ, ㄷ

15. (가)에 대한 설명으로 옳은 것은? [3점]



- ① 일본이 타이완을 확보하는 결과를 낳았다.
- ② 중국에서 5·4 운동이 일어나는 계기가 되었다.
- ③ 엔타이(즈푸)를 추가로 개항하는 배경이 되었다.
- ④ 외국 군대의 베이징 주둔이 허용되는 원인이 되었다.
- ⑤ 러시아가 뤼순·다롄의 조차권을 포기하는 근거가 되었다.

4 (동아시아사)

사회탐구 영역

16. 밑줄 친 ‘3년 동안’에 있었던 사실로 옳은 것은?

우리 군은 위대한 민족 정신을 계승하고 있으며, 지금부터 혁명의 길에서 건국의 중요한 임무를 맡게 될 것이다. 우리 군이 정식으로 성립된 이래 지난 3년 동안 중국 정부에서 보내준 도의적, 물질적 원조에 깊은 감사의 뜻을 표하는 바이다. 한국 혁명 공작은 진일보의 발전이 있었다. 올해 들어 인류 생존을 위협하는 위기는 동맹군의 용맹한 작전에 힘입어 거의 극복되었다. 총칭에서 성립한 우리 군의 3주년을 기념하게 되니 감회가 새롭다. 이 기회를 빌려 우리 군이 한국 혁명사의 일맥상통하는 전통 속에 성장하였음을 다시 확인하고, 조국 광복의 무거운 사명을 완수하기 위한 다짐을 새롭게 하고자 한다. 아울러 우리 군이 전개하고 있는 동맹군들과의 작전에서 맨 앞에 서서 적을 무찌를 수 있기를 바란다.

- ① 알타 회담이 개최되었다.
- ② 미드웨이 해전이 벌어졌다.
- ③ 리튼 조사단이 파견되었다.
- ④ 루거우차오 사건이 발생하였다.
- ⑤ 제2차 세계 대전이 발발하였다.

17. (가)에 대한 설명으로 옳은 것은?

제1조 (b) 연합국은 일본국 및 그 영해에 대한 일본 국민의 완전한 주권을 승인한다.

제5조 (a) 일본국은 국제 연합 헌장 제2조에 규정된 의무, 특히 다음 의무를 수락한다.

- (i) 국제 분쟁을 평화적 수단으로 국제 평화 및 안전, 그리고 정의의 위협하지 않도록 해결할 것.
- (ii) 국제 관계에서 무력에 의한 위협 또는 무력의 행사는 실량 어떠한 나라의 영토 보전 또는 정치적 독립에 대한 것이라 하더라도 국제 연합의 목적에 부합하지 않는다면, 어떠한 경우에도 무력 사용을 자제할 것.

제6조 (a) 연합국의 모든 점령군은 (가) 발효 후 가능한 한 신속히, 그리고 어떤 경우에도 90일 이내에 일본국에서 철수해야 한다. 단, 일본국과의 당지 또는 다지 협정에 따라 외국군의 일본 주둔을 허용하는 경우는 예외로 한다.

- ① 6·25 전쟁 중 체결되었다.
- ② 애치슨 라인 발표의 계기가 되었다.
- ③ 천황을 상징적인 존재로 규정하였다.
- ④ 총통을 직접 선거로 선출한다는 항목을 포함하였다.
- ⑤ 극동 국제 군사 재판(도쿄 재판) 개최에 영향을 주었다.

18. ㉠~㉣ 시기 사이의 동아시아 상황으로 옳은 것은? [3점]

(어느 여성 종군 기자의 활동기)

㉠ 미 해병대 주둔지가 적군에게 공격당한 재산 포위전을 취재할. 이후 작성한 기사가 풀리처상 후보에 오름.

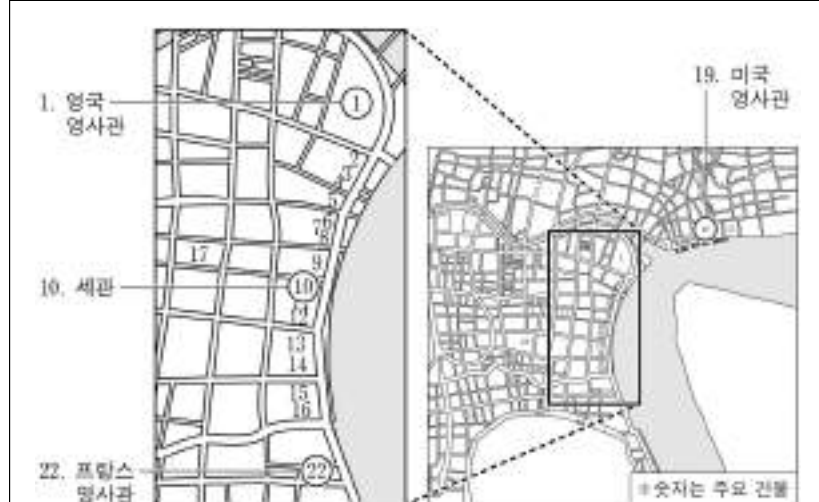
㉡ 구점 대공세 기간 동안 후예에 있는 용우연 왕조의 궁궐에서 벌어진 전투를 취재함.

㉢ 미국 합참이 통킹만에서 어뢰침의 공격을 받았다고 발표한 사건 발생 7주 후, 그 진위에 의문을 제기하는 기사를 작성함.

㉣ 닉슨이 아시아의 방위 책임에 대한 새로운 원칙을 발표하는 해에 수년간의 취재를 마치고 귀국길에 오름.

- ① 10월 유신이 선포되었다.
- ② 문화 대혁명이 시작되었다.
- ③ 베트남 공화국이 수립되었다.
- ④ 파리 평화 협정이 체결되었다.
- ⑤ 두 차례의 석유 파동이 발생하였다.

19. (가) 도시에 대한 설명으로 옳은 것은? [3점]



이 자료는 1855년 (가)의 지도이다. 강 주변의 외국인 거주지에는 미국 영사관(19번), 영국 영사관(1번), 프랑스 영사관(22번)이 위치하였다. 영국 영사관과 프랑스 영사관 사이에 세관(10번)을 중심으로 많은 외국인 회사가 자리 잡으면서 점차 무역 중심지로 성장하였다. (가)은/는 1860년대에 샌프란시스코·요코하마를 잇는 항로가 개통되었고, 1870년대에는 홍콩과 해저 전선이 개설되었으며, 1880년대에는 나가사키·인천을 잇는 정기 항로가 개통되면서 국제 도시로 발전하였다.

- ① 초량 왜관이 설치된 곳이다.
- ② 난징 조약으로 개항된 곳이다.
- ③ 아주 화친회가 창립된 곳이다.
- ④ 고소변화도의 배경이 된 곳이다.
- ⑤ 인공 섬인 테지마가 조성된 곳이다.

20. 밑줄 친 ‘수교’가 이루어진 시기를 연표에서 옳게 고른 것은? [3점]

양국의 우호를 위한 노력

이 사진은 백악관에서 미국 대통령과 중국 부총리가 만나는 장면이네요. 양국 관계의 변화를 보여주는 중요한 순간입니다.

네, 맞아요. 이 만남은 양국이 수교한 직후에 이루어졌어요. 오른쪽 사진은 그 당시의 미국 대통령이 수교 30주년을 기념해 백악관에서 축하를 하고 있는 모습이에요.

(가)	(나)	(다)	(라)	(마)
한국, 제1차 경제 개발 5개년 계획 시작	일본, 도쿄 올림픽 개최	중국, 일본과 국교 수립	베트남, 도이머이 정책 채택	한국, 중국과 국교 수립

중국, 세계 무역 기구 [WTO] 가입

- ① (가)
- ② (나)
- ③ (다)
- ④ (라)
- ⑤ (마)

* 확인 사항

○ 답안지의 해당란에 필요한 내용을 정확히 기입(표기)했는지 확인 하시오.