

제 4 교시

사회탐구 영역(정치와 법)

성명

수험번호

3

제 [] 선택

1. 정치를 바라보는 갑, 을의 관점에 대한 설명으로 옳은 것은?

교사: 임원 자격 기준을 변경하기 위한 ○○고 총동창회 내 찬반 토론을 정치로 볼 수 있을까요?

갑: 정치는 모든 사회 집단에서 나타나는 이해관계의 대립과 갈등을 조정하고 해결하는 활동이므로 이 사례는 정치로 볼 수 있습니다.

을: 정치는 정치권력의 획득·유지·행사에 관한 국가 고유의 활동만을 의미하므로 이 사례는 정치로 볼 수 없습니다.

- ① 갑의 관점은 의회의 입법 활동을 정치로 보지 않는다.
② 을의 관점은 국가 형성 이전의 정치 현상을 설명하는 데 적합하다.
③ 갑의 관점과 달리 을의 관점은 다른 사회 집단과 구분되는 국가만의 특수성을 전제로 한다.
④ 을의 관점과 달리 갑의 관점은 소수의 통치 엘리트에 의해서만 정치가 이루어진다고 본다.
⑤ 갑, 을의 관점 모두 학급 회의를 통해 봉사 활동 장소를 결정하는 과정을 정치로 본다.

2. 다음 과제를 옳게 수행한 학생은? [3점]

【과제】 A~C는 각각 평등권, 사회권, 청구권 중 하나이다. A와 B는 ‘국가의 존재를 전제로 인정되는 권리인가?’라는 질문으로 구분할 수 없고, B와 C는 ‘다른 기본권 보장을 위한 수단적 권리인가?’라는 질문으로 구분할 수 있다. A~C에 대한 아래의 진술이 맞으면 ○, 틀리면 ×로 답하시오.

진술 \ 학생	갑	을	병	정	무
교육을 받을 권리는 A에 포함된다.	○	○	○	×	×
청원권은 B에 포함된다.	○	○	×	×	×
C는 국가에 일정한 급부를 요구할 수 있는 적극적 권리이다.	×	×	×	○	○
A, C와 달리 B는 자본주의의 문제점을 해결하는 과정에서 등장한 현대적 권리이다.	×	○	×	×	○
A, B와 달리 C는 다른 모든 기본권 보장의 전제가 되는 권리이다.	○	×	○	○	×

- ① 갑 ② 을 ③ 병 ④ 정 ⑤ 무

3. 우리나라 국가 기관 A~D에 대한 설명으로 옳은 것은?

A의 소속하에 있는 B는 세입·세출의 결산을 매년 검사하여 그 결과를 A와 C에 보고하며, C는 B로부터 보고받은 세입·세출의 결산을 심사한다. 또한 C는 D가 부의장인 국무회의에서 심의된 국가 예산안을 심의·확정한다.

- ① B는 국정을 감사하거나 특정한 국정 사안을 조사할 수 있다.
② A는 민주적 기본 질서에 위배된 활동을 한 정당을 C에 제소할 수 있다.
③ A는 C의 제청을 받아 국무 위원 중에서 행정 각부의 장(長)을 임명한다.
④ C는 D의 해임을 A에게 건의할 수 있다.
⑤ D와 달리 B의 장(長)은 C의 동의를 얻어 A가 임명한다.

4. 다음 글에 나타난 국제 관계를 바라보는 관점에 부합하는 진술만을 <보기>에서 고른 것은?

국제 사회에서는 개별 국가의 생존이 불확실하므로 모든 국가가 자국의 힘을 키우려 한다. 그러나 이것이 항상 가능하지는 않으므로 일부 국가는 강대국과 동맹을 맺기도 한다.

< 보 기 >

- ㄱ. 국제 사회는 만인에 대한 만인의 투쟁 상태와 같다.
ㄴ. 집단 안보 체제를 통해 국제 평화를 달성할 수 있다.
ㄷ. 국가 안보를 위해서는 세력 균형 전략이 효과적이다.
ㄹ. 보편적 선(善)을 기반으로 국가 간 협력이 가능하다.

- ① ㄱ, ㄴ ② ㄱ, ㄷ ③ ㄴ, ㄷ ④ ㄴ, ㄹ ⑤ ㄷ, ㄹ

5. 다음 자료에 대한 분석으로 옳은 것은? [3점]

전형적인 정부 형태를 채택하고 있는 갑국은 t대와 t+1대의 정부 형태가 다르고, t+1대와 t+2대의 정부 형태는 같다. 갑국 의회의 총의석수는 100석으로 변동이 없으며, t대의 행정부 수반은 B당 소속이다. 표는 갑국의 t~t+2대 의회의 정당별 의석수를 나타낸 것이다.

(단위: 석)


의회 시기 \ 정당	A당	B당	C당
t대	52	42	6
t+1대	43	52	5
t+2대	48	45	7

- ① t대에는 연립 내각이 구성된다.
② t+1대에는 행정부 수반이 의회 해산권을 가진다.
③ t+2대에는 행정부 수반과 국가 원수가 동일인이다.
④ t+1대와 달리 t대 의회 의원은 각료를 겸직할 수 있다.
⑤ t+1대와 달리 t+2대에는 여소야대 현상이 나타난다.

6. 밑줄 친 ㉠~㉣에 대한 설명으로 옳은 것은? [3점]

청소년에게 불법 도박을 강요했다는 혐의로 수사를 받던 갑이 ㉠ 구속 영장 실질 심사 후 구속되었습니다. 갑은 ㉡ 구속 적부 심사를 청구하였으나 받아들여지지 않았고, ㉢ 기소되었습니다. 이후 재판은 어떻게 되었나요?

네, 최근 담당 재판부는 갑에게 ㉣ 징역 1년에 집행 유예 2년을 선고하였습니다. 이에 대해 갑과 달리 검사는 ㉤ 항소하겠다는 입장입니다.



- ① ㉠과 달리 ㉡은 검사의 권한이다.
- ② ㉡은 피의자의 가석방을 결정하는 절차이다.
- ③ ㉢ 이전에 갑은 변호인의 조력을 받을 수 없다.
- ④ ㉣로 인해 갑은 형사 보상을 청구할 수 있다.
- ⑤ ㉤에 따른 재판 중 갑에게 무죄 추정의 원칙이 적용된다.

7. 정치 참여 집단 A~C에 대한 설명으로 옳은 것은? (단, A~C는 각각 정당, 이익 집단, 시민 단체 중 하나임.)

지방 자치 단체에서 지역 경제 활성화를 위해 각종 개발 사업을 논의하는 가운데, 지역 소상공인들의 이익을 대변하는 A는 소득 증대에 도움이 될 수 있는 개발을 촉진하기 위해 환경 관련 규제의 완화를 요구하고 있다. 반면, 환경 보호를 목적으로 설립된 B는 무분별한 개발로 환경이 파괴되는 것을 우려하며 규제 완화에 대한 충분한 검토를 요구하고 있다. C는 A, B의 요구를 고려하여 다음 지방 선거에서 지역 개발 관련 공약을 제시하고자 한다.

- ① C는 행정부와 의회를 매개하는 역할을 수행한다.
- ② A와 달리 B는 자신의 활동에 대해 정치적 책임을 진다.
- ③ C와 달리 A, B는 정치 사회화 기능을 담당한다.
- ④ A, B와 달리 C는 대의 민주주의의 한계를 보완한다.
- ⑤ B, C와 달리 A는 사익보다 공익을 우선시한다.

8. 다음 자료에 대한 분석으로 옳은 것은?

갑은 을의 집에 무단으로 침입하였다는 이유로 형법 ○○ 조항에 따라 기소되어 1심 법원에서 징역형을 선고받았다. 갑은 항소심 계속 중 해당 조항에 대하여 A에 ㉠ 위헌 법률 심판 제청 신청을 하였다. A가 이를 기각하자 갑은 해당 조항에 대하여 B에 ㉡ 헌법 소원 심판을 청구하였고, B는 해당 조항이 헌법에 위반되지 않는다고 결정하였다.

- ① ㉡은 권리 구제형 헌법 소원 심판이다.
- ② A는 직권으로 B에 ㉠을 제청할 수 있다.
- ③ B의 결정으로 갑에 대한 1심 법원의 선고가 확정되었다.
- ④ A, B 모두 갑이 유죄라고 판단하였다.
- ⑤ A와 B는 형법 ○○ 조항의 위헌 여부에 대한 판단이 서로 달랐다.

9. 다음 자료에 대한 법적 판단으로 옳은 것은? [3점]

갑(45세)은 을(17세)과 고가의 자전거 매매 계약을 체결하면서 다음 날 돈을 받고 자전거를 인도하기로 하였다. 그런데 계약 체결 직후 병이 갑에게 더 큰 금액으로 해당 자전거를 구입하겠다고 하자, 갑은 계약 당일 저녁 을에게 계약 철회를 통보하였다. 이에 대해 을의 부모(을의 법정 대리인)로부터 문의를 받은 변호사는 “(가) 갑은 철회권을 행사할 수 없습니다.”라고 하였다.

- ① 을이 미성년자이므로 갑과 을의 계약은 무효이다.
- ② 을이 부모의 동의 없이 갑과 계약을 체결하였다면 을은 취소권을 행사할 수 없다.
- ③ 을이 부모의 동의서를 위조하여 제시하고 갑과 계약을 체결하였다면 갑은 철회권을 행사할 수 있다.
- ④ (가)에는 ‘갑이 계약 당시 을이 미성년자임을 알고 있었다면’이 들어갈 수 있다.
- ⑤ (가)에는 ‘갑이 계약을 철회하기 전에 을의 부모가 추인하였다면’이 들어갈 수 없다.

10. 다음 자료에 대한 옳은 분석 및 추론만을 <보기>에서 고른 것은? [3점]

갑국 의회는 지역구 의원 100명과 비례 대표 의원 50명으로 구성된다. 지역구 의원은 선거구마다 득표순으로 상위 후보자 2명이 당선되며, 각 정당은 선거구별로 1명의 후보자만 공천한다. 비례 대표 의석은 각 정당이 얻은 득표율에 비례하여 각 정당에 배분된다. 유권자는 지역구 의원 선출을 위해 후보자에 1표, 비례 대표 의원 선출을 위해 정당에 1표를 행사한다. 표는 최근 갑국의 의회 의원 선거 결과이다.

(단위: %)

구분		A당	B당	C당	D당
지역구 의원 선거	득표율	35	40	15	10
	의석률	45	30	10	15
비례 대표 의원 선거	득표율	30	40	20	10
	의석률	30	40	20	10

* 각 선거의 투표율은 100%이며 무효표는 없음.

< 보 기 >

- ㄱ. 지역구 의원 선거에서 절대다수 대표제를 채택하고 있다.
- ㄴ. 갑국 의회 의원 선거 제도는 과반 의석을 확보한 정당이 나타날 수 있는 제도이다.
- ㄷ. 지역구 의원 선거에서 동일 선거구 내 당선자 간 표의 등가성 문제가 나타날 수 없다.
- ㄹ. 비례 대표 의원 선거의 득표율보다 총의석률이 높은 정당은 A당, D당이다.

- ① ㄱ, ㄴ ② ㄱ, ㄷ ③ ㄴ, ㄷ ④ ㄴ, ㄹ ⑤ ㄷ, ㄹ

11. 지방 자치 단체의 기관 A, B에 대한 설명으로 옳은 것은?
(단, A, B는 각각 지방 의회, 지방 자치 단체의 장 중 하나임.)

△△신문 ○○○○년 ○○월 ○○일

주민 투표 청구도 인터넷으로!

온라인 주민 참여 플랫폼의 도입으로 주민들은 인터넷을 통해 주민 투표를 청구할 수 있게 되었다. 주민 투표는 주민에게 중대한 영향을 미치는 A와 B의 주요 정책을 주민이 투표로 직접 결정하는 제도이다. 한편 이 플랫폼에서는 주민들이 A의 권한인 조례의 제정·개정·폐지를 청구할 수도 있다.

- ① A는 주민 투표와 관련한 법률을 개정할 수 있다.
- ② B는 지방 자치 단체를 대표하고 행정 사무를 총괄한다.
- ③ A와 B 간에는 수직적 권력 분립이 나타난다.
- ④ B는 A가 편성한 지방 자치 단체의 예산안을 심의·확정한다.
- ⑤ 지방 자치 단체의 행정 사무 감사권은 A에 대한 B의 견제 수단이다.

12. 법치주의의 유형 A, B에 대한 설명으로 옳은 것은?

A와 달리 B는 ‘국가 권력이 법에 근거하여 행사되어야 한다고 보는가?’, ‘법의 목적과 내용이 정의에 합치되어야 함을 강조하는가?’라는 두 질문에 대한 응답이 동일하다.

* 응답은 ‘예’와 ‘아니요’ 중 하나임.

- ① A는 입법자에 의한 기본권 침해 가능성을 간과한다.
- ② B는 합법적 독재를 옹호하는 근거로 악용될 수 있다.
- ③ A와 달리 B는 법 제정의 절차적 합법성을 중시한다.
- ④ B와 달리 A는 국민의 자유와 권리 보장을 목적으로 한다.
- ⑤ A, B 모두 위헌 법률 심사제의 필요성을 강조한다.

13. 다음 사례에 대한 법적 판단으로 옳은 것은? [3점]

A와 B 사이에서 태어난 갑은 19세에 을과 혼인하였으나 1년 뒤 자녀가 없는 상태에서 이혼하였다. 이후 갑은 배우자가 사망하여 홀로 자녀 C를 키우고 있는 병과 교제 중이다. 한편, 이웃에 사는 부부 D와 E는 혼인 후 자녀가 없어 가업을 물려주고자 갑을 양자로 입양하고 싶다는 의사를 갑에게 전달하였다. 갑은 두 가지 선택 사이에서 고민 중이다.

(가) 병과 재혼하여 고향을 떠남.

(나) D와 E에게 양자로 입양되어 고향에 남음.


* 사례의 모든 혼인은 법률혼임.

- ① (가)의 경우 갑은 A, B와 친족 관계가 종료된다.
- ② (가)의 경우 갑은 을과 혼인할 때와 달리 A, B의 동의가 필요하지 않다.
- ③ (가)의 경우 갑이 사망하면 C와 달리 A, B는 갑의 상속인이 된다.
- ④ (나)의 경우 갑에 대한 친권은 D, E가 공동으로 행사한다.
- ⑤ (나)의 경우 갑의 성과 본은 D 또는 E의 성과 본으로 바뀌게 된다.

14. 그림의 A에 대한 설명으로 옳은 것은?

다음 법률 조항에는 근대 민법의 기본 원칙 A에 대한 수정·보완 내용이 반영되어 있습니다. 우리나라에서 농지를 농업 생산이나 농지 개량 외의 용도로 사용하고자 할 때는 원칙적으로 허가를 받거나 신고를 해야 합니다.

농지법 제3조 ① 농지는 국민에게 식량을 공급하고 국토 환경을 보전하는 데에 필요한 기반이며 농업과 국민 경제의 조화로운 발전에 영향을 미치는 한정된 귀중한 자원이므로 소중히 보전되어야 하고 공공복리에 적합하게 관리되어야 하며, 농지에 관한 권리의 행사에는 필요한 제한과 의무가 따른다.



- ① 개인 소유 재산에 대한 사적 지배를 강조한다.
- ② 개인의 소유권이 법률로 제한될 수 있는 권리라고 본다.
- ③ 개인이 자율적으로 법률관계를 형성할 수 있다는 원칙이다.
- ④ 현저하게 불공정한 계약은 효력이 인정되지 않는다고 본다.
- ⑤ 자기 행동에 고의나 과실이 있을 때 책임을 진다는 원칙이다.

15. 죄형 법정주의의 파생 원칙 A에 부합하는 진술로 옳은 것은? [3점]

자동차 무면허 운전의 처벌을 규정한 도로 교통법 제152조는 운전면허의 효력이 정지된 사람도 운전면허를 애초에 받지 않은 사람과 마찬가지로 처벌된다는 것을 명시하고 있다. 하지만 원동기 장치 자전거 무면허 운전의 처벌을 규정한 도로 교통법 제154조는 처벌 대상으로 원동기 장치 자전거 운전면허를 애초에 받지 않은 사람을 정하고 있을 뿐, 운전면허의 효력이 정지된 사람에 대해서는 언급이 없다. 따라서 원동기 장치 자전거 운전면허의 효력이 정지된 상태에서 원동기 장치 자전거를 운전한 사람을 도로 교통법 제152조에 따라 처벌하는 것은 법률에 규정이 없는 사항에 대해서 그것과 유사한 성질을 가지는 사항에 관한 법률을 적용한 것이므로 A에 위배되어 타당하지 않다.

- ① 범죄는 관습법을 적용하여 처벌해서는 안 된다.
- ② 범죄의 성립과 그 처벌은 행위 당시의 법률에 의해야 한다.
- ③ 범죄 행위의 경중에 비해 부과되는 형벌이 과도해서는 안 된다.
- ④ 범죄 행위와 그에 대한 형벌을 규정한 법률 내용이 명확해야 한다.
- ⑤ 법률 조항을 유추 해석하여 당사자에게 불리하게 적용해서는 안 된다.

16. 다음 자료에 대한 설명으로 옳은 것은?

교사: 우리나라 헌법의 기본 원리 A의 실현 방안을 발표해 보세요.
 갑: 사회 보장 제도를 실시하고 있습니다.
 을: 형사 절차에서 진술 거부권을 보장하고 있습니다.
 병: 여성 및 연소자 근로를 특별히 보호하고 있습니다.
 정: (가) 을/를 보장하고 있습니다.
 교사: 3명은 옳게 발표했는데, 1명은 우리나라 헌법의 기본 원리 B의 실현 방안을 발표했네요.

- ① A는 국가 권력 행사의 최소화를 강조한다.
- ② B는 소득 불평등 완화를 위한 정부 개입의 근거가 된다.
- ③ B와 달리 A는 근대 입헌주의 헌법에서부터 중시되었다.
- ④ (가)에는 ‘사생활의 비밀과 자유’가 들어갈 수 있다.
- ⑤ (가)에는 ‘노동조합을 결성할 권리’가 들어갈 수 있다.

17. 다음 사례에 대한 옳은 법적 판단만을 <보기>에서 있는 대로 고른 것은? [3점]

대형 마트 사장인 갑은 을(14세)과 시간당 임금을 10,000원으로, 병(18세)과 시간당 임금을 10,500원으로 하는 근로계약을 각각 체결하였다. 을, 병 모두 매주 5일간 근무하며, 근로 시간은 09시~17시이고, 휴게 시간은 12시~13시이다.
 * 법정 최저 임금은 시간당 10,030원임.

— < 보 기 > —

- ㄱ. 을은 갑에게 법정 최저 임금을 요구할 수 없다.
- ㄴ. 갑은 병과 합의하여 병의 근로 시간을 1일에 2시간 한도 내에서 연장할 수 있다.
- ㄷ. 을과 달리 병은 고용 노동부 장관이 발급한 취직 인허증이 없어도 근로할 수 있다.
- ㄹ. 갑은 을, 병의 친권자 또는 후견인의 동의서를 사업장에 갖추어 두어야 한다.

- ① ㄱ, ㄴ ② ㄱ, ㄷ ③ ㄴ, ㄷ
- ④ ㄱ, ㄷ, ㄹ ⑤ ㄴ, ㄷ, ㄹ

18. 다음 사례에서 법원이 판단한 내용으로 옳은 것은?

갑은 을이 운영하는 매장의 직원인 병에게 기계 수리를 맡았는데, 다음 날 기계가 제대로 작동하지 않아 크게 다쳤다. 이에 갑은 을과 병을 상대로 손해 배상 청구 소송을 제기하였다. 법원은 병이 기계 수리 과정에서 부품 조립을 소홀히 하여 기계 작동에 하자가 발생하였으므로 병에게 배상 책임이 있고, 동시에 을에게도 배상 책임이 있다고 판단하였다.

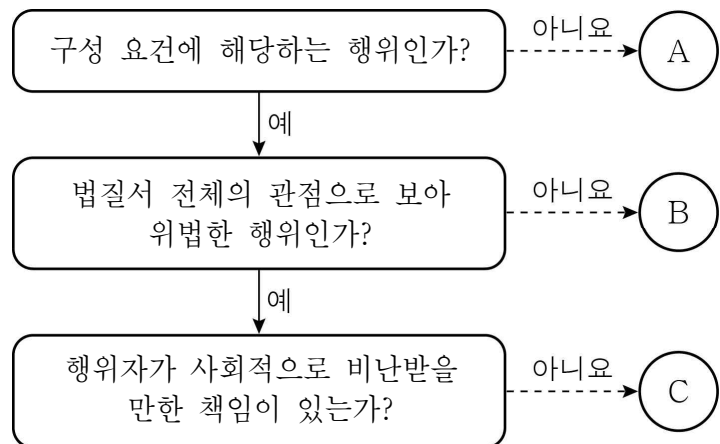
- ① 을과 병은 공동 불법 행위자의 책임을 진다.
- ② 병은 특수 불법 행위로 인한 손해 배상 책임을 진다.
- ③ 을의 행위와 갑의 손해 사이에 인과 관계가 인정된다.
- ④ 을은 과실로 인해 갑에게 일반 불법 행위 책임을 진다.
- ⑤ 을이 병의 선임 및 그 사무 감독에 상당한 주의를 다하였음은 인정되지 않는다.

19. 표는 국제법의 법원(法源) A~C를 질문에 따라 구분한 것이다. 이에 대한 설명으로 옳은 것은? (단, A~C는 각각 조약, 국제 관습법, 법의 일반 원칙 중 하나임.) [3점]

구분	A	B	C
국제 사회에서 포괄적 구속력을 갖는가?	아니요	예	예
‘국내 문제 불간섭’을 사례로 들 수 있는가?	아니요	예	아니요
(가)	㉠	㉡	㉢

- ① 국가와 달리 국제기구는 A의 체결 주체가 될 수 없다.
- ② B의 사례로 ‘신의 성실의 원칙’을 들 수 있다.
- ③ (가)에 ‘국제 사법 재판소에서 재판의 준거로 활용되는가?’가 들어가면 ㉠~㉢은 모두 ‘예’이다.
- ④ (가)에 ‘국제 사회에서 명시적 합의 과정을 거쳐야 성립하는가?’가 들어가면 ㉠~㉢은 모두 ‘아니요’이다.
- ⑤ ㉠~㉢이 모두 ‘예’이면 (가)에 ‘국회의 동의를 있어야 우리나라에서 법적 효력을 갖는가?’가 들어갈 수 있다.

20. 다음 자료는 범죄의 성립 요건을 학습하기 위한 것이다. A~C에 대한 옳은 설명만을 <보기>에서 있는 대로 고른 것은? [3점]



— < 보 기 > —

- ㄱ. A의 사례로 갑(20세)이 만취한 상태에서 옆에 앉은 손님의 지갑을 훔친 행위를 들 수 있다.
- ㄴ. B의 사례로 을(30세)이 흥기로 자신을 위협하는 강도로부터 도망치기 위해 근처 상점의 창문을 깨고 안으로 들어간 행위를 들 수 있다.
- ㄷ. C의 사례로 병(40세)이 저항할 수 없는 협박을 받아 회사의 기밀을 유출한 행위를 들 수 있다.

- ① ㄱ ② ㄴ ③ ㄱ, ㄷ ④ ㄴ, ㄷ ⑤ ㄱ, ㄴ, ㄷ

* 확인 사항

- 답안지의 해당란에 필요한 내용을 정확히 기입(표기)했는지 확인하십시오.