

제 4 교시

사회탐구 영역(세계지리)

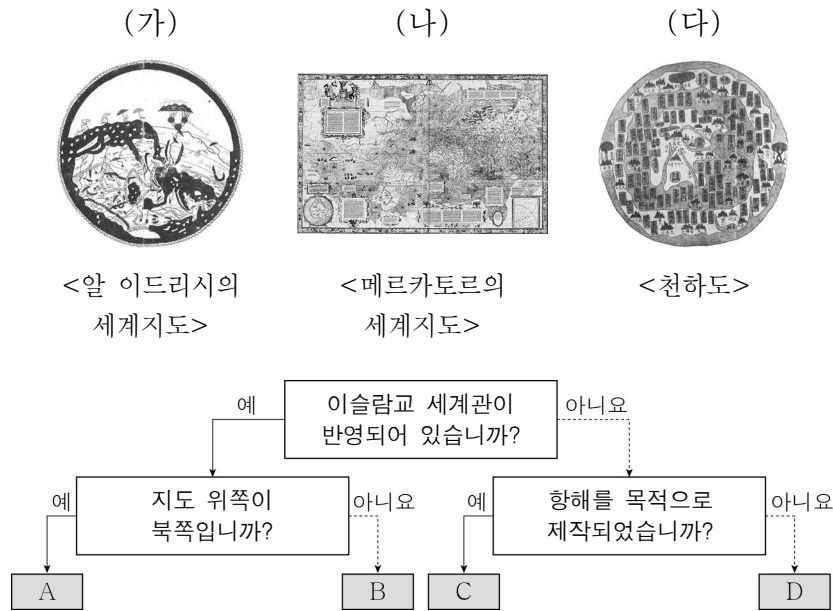
성명

수험번호

3

제 [] 선택

1. (가)~(다) 지도의 특징을 그림의 A~D에서 고른 것은?



- (가) (나) (다)
- ① A C D
 ② A D B
 ③ B C D
 ④ B D C
 ⑤ C A B

2. 다음 자료의 ㉠~㉢에 대한 설명으로 옳은 것만을 <보기>에서 있는 대로 고른 것은?

요리로 만나는 세계 - 이탈리아편
 세계를 담은 한 그릇, 갓익 명란 파스타

오늘 제가 소개할 음식은 파스타입니다. 파스타는 이탈리아의 대표적인 음식 중 하나이죠. 그러나 지금은 ㉠ 전 세계 사람들이 각 지역의 특색 있는 재료를 활용한 파스타를 다양한 방식으로 조리해서 먹습니다. 저는 이탈리아의 바질 페스토 파스타에서 영감을 얻어 갓익 명란 파스타를 만들어 봤어요. 바질 대신에 우리나라에서 즐겨 먹는 갓익을 사용하고, 거기에 명란을 추가했습니다. ㉡ 이탈리아산 스파게티 면과 에스파냐산 올리브유로 유럽의 맛을 보여 드리겠습니다.

이탈리아는?
 ■ 수도: 로마
 ■ ㉢ 인구: 약 5,950만 명(2023)
 :

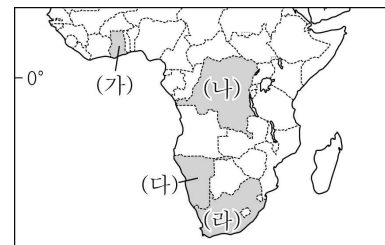
- < 보 기 >
- ㄱ. ㉠은 지리 정보의 유형 중 공간 정보에 해당한다.
 ㄴ. ㉡은 '세방화(글로벌라이제이션)'의 사례이다.
 ㄷ. ㉢의 사용은 교통의 발달과 관련이 깊다.
- ① ㄱ ② ㄷ ③ ㄱ, ㄴ ④ ㄴ, ㄷ ⑤ ㄱ, ㄴ, ㄷ

3. 다음 글의 ㉠~㉢에 관한 내용으로 옳은 것만을 <보기>에서 고른 것은?

㉠ 기후 지역은 저위도에 위치하여 연중 기온이 높다. 또한 무역풍의 수렴으로 형성되는 ㉡의 영향으로 일 년 내내 강수량이 많다. 그래서 ㉢이 지역에서 발달하는 식생은 잎이 넓고 연중 초록색을 띤다. 한편, 이 지역은 폭우가 자주 쏟아져 토양이 척박하므로, 주민들은 숲에 불을 지르고 그 재로 토양의 비옥도를 높이는 ㉣ 이동식 화전 농업을 주로 한다.

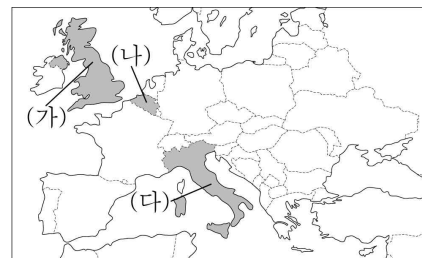
- < 보 기 >
- ㄱ. ㉠은 사바나이다.
 ㄴ. ㉡은 아열대 고압대이다.
 ㄷ. ㉢은 대체로 종류가 다양하고 밀도가 높다.
 ㄹ. ㉣을 통해 주로 암, 카사바 등의 주식 작물을 재배한다.
- ① ㄱ, ㄴ ② ㄱ, ㄷ ③ ㄴ, ㄷ ④ ㄴ, ㄹ ⑤ ㄷ, ㄹ

4. 지도의 (가)~(라) 국가에 대한 설명으로 옳은 것만을 <보기>에서 고른 것은? [3점]



- < 보 기 >
- ㄱ. (나)는 인종 차별 정책인 '아파르트헤이트'를 시행했었다.
 ㄴ. (다)에는 한류의 영향을 받아 형성된 사막이 있다.
 ㄷ. (가)는 (나)보다 카카오 생산량이 많다.
 ㄹ. (다)는 (라)보다 석탄 생산량이 많다.
- ① ㄱ, ㄴ ② ㄱ, ㄷ ③ ㄴ, ㄷ ④ ㄴ, ㄹ ⑤ ㄷ, ㄹ


5. 지도의 (가)~(다) 국가에 대한 설명으로 옳은 것은?



- ① (가)에는 국제 연합의 본부가 위치한다.
 ② (나)는 오스트리아와 국경을 접하고 있다.
 ③ (다)에는 첨단 산업 지구인 실리콘 글렌이 있다.
 ④ (나), (다)는 모두 남부 지역이 북부 지역보다 평균 소득 수준이 높다.
 ⑤ (가)~(다)는 모두 각 국가로부터의 분리 독립 움직임이 있는 지역이 있다.

6. (가)산맥에 대한 설명으로 옳은 것은?

스위스의 50프랑 지폐에는 패러글라이딩을 즐기는 사람의 모습과 함께 거대하고 험준한 (가) 산맥이 그려져 있다. 이처럼 세계 각국의 지폐에는 자국의 상징적 요소를 디자인에 반영하는 경우가 많다.



- ① 환태평양 조산대에 속한다.
- ② 세계적인 철광석 매장 지역이다.
- ③ 대륙판과 대륙판의 충돌로 형성되었다.
- ④ 고생대 이전의 조산 운동으로 형성되었다.
- ⑤ 두 판이 수평으로 어긋나서 미끄러지는 경계에 위치한다.

7. 다음은 사회 관계망 서비스[SNS]에서 ‘지형 경관’을 검색한 결과이다. ㉠~㉣에 대한 설명으로 옳은 것만을 <보기>에서 고른 것은? [3점]

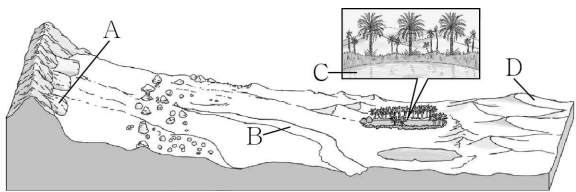


< 보 기 >

- ㄱ. ㉠은 용암류와 화산 쇄설물 등이 겹겹이 쌓여 형성된다.
- ㄴ. ㉡은 중국 남부의 구이린에서도 볼 수 있다.
- ㄷ. ㉢은 기반암의 용식 작용으로 형성된다.
- ㄹ. ㉠~㉣은 모두 습윤 지역보다 건조 지역에서 잘 발달한다.

- ① ㄱ, ㄴ ② ㄱ, ㄷ ③ ㄴ, ㄷ ④ ㄴ, ㄹ ⑤ ㄷ, ㄹ

8. A~D에 대한 설명으로 옳은 것만을 <보기>에서 있는 대로 고른 것은? (단, A~D는 각각 사구, 선상지, 오아시스, 와디 중 하나임.)

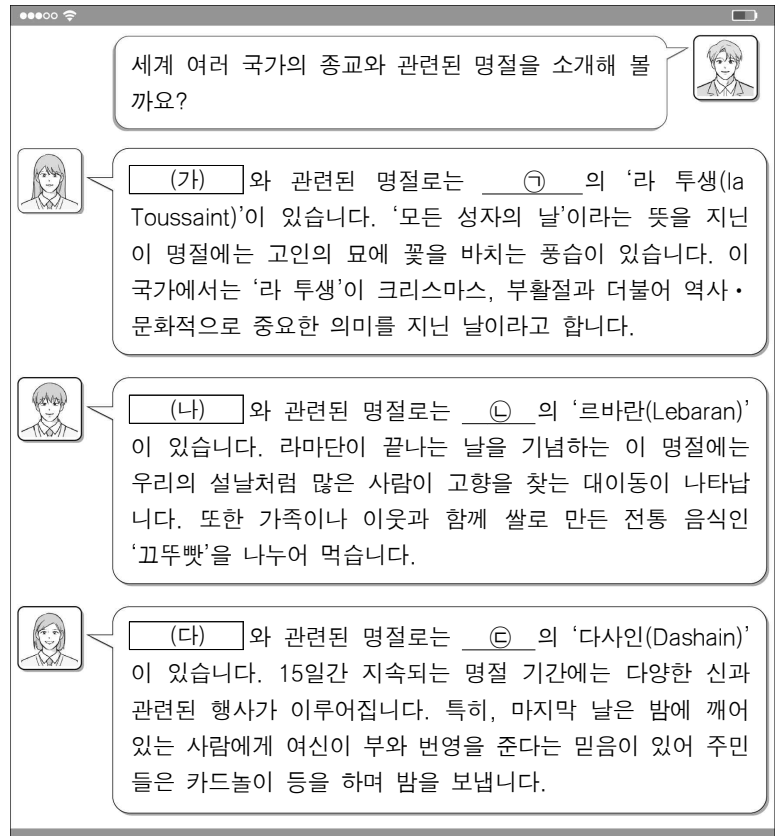


< 보 기 >

- ㄱ. A가 연속적으로 이어진 지형을 바르한이라고 한다.
- ㄴ. B는 비가 내릴 때만 일시적으로 물이 흐르는 하천이다.
- ㄷ. C 주변에서는 관개를 통해 밀, 대추야자 등을 재배하기도 한다.
- ㄹ. D는 주로 바람에 날린 모래가 퇴적되어 형성된다.

- ① ㄱ, ㄴ ② ㄱ, ㄷ ③ ㄷ, ㄹ
④ ㄱ, ㄴ, ㄹ ⑤ ㄴ, ㄷ, ㄹ

9. 다음은 세계지리 온라인 수업 장면의 일부이다. 이에 대한 설명으로 옳은 것은? (단, (가)~(다)는 각각 이슬람교, 크리스마스, 힌두교 중 하나이며, ㉠~㉣은 각각 네팔, 인도네시아, 프랑스 중 하나임.) [3점]



- ① (다)의 사원은 대부분 아라베스크 문양으로 장식되어 있다.
- ② (가), (나)는 모두 기원지가 서남아시아에 위치한다.
- ③ (나)는 민족 종교, (가)와 (다)는 보편 종교이다.
- ④ 전 세계 신자 수는 (가)>(다)>(나) 순으로 많다.
- ⑤ ㉠은 프랑스, ㉡은 네팔, ㉢은 인도네시아이다.

10. 다음은 건조 아시아와 북부 아프리카 단원의 수업 활동지이다. (가)에 들어갈 내용으로 옳은 것은? [3점]

※ <퀴즈>의 정답에 해당하는 글자를 지우면 <글자판>의 글자가 모두 지워집니다. (단, 중복되는 글자는 각각 지울 것.)

<퀴즈>

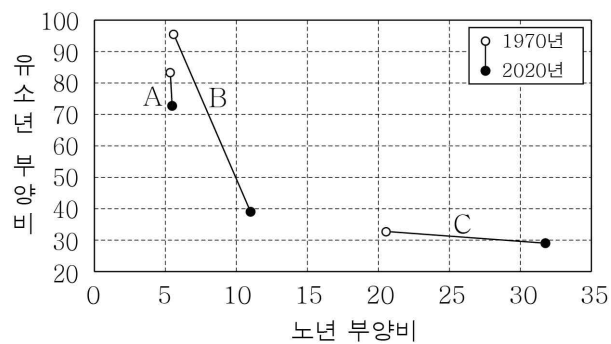
<글자판>

- (1) 건조 또는 반건조 지역에서 식생이 감소하고 토양이 황폐화되는 현상
- (2) 바닷물에서 염분 등의 용해 물질을 제거하여 담수를 얻는 물 처리 과정
- (3) 실내 온도를 낮추기 위해 전통 가옥에 설치한 탑 모양의 환풍구
- (4) 상인들이 무리 지어 이동하며 물건을 팔거나 교환하는 무역
- (5) _____ (가) _____

르	해	바	상
천	대	외	화
수	역	막	하
사	드	수	무
래	담	화	기

- ① 아라비아반도와 이란 사이의 만
- ② 주로 습윤 지역에서 발원하여 건조 지역을 통과해 흐르는 하천
- ③ 지하수를 멀리 떨어진 마을과 농경지로 공급하는 지하 관개수로
- ④ 기존의 방식과는 다른 방법 및 기술을 사용하여 생산 또는 추출되는 식유
- ⑤ 사하라 사막 남쪽의 건조 및 반건조 지역을 말하며 아랍어로 ‘가장자리’라는 뜻을 지님.

11. 그래프는 세 국가의 인구 부양비 변화를 나타낸 것이다. A ~ C에 대한 설명으로 옳은 것은? (단, A ~ C는 각각 멕시코, 스웨덴, 에티오피아 중 하나임.) [3점]



- ① C는 1970년의 노령화 지수가 100보다 높다.
- ② A는 아메리카, B는 아프리카에 위치한다.
- ③ A는 C보다 두 시기 모두 합계 출산율이 낮다.
- ④ B는 A보다 2020년의 국가 내 2차 산업 종사자 비율이 낮다.
- ⑤ C는 B보다 2020년의 총부양비가 높다.

12. 다음 자료의 ㉠ ~ ㉣에 대한 설명으로 옳은 것만을 <보기>에서 고른 것은?

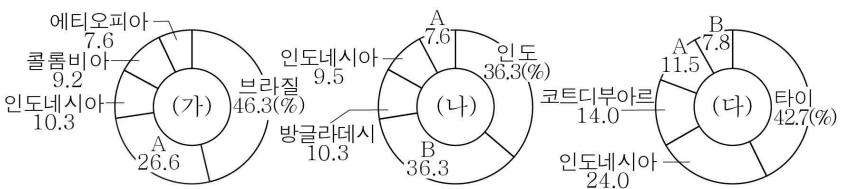
노르웨이의 게이랑에르 ㉠ 피오르로 가는 길에는 신화 속 괴물 ‘트롤’을 조심하라는 경고 표지판이 있다. 이 표지판은 ‘요정의 사다리’라고 불리는 트롤스티겐(Trollstigen) 도로변에 있다. 도로는 ㉡ 절벽과 폭포로 둘러싸인 웅장한 골짜기를 지나며, 주변 ㉢ 산지의 뾰족한 정상 부근에는 하늘빛 ㉣ 호수가 절경을 이룬다.



- < 보 기 >
- ㉠. ㉠은 후빙기 해수면 상승으로 침수되어 형성되었다.
 - ㉡. ㉡은 빙하의 침식으로 형성된 U자 모양의 계곡이다.
 - ㉢. ㉢은 주로 바람에 의한 침식 작용으로 형성된다.
 - ㉣. ㉣의 물은 염분이 많아 식수로 부적합하다.

- ① ㉠, ㉡ ② ㉠, ㉢ ③ ㉡, ㉢ ④ ㉡, ㉣ ⑤ ㉢, ㉣

13. 그래프는 작물별 생산량 비율을 나타낸 것이다. 이에 대한 설명으로 옳은 것은? (단, (가)~(다)는 각각 쌀, 천연고무, 커피 중 하나이고, A, B는 각각 베트남, 중국 중 하나임.) [3점]




* 작물별 생산량 상위 5개국의 생산량 합을 100%로 나타냄. (2023)

- ① (가)는 주로 공업 제품의 원료로 사용된다.
- ② (나)는 (가)보다 기호 식품으로 이용되는 비율이 높다.
- ③ (다)는 (나)보다 플랜테이션의 형태로 재배되는 비율이 높다.
- ④ (나)의 최대 수출국은 B이다.
- ⑤ A는 중국, B는 베트남이다.

14. (가) 지역의 도시를 표의 A ~ E에서 고른 것은? [3점]

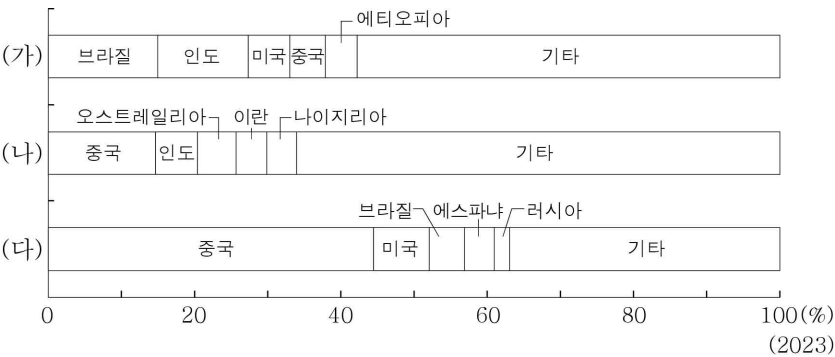
호안 미로(Joan Miró)의 「포도와 올리브나무」(1919)는 그의 고향인 에스파냐 (가) 지역의 자연환경에서 영감을 받아 그린 작품이다. 그림에는 여름이 고온 건조한 이 지역에서 흔히 볼 수 있는 포도나무와 올리브나무가 세밀하게 표현되어 있다.



도시	A	B	C	D	E
기후 값					
1월 평균 기온(℃)	27.3	-17.6	22.8	-1.0	9.6
7월 강수량(mm)	166.2	101.4	0.1	81.9	24.3
연 강수량(mm)	2,841.6	471.8	2.1	1,099.1	538.9

- ① A ② B ③ C ④ D ⑤ E

15. 그래프는 세계 주요 가축의 국가별 사육 두수 비율을 나타낸 것이다. (가)~(다)에 대한 설명으로 옳은 것은? (단, (가)~(다)는 각각 돼지, 소, 양 중 하나임.) [3점]



- ① (가)는 이슬람 문화권에서 식용을 금기시한다.
- ② (나)는 전통적 벼농사 지역에서 노동력 대체 효과가 크다.
- ③ (다)는 아메리카에서 대부분 방목의 형태로 사육된다.
- ④ (가)는 (다)보다 전 세계 사육 두수가 많다.
- ⑤ (가)~(다) 중 전 세계 육류 생산량은 (나)가 가장 많다.

16. (가)~(다) 도시에 대한 설명으로 옳은 것은? (단, (가)~(다)는 각각 런던, 시드니, 싱가포르 중 하나임.)

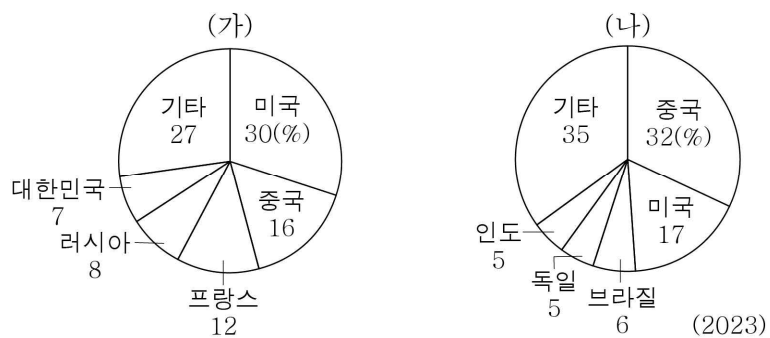
순위	도시
1	(가)
2	뉴욕
3	파리
4	도쿄
5	(나)
6	로마
7	마드리드
8	바르셀로나
9	베를린
10	(다)

- ① (나)를 대표하는 랜드마크로 빅벤이 있다.
- ② (다)는 해당 국가의 수도이다.
- ③ (가)는 태평양 연안에, (나)는 대서양 연안에 위치한다.
- ④ (가)는 (다)보다 도시 발달의 역사가 길다.
- ⑤ (나)는 (가)보다 적도와의 최단 거리가 길다.

17. (가), (나)에 대한 설명으로 옳은 것만을 <보기>에서 고른 것은? (단, (가), (나)는 각각 신·재생 에너지, 원자력 중 하나임.) [3점]

유럽 연합 회원국들이 (가) 확대와 관련하여 의견이 나뉘면서 갈등이 커지고 있다. 프랑스가 주도하는 확대 진영은 2024년 3월 유럽 연합 차원의 확대를 촉구하는 12개국 공동 성명을 발표했다. 이에 맞서 독일이 주도하는 반대 진영도 (나) 확대 정책을 촉구하는 13개국 공동 성명을 발표했다.

<(가), (나)의 전 세계 소비량에서 상위 5개국 차지하는 비율>



< 보 기 >

- ㄱ. (가)는 (나)보다 방사성 폐기물 처리 비용이 많이 든다.
 ㄴ. (가)는 (나)보다 국가별 소비량 비율 상위 5개국 중 아메리카 대륙에 위치한 국가 수가 많다.
 ㄷ. (나)는 (가)보다 발전원으로 이용하는 국가 수가 많다.
 ㄹ. (나)는 (가)보다 세계 1차 에너지 소비 구조에서 차지하는 비율이 낮다.

- ① ㄱ, ㄴ ② ㄱ, ㄷ ③ ㄴ, ㄷ ④ ㄴ, ㄹ ⑤ ㄷ, ㄹ

18. 다음은 세계지리 모둠 학습지의 일부이다. (가)~(다) 지역에 대한 질문에 모두 옳게 답한 학생을 고른 것은?

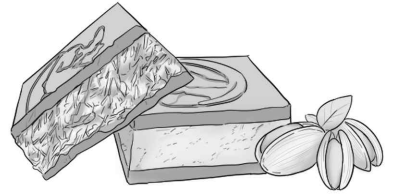
<모둠 학습지>

질문 \ 학생	갑	을	병	정	무
(가)는 (나)보다 팜유 생산량이 많습니까?	아니요	예	아니요	아니요	예
(나)는 (다)보다 국가 내 이슬람교 신자 비율이 높습니까?	예	아니요	예	아니요	아니요
(다)는 (가)보다 활화산의 수가 많습니까?	예	예	아니요	예	아니요

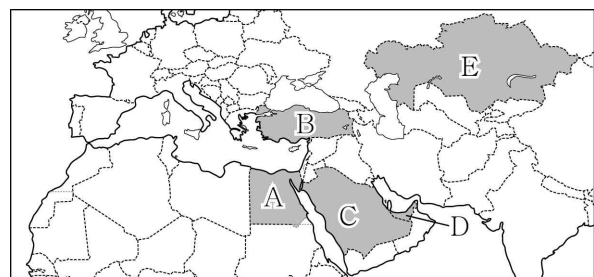
- ① 갑 ② 을 ③ 병 ④ 정 ⑤ 무

19. 다음 자료의 (가) 국가를 지도의 A~E에서 고른 것은?

최근 카다이프*면이 들어간 ‘두바이 초콜릿’이 세계적으로 인기를 끌었다. (가) 은/는 7개의 토후국(土侯國)**으로 이루어진 국가로, 수도인 아부다비보다 두바이가 더 잘 알려져 있다. 두바이는 세계에서 가장 높은 건물인 ‘부르즈 할리파’로도 유명하다.

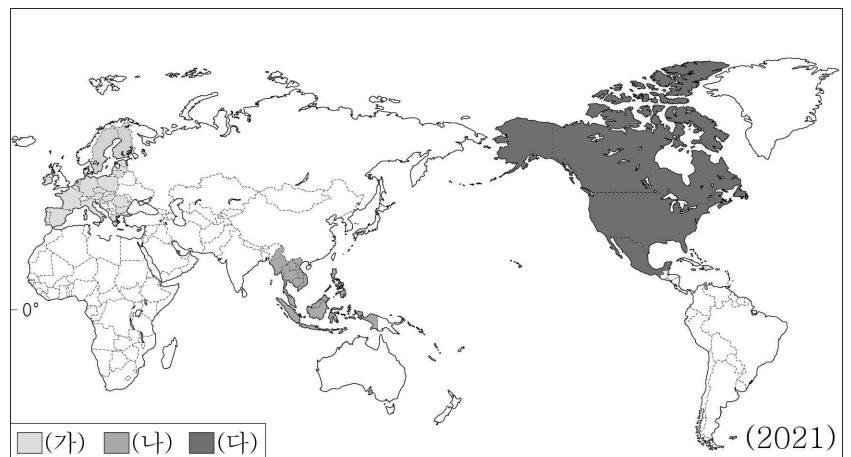


* 카다이프: 반죽을 실타래처럼 가느다랗게 잘라 내어 견과류 등을 첨가하여 뭉친 페이스트리
 ** 토후국: 부족장이나 실권자에게 지배되는 국가



- ① A ② B ③ C ④ D ⑤ E

20. 지도에 표시된 (가)~(다) 경제 블록에 대한 설명으로 옳은 것만을 <보기>에서 고른 것은? (단, (가)~(다)는 각각 동남아시아 국가 연합, 미국·멕시코·캐나다 협정, 유럽 연합 중 하나임.) [3점]



< 보 기 >

- ㄱ. (나)에는 인구가 1억 명 이상인 회원국이 있다.
 ㄴ. (가)는 (다)보다 정치·경제적 통합의 수준이 높다.
 ㄷ. (나)는 (가)보다 회원국의 수가 많다.
 ㄹ. (가)~(다) 중 역내 총생산은 (가)가 가장 많다.

- ① ㄱ, ㄴ ② ㄱ, ㄷ ③ ㄴ, ㄷ ④ ㄴ, ㄹ ⑤ ㄷ, ㄹ

* 확인 사항

- 답안지의 해당란에 필요한 내용을 정확히 기입(표기)했는지 확인하시오.