

제 4 교시

사회탐구 영역(사회·문화)

성명

수험번호

3

제 [] 선택

1. 밑줄 친 ㉠~㉣과 같은 현상의 일반적인 특징에 대한 설명으로 옳은 것은?

알츠하이머병은 ‘알츠하이머 플라크’라고 불리는 단백질 덩어리가 ㉠ 뉴런을 파괴하여 기억 상실을 초래한다. 현재 이 질병에 대한 치료법이 없는 이유는 우리 뇌의 혈액뇌장벽이 ㉡ 대부분의 약물 전달을 억제하기 때문이다. 혈액뇌장벽은 뇌의 뉴런을 보호하기 위한 국경 통제소와 같은 역할을 하며, ㉢ 독소와 병원균이 들어오는 것을 차단한다. 최근 과학자들은 혈액뇌장벽을 일시적으로 열어 뇌에 ㉣ 약물을 주입하는 치료 방법을 발표하였다. 또한 이 치료 방법이 ㉤ 노화 지연의 단초가 될 것으로 예측하였다.

- ① ㉠과 같은 현상은 존재 법칙을 따른다.
 ② ㉡과 같은 현상은 개연성의 원리가 적용된다.
 ③ ㉢과 같은 현상은 보편성보다 특수성이 강하게 나타난다.
 ④ ㉠과 같은 현상과 달리 ㉣과 같은 현상은 불가치적이다.
 ⑤ ㉢과 같은 현상에 비해 ㉤과 같은 현상은 인과 관계가 분명하다.

2. 다음 자료에 대한 설명으로 옳은 것은? [3점]

갑은 개인의 행동에 미치는 ㉠ 집단의 영향력을 파악하기 위하여 다음과 같은 연구들을 진행하였다.

[연구 1]

갑은 실험 참가자들을 다수의 모둠으로 구분한 후 모둠별 구성원에게 각각 1번부터 6번까지 번호를 부여하였다. 이후 일정한 길이의 표준선을 참가자들에게 보여준 후, 별도로 제시된 서로 다른 선들 중 표준선과 길이가 같은 선을 고르도록 하였다. 그 결과 참가자들은 모두 표준선과 길이가 같은 선을 선택하였다. 이후 갑은 모둠별로 ㉡ 1번 참가자를 제외한 ㉢ 나머지 번호 참가자들에게 사전에 표준선과 길이가 다른 선을 고르게 지시하고, 참가자들에게 표준선과 길이가 같은 선을 다시 골라 보도록 하였다. 반복 실험 결과, 1번 참가자의 43%가 다른 참가자의 선택에 ㉣ 동조 반응을 보였다.

[연구 2]

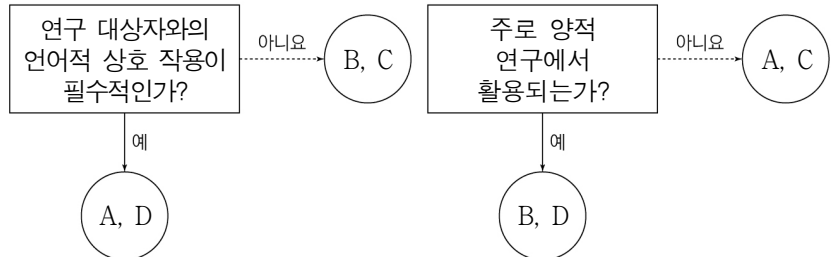
갑은 표준선과 길이가 다른 선을 고르는 실험 참가자 수를 조정하여 모둠별 총인원만 변화시키고, 그 외 다른 실험 상황은 [연구 1]과 동일한 연구를 실시하였다. 그 결과 1번 참가자의 동조율은 모둠 인원이 2명일 때는 0.3%, 3명일 때는 13.6%, 4명일 때는 31.8%로 나타났으며, 이는 통계적으로 유의미하다는 것을 확인하였다.

[연구 3]

갑은 실험 참가자 4명은 표준선과 길이가 다른 선을, 1명은 표준선과 길이가 같은 선을 고르도록 하고, 그 외 다른 실험 상황은 [연구 1]과 동일한 연구를 실시하였다. 그 결과 1번 참가자의 34%가 다수의 의견에 동조한다는 통계적으로 유의미한 값을 얻었다.

- ① ㉡은 실험 집단, ㉢은 통제 집단이다.
 ② ㉣은 ㉠의 조작적 정의에 해당한다.
 ③ [연구 1]에서 갑은 사전 검사를 실시하였다.
 ④ [연구 2]는 ‘집단 구성원의 수가 많아질수록 다수 의견에 대한 동조율이 증가할 것이다.’를, [연구 3]은 ‘소수 의견이 존재하는 경우 그렇지 않은 경우에 비해 다수 의견에 대한 동조율이 클 것이다.’를 지지한다.
 ⑤ 갑은 [연구 1], [연구 2], [연구 3]에서 모두 방법론적 이원론에 기초한 연구 방법을 사용하였다.

3. 자료 수집 방법 A~D의 일반적인 특징에 대한 설명으로 옳은 것은? (단, A~D는 각각 면접법, 실험법, 질문지법, 참여 관찰법 중 하나임.)



- ① A와 달리 B는 연구 대상자와의 정서적 교감을 중시한다.
 ② B에 비해 C는 실제성 높은 생생한 자료를 수집하기에 용이하다.
 ③ D에 비해 A는 구조화된 자료를 수집하기에 용이하다.
 ④ A, C에 비해 D는 연구자의 주관의 개입될 가능성이 높다.
 ⑤ B, D에 비해 C는 자료 수집 상황에 대한 통제 정도가 높다.

4. A, B에 대한 설명으로 옳은 것은? (단, A, B는 각각 산업 사회, 정보 사회 중 하나임.)

A는 주로 노동과 자본을 집약하여 부가 가치를 창출한다. B는 일반적으로 지식과 정보가 부가 가치 창출의 원천으로 활용되며, A에 비해 (가) 이/가 낮은 특징이 나타난다.

- ① A에 비해 B는 의사 결정의 분권화 정도가 낮다.
 ② B에 비해 A는 직업의 이질성이 높다.
 ③ A는 다품종 소량 생산이, B는 소품종 대량 생산이 지배적이다.
 ④ (가)에는 ‘비대면 접촉의 비중’이 들어갈 수 있다.
 ⑤ (가)에는 ‘가정과 일터의 결합 정도’가 들어갈 수 없다.

5. 사회적 소수자 A~C에 대한 설명으로 옳은 것은? [3점]

A는 갑국에서 소수 민족의 자녀로 태어나 갖은 차별을 받았다. 결국 A는 갑국을 떠나 을국으로 이주했지만 갑국의 소수 민족은 게으르다는 편견 때문에 취업에 계속 실패했다. 을국에서 생활에 어려움을 겪던 A는 취업에 대한 조언을 얻기 위해 지인의 소개로 대기업 직원 B를 만났다. 하지만 B도 여성이라는 이유로 회사 내에서 주요 직책은 맡지 못하고 있다는 사실을 알게 되었다. 이러한 경험을 토대로 A와 B는 흔히 많은 피부색을 가졌다는 이유로 B의 회사에서 차별받던 C와 함께 사회적 소수자 차별을 금지하는 내용의 입법 청원을 제기하였다.

- ① A는 신체적 특징을 이유로 역차별을 받았다.
 ② B는 선천적 요인으로 인해 차별을 받았다.
 ③ B와 달리 A는 한 사회 내에서 여러 사회적 소수자 집단에 중첩되어 속해 있다.
 ④ B와 달리 C는 문화적 특징으로 인해 차별을 받았다.
 ⑤ A, B, C 모두 사회적 소수자에 대한 차별을 개인적 차원에서 해결하고자 하였다.

6. 다음 글에서 개인과 사회의 관계를 바라보는 필자의 관점에 대한 옳은 설명만을 <보기>에서 고른 것은?

시대와 나라에 따라 강도는 다르지만 어떤 때는 결혼에, 또 다른 경우에는 자살에 영향을 미치며, 출생률을 높이기도 하고 악화시키기도 하는 몇몇 여론의 흐름들이 존재한다. 만일 인구가 시골에 분산되는 것이 아니라 도시로 몰려온다면 그것은 개인으로 하여금 이러한 집중에 참여하도록 만드는 집합적인 충동이 있기 때문이다. 결국 개인은 이러한 사회적 압력으로부터 자유로울 수 없다.

— <보 기> —

- ㄱ. 사회 구조에 대한 개인의 불가항력성을 강조한다.
 ㄴ. 사회 규범은 개인들이 옳다고 믿기에 존재한다고 본다.
 ㄷ. 사회의 특성이 개인의 특성으로 환원될 수 없다고 본다.
 ㄹ. 사회는 개인의 이익 실현을 위한 수단에 불과하다고 본다.

- ① ㄱ, ㄴ ② ㄱ, ㄷ ③ ㄴ, ㄷ ④ ㄴ, ㄹ ⑤ ㄷ, ㄹ

7. 밑줄 친 ㉠~㉣에 대한 설명으로 옳은 것은? [3점]

갑국에는 특별한 날에 누구나 고기 요리를 이웃과 나누어 먹는 ㉠문화가 존재하였다. 갑국 사람들의 이러한 풍습에도 불구하고 갑국 정부는 육류 생산 과정에서 초래되는 생태계 파괴와 동물 복지 문제를 이유로 ㉡대체육 소비를 권장하였다. 하지만 ㉢갑국 사람들은 대체육의 식감과 맛 때문에 실제 고기를 고수하였다. 갑국 정부의 대체육 개발 연구 지원 사업에 선정된 ㉣A 기업은 실제 고기의 맛, 식감을 완벽히 구현한 새로운 대체육을 개발하였다. 이는 ㉤갑국에서 외식 산업, 의류 산업 등 다양한 분야에 변화를 가져왔다.

* 대체육: 동물 세포와 식물 성분을 활용하여 실제 고기처럼 만든 인공 고기

- ① ㉠은 좁은 의미의 문화에 해당한다.
 ② ㉡은 비물질문화에 해당한다.
 ③ ㉢은 문화 지체 현상에 해당한다.
 ④ ㉣에는 문화의 공유성이 부각되어 있다.
 ⑤ ㉤에는 문화의 전체성이 부각되어 있다.

8. 빈곤의 유형 A, B에 대한 설명으로 옳은 것은? (단, A, B는 각각 절대적 빈곤, 상대적 빈곤 중 하나임.)

1995년 세계 정상회의 결과 발표된 유엔 선언은 A에 대해 “기본적인 인간 욕구의 심각한 박탈 상태를 의미하며, 이러한 욕구에는 음식, 안전한 식수, 위생 시설, 건강, 주택, 교육, 정보 등을 포함한다.”고 정의하였다. 한편 B도 A와 마찬가지로 물질적인 측면의 결핍뿐만 아니라 비물질적인 측면에서의 결핍까지 포함한다. 가령 특정 지역 사회에서 대다수를 차지하는 백인 가정 자녀들이 대학 교육까지 이수하는 데 비해 흑인 가정 자녀들은 교육 수준이 낮다면 비록 물질적으로는 생계에 큰 지장이 없다 하더라도 흑인 가정 자녀들은 B에 해당한다고 할 수 있다.

- ① A는 사회 구성원의 소득 분포 상태를 고려하지 않는 개념이라는 평가를 받는다.
 ② B는 개인이 스스로 빈곤하다고 인식하는 상태를 의미한다.
 ③ B를 판단하는 기준선과 달리 A를 판단하는 기준선은 시간과 장소에 관계없이 보편적으로 적용된다.
 ④ 소득 수준이 높은 국가에서는 A가, 저개발 국가에서는 B가 나타나지 않는다.
 ⑤ 상대적 빈곤선이 절대적 빈곤선보다 높으면 B에 해당하는 모든 가구는 A에 해당한다.

9. 일탈 이론 A~D에 대한 설명으로 옳은 것은? (단, A~D는 각각 뒤르캤의 아노미 이론, 머튼의 아노미 이론, 차별 교제 이론, 낙인 이론 중 하나임.) [3점]

사회학자: 자신이 일탈 행동을 하게 된 사연에 대해 말씀해 주세요.

갑: 우리 사회는 경제적 성공을 강요하지만 저는 합법적인 방법으로는 부자가 될 수 없어 범죄를 저지르게 되었습니다. 이후 주변 사람들이 저를 사회의 낙오자로 취급하였고 결국 자포자기의 심정으로 다시 범죄를 저지르게 되었습니다.

을: 저는 범죄자인 친구와 함께 살면서 범죄에 대한 호의적 태도를 갖게 되었고 결국 범죄 행위에 가담하여 수감생활을 하게 되었습니다. 출소 이후 급격하게 변화한 사회 규범과 전통적 가치관의 충돌로 인한 혼란으로 방황하다가 저는 다시 범죄자가 되었습니다.

병: 저는 한 번의 실수를 하였지만 사람들은 저를 범죄자로 취급했습니다. 저 또한 제 자신을 범죄자라고 생각하게 되니 진짜 범죄자가 되는 것이 어렵지 않았습니다. 이후 교도소에서 반성하며 지내보려 했지만 다른 재소자에게 새로운 범죄 기술을 배워 재범을 저질렀습니다.

사회학자: 갑의 일탈 행동은 A와 B, 을의 일탈 행동은 C와 D, 병의 일탈 행동은 B와 D로 설명할 수 있습니다.

- ① A와 달리 B는 문화적 목표와 제도화된 수단의 괴리를 일탈 행동의 원인으로 본다.
 ② B와 달리 C는 일탈자의 부정적 자아가 형성되는 과정에 주목한다.
 ③ C와 달리 D는 사회 구성원 간 상호 작용을 통한 일탈 행동의 발생에 관심을 둔다.
 ④ A, B와 달리 C는 사회 구조적 관점에서 일탈을 설명한다.
 ⑤ B, D와 달리 A는 일탈을 규정하는 객관적 기준이 없다고 본다.

10. 다음 자료에 대한 분석으로 옳은 것은? [3점]

<직장 생활 고충에 대한 설문 조사>

소속사: □□기업 성명: 갑

1. 당신의 과거 직장 생활 경력은?

- ○○건설 재무팀 5년, △△전자 회계팀 3년

2. 직장 생활에서의 어려움 또는 문제점은?


- 젊은 직원들의 중도 퇴사율이 높아 업무 피로도가 누적되어 이직을 고민 중임.
 - 노동조합 간부로서 사용자와의 단체 협약 사항 조율이 어려움.
 - 환경 관련 시민 단체의 지속적인 민원이 발생함.

3. 회사에 요구하는 점은?

- 업무 피로도가 높은 임직원을 대상으로 기업교육 전문업체의 치유 및 회복 프로그램을 제공하였으면 함.
 - 독서 동호회, 산악회, 배드민턴 클럽과 같이 사내 구성원 간 친밀감을 증대시키는 활동을 지원하였으면 함.

- ① 갑이 속한 공식 조직은 2개이다.
 ② 갑은 역할 갈등을 경험하고 있다.
 ③ 갑이 진술한 자발적 결사체는 3개이다.
 ④ 갑은 결함 자체가 목적인 집단을 활용한 지원을 요구하였다.
 ⑤ 갑은 2차적 사회화 기관이자 공식적 사회화 기관에 속해 있다.


11. 갑~병의 문화 이해 태도에 대한 설명으로 옳은 것은?




A국의 일부다처제는 남녀 간 불평등한 권력 관계의 산물
이야. A국은 세계에서 가장 우수한 우리 나라의 결혼
형태를 본받아야 해.

갑

아니야. A국은 우리 나라보다 선진국이기 때문에 A국의
일부다처제는 우리 나라의 일부일처제보다 더 우월한
결혼 형태야.





나는 두 사람과 다른 생각을 가지고 있어. 우리 나라와
A국의 결혼 형태가 형성된 사회적 배경 및 맥락을 바탕
으로 각 문화를 이해해야 해.

병

- ① 갑의 태도는 타문화에 대한 긍정적 인식에서 비롯된다.
- ② 을의 태도는 자문화를 독자적으로 계승하는 데 기여한다.
- ③ 병의 태도는 문화 간 우열을 평가할 수 있다고 본다.
- ④ 병의 태도와 달리 갑의 태도는 타문화와의 마찰을 일으킬 수 있다는 비판을 받는다.
- ⑤ 병의 태도와 달리 을의 태도는 문화 제국주의로 나아갈 수 있다는 비판을 받는다.

12. 다음 두 사례에서 공통적으로 도출할 수 있는 내용으로 가장 적절한 것은?

- 갑국에서 컴퓨터 게임은 시대 변화에 빠르게 반응하는 일부 청소년들이 즐기는 것이라 여겨졌었다. 하지만 전자 기기와 정보통신 기술이 발전하고 기존에 컴퓨터 게임을 즐기던 청소년들이 기성 세대가 되면서 갑국에서 컴퓨터 게임은 보편 문화가 되었다.
- 을국에서 컴퓨터 세대라 불리는 젊은이들은 과학적 상상력을 바탕으로 주류 계층에 저항하는 내용의 문학을 탄생시켰다. 이후 이들의 사회 비판 의식을 담은 문학은 대중의 지지를 얻어 을국에서 대다수가 즐기는 하나의 문학 장르로 자리잡게 되었다.

- ① 반문화는 문화의 다양성을 저하시킨다.
- ② 하위문화는 세대 갈등 해소에 기여한다.
- ③ 반문화는 사회문제에 대한 해결책을 제시한다.
- ④ 하위문화는 전체 사회에서 주류 문화가 되기도 한다.
- ⑤ 주류 문화에 대항하는 구성원들이 반문화를 형성한다.

13. 다음 사례에 나타난 문화 변동에 대한 옳은 설명만을 <보기>에서 있는 대로 고른 것은? [3점]

갑국으로 유입된 난민들은 정착 초기부터 마셔오던 자국의 전통 음료에 착안하여 새로운 A 음료를 개발하였다. 이 A 음료는 상인들을 통해 을국과 병국으로 전해졌고, 을국에서는 갑국에서와 같이 대중적인 음료 중 하나가 되었다. 이후 을국의 한 학자가 A 음료의 제조 과정에서 아이디어를 얻어 진행한 연구 중 부패를 일으키는 미생물을 찾아냈다. 한편, 병국에서는 정국으로부터 서적을 통해 전달된 정국의 전통적인 면 요리에 병국 사람들도 즐기는 A 음료를 첨가하여 새로운 맛을 내는 면 요리가 탄생되었다. 이 새로운 요리는 병국과 갑국의 전쟁 중에 병국 취사병에 의해 갑국에 알려졌지만 갑국 사람들의 식탁에는 오르지 못하였다.

<보 기>

ㄱ. 을국에서는 자극 전파로 인한 문화 변동이 나타났다.
ㄴ. 병국에서는 직접 전파로 인한 문화 변동이 나타났다.
ㄷ. 갑국, 을국 모두 문화 공존이 나타났다.

- ① ㄱ ② ㄴ ③ ㄷ ④ ㄴ, ㄷ ⑤ ㄱ, ㄴ, ㄷ

14. (가)~(라)에 대한 옳은 설명만을 <보기>에서 고른 것은?

- (가) 정부는 시민들을 대상으로 최근 변화한 개인 정보 보호 정책을 알리기 위해 관계 부처가 협동하여 온라인 홍보 활동을 지속적으로 해오고 있다.
- (나) □□ 전쟁의 실상이 미디어를 통해 세상에 알려지자마자 분노한 시민들이 즉흥적으로 거리로 나와 자국 군대의 철수와 전쟁반대를 외치며 행진을 벌였다.
- (다) 부조리한 사회를 비판하는 전국 대학생 연합은 기성세대가 만들어 놓은 기존 사회 질서로부터 근본적인 해방을 주장하는 변혁 운동을 이어오고 있다.
- (라) 1990년대의 패션을 재해석하는 것에 관심이 있는 젊은이들을 중심으로 자신만의 복고 스타일을 SNS를 통해 뽐내는 것이 유행처럼 번지고 있다.

<보 기>

ㄱ. (가)는 사회 구성원의 자발성을 바탕으로 한 사회 운동이라고 볼 수 있다.
ㄴ. (나)는 일시적이고 비조직적인 행동이라는 점에서 사회 운동이라고 볼 수 없다.
ㄷ. (다)는 전체 사회 구조를 전면적으로 바꾸고자 하는 사회 운동이라고 볼 수 있다.
ㄹ. (라)는 과거로의 회귀를 추구하는 사회 운동이라고 볼 수 있다.

- ① ㄱ, ㄴ ② ㄱ, ㄷ ③ ㄴ, ㄷ ④ ㄴ, ㄹ ⑤ ㄷ, ㄹ

15. 다음 자료에 대한 옳은 분석만을 <보기>에서 고른 것은? [3점]

갑국의 사회 보장 제도는 A, B로만 구성되며, A, B는 우리나라의 사회 보장 제도와 동일하다. A는 사전 예방적 성격이 강한 제도이고, B는 사후 처방적 성격이 강한 제도이다. 갑국은 인구가 동일한 (가), (나) 지역으로만 구성되어 있다. (가) 지역은 지역 전체 인구의 90%, (나) 지역은 지역 전체 인구의 80%가 사회 보장 제도 수급자이다. 표는 갑국의 지역별 사회 보장 제도 수급자 비율을 분석한 것이다.

(단위: %)

구분	해당 지역 전체 수급자 대비 A만 수급받는 인구 비율	해당 지역 전체 수급자 대비 B만 수급받는 인구 비율
(가) 지역	65	25
(나) 지역	71	14

<보 기>

ㄱ. 갑국의 전체 인구 중 A, B 중복 수급자 비율은 (가) 지역의 전체 인구 중 A, B 중복 수급자 비율보다 크다.
ㄴ. (나) 지역에서 A, B 중복 수급자 수는 (나) 지역에서 A나 B 어느 것도 받지 않는 비(非)수급자 수보다 많다.
ㄷ. 강제 가입의 원칙이 적용되는 제도의 수급자 수는 (나) 지역이 (가) 지역보다 많다.
ㄹ. (나) 지역에서 수혜자 비용 부담 원칙이 적용되는 제도의 수급자 수는 (가) 지역에서 최저 생활의 보장을 목적으로 하는 제도의 수급자 수보다 적다.

- ① ㄱ, ㄴ ② ㄱ, ㄷ ③ ㄴ, ㄷ ④ ㄴ, ㄹ ⑤ ㄷ, ㄹ

16. 다음은 갑국과 을국 구성원의 주관적 계층 인식과 실제 계층을 조사한 것이다. 이에 대한 분석으로 옳은 것은? (단, 계층은 상층, 중층, 하층으로만 구분되며, 계층 구조는 실제 계층을 기준으로 판단함.) [3점]

<갑국>						<을국>					
(단위: %)						(단위: %)					
구분		실제 계층			계	구분		실제 계층			계
		상층	중층	하층				상층	중층	하층	
계층인식	상층	10	10	0	20	계층인식	상층	10	10	0	20
	중층	10	0	20	30		중층	10	35	5	50
	하층	5	5	40	50		하층	0	15	15	30
계		25	15	60	100	계		20	60	20	100

- 갑국에 비해 을국은 사회 통합에 불리한 계층 구조이다.
- 갑국은 피라미드형, 을국은 다이아몬드형 계층 구조이다.
- 실제 계층과 주관적 계층 인식이 불일치하는 사람의 비율은 갑국보다 을국이 크다.
- 갑국에서 자신을 상층으로 인식한 사람과 을국에서 실제 상층에 속한 사람의 수는 같다.
- 갑국, 을국 모두 실제 계층 대비 실제 계층과 주관적 계층 인식이 일치하는 사람의 비율은 하층이 가장 크다.

17. A, B의 일반적인 특징에 대한 설명으로 옳은 것은? (단, A, B는 각각 관료제, 탈관료제 중 하나임.)

A는 “분노도 편견도 없이”라는 원칙하에 객관적인 관점에서 업무를 처리할 수 있는 최적의 조건을 제공한다. 이 경우 객관적인 처리란 계산할 수 없는 모든 비합리적인 감정 요소를 직무 처리에서 배제하는 것을 의미한다. 한 사회학자는 A 조직에 의해 개인의 자유가 발휘되기 힘들어진 딱 막힌 사회를 ‘강철 새장’이라 비유하였다. 한편 B는 조직을 개인들의 수평적 협력을 통해 자발성과 창의성을 이끌어내는 기구로 파악한다는 점에서 A와 구분된다.

- A에 비해 B는 업무 체계의 표준화와 세분화 정도가 낮다.
- A와 달리 B는 조직의 공식적 규범에 의한 통제가 이루어진다.
- B에 비해 A는 목적 전치 현상이 나타날 가능성이 낮다.
- B와 달리 A는 효율적인 업무 수행이 조직 운영의 목표이다.
- A는 상향식 의사 결정 방식이, B는 하향식 의사 결정 방식이 지배적이다.

18. 다음 글에 나타난 사회 변동 이론에 대한 옳은 설명만을 <보기>에서 고른 것은?

개인과 마찬가지로 제국도 자연적 수명을 가지는데, 그것은 일반적으로 약 네 세대에 불과하다. 제1세대는 토지를 정복하려고 공격하는 사람들로, 그들은 일단 도시에 자리를 잡고 살더라도 유목 생활의 습성을 보유한다. 그러나 정주 생활의 영향이 제2세대에서 나타나기 시작하여 이때에는 사치와 왕의 권위가 지배한다. 제3세대는 사막 생활의 특징들을 망각하고, 정주 생활은 그 대가를 지불하게 되어 제국은 노쇠해지고 제4세대로 넘어가면서 파괴된다.

— <보 기> —

- ㄱ. 서구 중심적 사고라는 비판을 받는다.
 ㄴ. 숙명론적 관점에서 사회 변동을 설명한다.
 ㄷ. 사회 변동이 일정한 방향을 갖는다고 본다.
 ㄹ. 사회가 생성, 성장, 쇠퇴, 소멸을 반복한다고 본다.

- ① ㄱ, ㄴ ② ㄱ, ㄷ ③ ㄴ, ㄷ ④ ㄴ, ㄹ ⑤ ㄷ, ㄹ

19. 다음 자료에 대한 설명으로 옳은 것은? (단, A~C는 각각 기능론, 갈등론, 상징적 상호 작용론 중 하나임.) [3점]

[과제] 사회·문화 현상을 바라보는 관점 A~C에 대한 옳은 설명을 2개씩 서술하시오.

학생	설명
갑	· (가)
	· (나)
을	· A와 달리 B는 사회 각 부분의 기능과 역할은 사회 전체의 합의를 통해 정해진다고 본다. · (다)
병	· C는 사회·문화 현상을 사회 구조적 측면에서 설명한다. · (라)

* 교사는 학생별로 각각 채점하고, 옳은 설명은 1개당 1점, 틀린 설명은 1개당 0점을 부여함.

[평가 결과] 세 학생의 평균 점수는 1점입니다. 갑은 을에 비해 낮은 점수를, 병에 비해 높은 점수를 기록했습니다.

- C는 다양한 사회 제도들의 상호 의존적 관계에 주목한다.
- A와 달리 B는 집단 간 갈등을 사회 변동의 원동력으로 본다.
- (다)에는 ‘A는 사회가 본질적으로 균형을 추구한다고 본다.’가 들어갈 수 있다.
- (가)가 ‘C는 기득권층의 이익을 대변하는 논리로 사용된다는 비판을 받는다.’이면, (나)에는 ‘C와 달리 B는 사회를 유기체에 비유하여 설명한다.’가 들어갈 수 있다.
- (다)와 달리 (라)에는 ‘B와 달리 C는 인간이 상황 정의에 기초하여 행동한다고 본다.’가 들어갈 수 있다.

20. 다음 자료에 대한 분석으로 옳은 것은? [3점]

표는 갑국과 을국의 인구 구조 변화를 비교한 것이다. t년에 갑국과 을국 모두 부양 인구는 전체 인구의 50%이다. t년에 비해 t+30년에 부양 인구는 갑국이 10%, 을국이 20% 감소하였고, 을국의 노년 인구는 100% 증가하였다. 단, 동일 시기에 갑국과 을국의 전체 인구는 같다.

구분	갑국		을국	
	t년	t+30년	t년	t+30년
합계 출산율(명)	1.76	0.78	2.06	1.18
유소년 부양비 : 노년 부양비	2 : 3	3 : 10	1 : 1	2 : 5

* 합계 출산율: 여성 1명이 가임 기간(15~49세) 동안 낳을 것으로 예상되는 평균 출생아 수

** 유소년 부양비 = {유소년 인구(0~14세 인구) / 부양 인구(15~64세 인구)} × 100

*** 노년 부양비 = {노년 인구(65세 이상 인구) / 부양 인구(15~64세 인구)} × 100

**** 전체 인구 중 65세 이상 인구가 차지하는 비율이 14% 이상~20% 미만인 사회를 고령 사회, 20% 이상인 사회를 초고령 사회라고 함.

- t년에 갑국은 고령 사회, 을국은 초고령 사회이다.
- t+30년에 갑국과 을국의 노년 부양비는 같다.
- t+30년에 갑국과 달리 을국은 저출산 현상이 강하게 나타난다.
- t년 갑국의 유소년 인구와 t+30년 을국의 유소년 인구는 같다.
- t년에 노년 인구는 을국보다 갑국이 많았으나 t+30년에 노년 인구는 갑국보다 을국이 많다.

* 확인 사항

- 답안지의 해당란에 필요한 내용을 정확히 기입(표기)했는지 확인하시오.