

제 4 교시

사회탐구 영역(동아시아사)

성명

수험번호

3

제 [] 선택

1. 밑줄 친 ‘이 지역’을 지도에서 옳게 고른 것은?

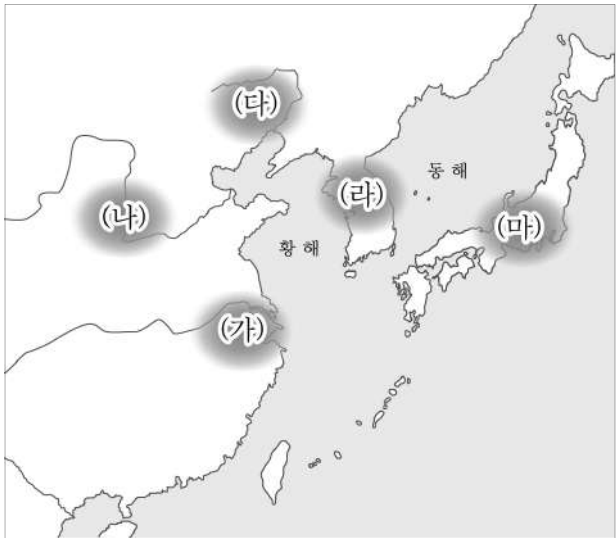
허무두 문화 특별전



▲ 허무두 유적에서 출토된 돼지 그림 토기

허무두 문화는 신석기 시대 이 지역에서 발달하였습니다. 이번 특별전에서는 허무두 유적에서 출토된 돼지 그림 토기를 비롯하여 다양한 농기구와 뼈 등을 관람할 수 있습니다.

- 장소: □□ 박물관
- 기간: 2024년 △월 △일 ~ △월 △일



- ① (가) ② (나) ③ (다) ④ (라) ⑤ (마)

2. (가) 왕조에 대한 설명으로 옳은 것은? [3점]

명이 군대를 모두 모아서 싸워도 우리 (가) 을/를 이기지 못하는데, 조선의 왕인 네가 모문룡을 보호하고 있는 것은 무슨 이득이 있는가? 모문룡을 나에게 보내라. 그러면 2년 전 사르후 전투에서 사로잡은 강홍립을 너에게 보내주겠다. 나는 명을 침공한 이래로 너희를 선의로 대해 왔다. 그러나 조선의 왕인 너는 오히려 명을 부모와 같은 나라라고 하며 관계를 끊지 않으니, 운이 좋으면 좋겠으나 운이 나쁘면 그 결과는 한도가 없을 것이다.

- ① 팔기제를 시행하였다.
 ② 탕룡을 수도로 삼았다.
 ③ 탕구트족이 건국하였다.
 ④ 남면관·북면관제를 실시하였다.
 ⑤ 정복지에 다루가치를 파견하였다.

3. (가) 국가에 대한 설명으로 옳은 것은?

폐하께서는 목특에게 공주를 시집보내고 후한 예물을 하사하십시오. 공주가 목특의 아들을 낳는다면 그 아들은 목특의 대를 이어 선우가 될 것입니다. 폐하께서 진귀한 하사품을 자주 (가) 에 보내면서 우리 한나라의 예절을 가르친다면 목특은 비록 오랑캐이지만 폐하의 사위가 되고, 목특이 죽더라도 폐하의 외손이 선우가 될 것입니다.

- ① 고조선을 멸망시켰다.
 ② 좌현왕과 우현왕을 두었다.
 ③ 위·촉·오의 분열을 통일하였다.
 ④ 평성에서 뤼양으로 수도를 옮겼다.
 ⑤ 화북과 강남을 잇는 대운하를 건설하였다.

4. (가) 막부 시기 동아시아 문화에 대한 설명으로 옳지 않은 것은?



이 그림은 (가) 시기 제작된 우키요에로, 도카이도[東海道]에 있는 호도가야의 역참에서 본 전경을 표현한 작품이다. (가) 시기 산킨코타이 제도 운영에 활용된 도로인 도카이도에는 역참을 비롯한 숙박 시설이 갖추어져 있었다.

- ① 한국-민화가 성행하였다.
 ② 중국-경극이 유행하였다.
 ③ 중국-홍루몽이 저술되었다.
 ④ 일본-테라코야가 확산되었다.
 ⑤ 일본-도다이사가 창건되었다.

5. 다음 자료를 통해 알 수 있는 동아시아 불교의 특징으로 가장 적절한 것은?

부처 중에서는 석가가 제일이며, 일본의 신 중에서는 산왕(山王)이 제일이다. 여러 부처는 석가의 분신이며, 산왕 또한 석가의 분신이다. 다함이 없는 영원한 여러 부처의 총체를 나타내는 것이 산왕이다. 일본의 여러 신은 모두 산왕의 분신이다. 그러므로 사방의 모든 신들은 산왕에 귀속된다. 이 얼마나 심오한 이치인가.

— 『계림습엽집』 —

- ① 전통 사상과 결합하였다.
 ② 빈민 구제 역할을 하였다.
 ③ 신분 갈등 완화에 기여하였다.
 ④ 덕치와 천명사상을 강조하였다.
 ⑤ 직관적 깨달음과 참선을 중시하였다.

6. 밑줄 친 ㉠, ㉡의 대외 관계에 대한 설명으로 옳은 것은? [3점]

짐은 이미 ㉠ 너희 나라와 동맹을 맺고 백제를 멸하여 우환을 제거하였다. 지금 고구려가 견고함을 믿고 악한 짓을 하여 사대의 예를 어기고 선린의 예마저 저버리고 있다. 이에 짐이 다시 ㉡ 우리 나라의 군사를 동쪽으로 보내 고구려를 멸하고자 한다. 너는 돌아가 너희 국왕에게 군사를 내어 고구려를 함께 공격할 것을 고하라.

- ① ㉠은 일본과 감합 무역을 실시하였다.
- ② ㉡은 토변에 화번공주를 보냈다.
- ③ ㉡은 거란(요)과 전연의 맹약을 체결하였다.
- ④ ㉠은 ㉡에 연행사를 파견하였다.
- ⑤ ㉡은 ㉠을 멸망시키고 9군을 설치하였다.

7. 밑줄 친 ‘왕조’ 시기 동아시아에서 볼 수 있는 모습으로 가장 적절한 것은? [3점]

우리 왕조에 반기를 든 타이완의 정씨 세력이 여전히 토벌되지 않는 이유는 동남 연해 일대의 간사한 상인들이 정성공과 몰래 무역하여 곡식과 물품을 제공해 주기 때문이다. 해당 지역의 최고 책임관은 문무 각관을 새로이 임명하여 상선의 사사로운 출항을 엄금하고, 지방의 보갑을 강화하며, 연해의 항구를 엄히 지키도록 하라.

- ① 한국-삼포 왜란을 진압하는 군인
- ② 중국-대당서역기를 저술하는 승려
- ③ 중국-사고전서 편찬에 참여하는 학자
- ④ 일본-오닌의 난에 가담하는 무사
- ⑤ 일본-호류사 5층 목탑을 건립하는 장인

8. (가) 인물에 대한 설명으로 옳은 것은?

『예기』에는 격물치지(格物致知)에 대한 명확한 설명이 없었다. 남송대에 『사서집주』를 편찬한 (가) 은/는 격물치지에 대해 “세상의 모든 것은 이치를 갖추고 있고 그 이치를 하나씩 따져 들어가면 마침내 확연하게 세상 만물의 이치를 밝힐 수 있을 것이다.”라고 주장하였다. 그러나 명대의 왕수인은 (가)의 주장과 달리 “격물의 격은 ‘바로잡는다’라는 뜻이며, 물은 일[事]인데 일의 이면에는 마음이 있으니 격물치지란 마음을 바로잡아야 양심과 지혜를 밝힐 수 있는 것이다.”라고 해석하였다.

- ① 아담 살과 교류하였다.
- ② 성리학을 집대성하였다.
- ③ 백운동 서원을 건립하였다.
- ④ 곤여만국전도를 제작하였다.
- ⑤ 에도 막부의 의례를 정비하였다.

9. (가) 국가에 대한 설명으로 옳은 것은?

[동아시아사 역할극 대본]

S#29. (가) 상관장과 일본 관리의 대화

관 리: 포르투갈인들이 다시 우리 나라와 교역하고 싶어 한다. 조만간 포르투갈에서 우리에게 특별 사절을 보낼 것이라는 이야기도 있다.

상관장: 지금처럼 우리 (가) 만이 테지마에서 교역할 수 있도록 조치해 주시길 바랍니다.

관 리: 우리가 얻는 이득은 무엇인가?

상관장: 우리는 포르투갈과 달리 크리스티교를 포교하지 않고 교역에만 전념하겠습니다. 우리와 교역하는 것만이 일본에 안녕과 평화를 가져다 줄 것입니다.

- ① 매카트니 사절단을 파견하였다.
- ② 중국에 21개조 요구를 제시하였다.
- ③ 바타비아를 교역의 거점으로 삼았다.
- ④ 베트남과 제1차 사이공 조약을 체결하였다.
- ⑤ 마닐라를 건설하고 갈레온 무역을 전개하였다.

10. 밑줄 친 ‘이 전쟁’ 중에 있었던 사실로 옳은 것은? [3점]

선조 임금이 다시 번성하여 일어남은
그 공이 마땅히 경에게 있도다.
분주히 상주문을 올려 왜란을 물리침이
명나라에 원병을 요청한 방법이 있었네.
뛰어난 책략으로 전란을 총지휘하여
전심전력으로 최선을 다하였도다.
임금의 행차는 다시 돌아오고
거센 전란의 파도를 길이 잠재웠다.

이 전쟁의 상황을 파악할 수 있는 화면의 글은 조선의 정조가 지은 것으로, 일본군을 물리치는 데 공을 세운 유성룡을 칭송하는 내용을 담고 있습니다.

- ① 윤관이 별무반을 조직하였다.
- ② 오삼계 등이 삼번의 난을 일으켰다.
- ③ 이자성의 군대가 베이징을 점령하였다.
- ④ 일본이 조선 남부 4도 할양 등을 요구하였다.
- ⑤ 오다 노부나가 나가시노 전투에서 승리하였다.

11. 밑줄 친 ‘이 황제’에 대한 설명으로 옳은 것은?

흥미로운 동아시아사

무쿠리 고쿠리가 온다!

- 잊히지 않는 고려·몽골 연합군 -

일본에서는 ‘무쿠리(몽골), 고쿠리(고려) 귀신이 온다’라는 말과 ‘울면 산에서 못코(몽골)가 온단다 울지 말고 잠을 자렴’이라는 자장가가 아직까지도 전해지고 있다. 이를 통해 이 황제의 명령에 의해 조직된 고려·몽골 연합군의 두 차례 일본 원정은 비록 폭풍우 등으로 실패하였으나, 민간에 매우 큰 공포로 각인되었음을 알 수 있다.

- ① 남송을 멸망시켰다.
- ② 분서갱유를 단행하였다.
- ③ 항우와의 전쟁에서 승리하였다.
- ④ 왜의 노국왕에게 금인을 내려 주었다.
- ⑤ 정화를 동남아시아 등지에 파견하였다.

12. (가), (나) 시기 사이에 있었던 사실로 옳은 것은? [3점]

(가) 영·프 연합군에게 패배한 청은 크리스티고 포교 인정과 영국에 주룽반도 할양 등의 내용이 포함된 조약을 각국과 체결하였다. 이 조약의 체결을 중재한 대가로 러시아는 조선과의 접경 지대인 연해주를 차지하였다.

(나) 일본은 조선에 무력적 포함 시위를 벌이며 개항을 요구하였다. 이듬해 조선은 일본에 영사 재판권을 인정하고 부산을 비롯한 3개 항구를 개항하는 내용이 포함된 조약을 체결하였다.

- ① 갑신정변이 일어났다.
- ② 전주 화약이 맺어졌다.
- ③ 일본 제국 의회가 개설되었다.
- ④ 청·일 수호 조규가 체결되었다.
- ⑤ 쑨원이 임시 대총통에 취임하였다.

13. (가) 지역에 대한 탐구 활동으로 가장 적절한 것은? [3점]

청과의 전쟁에서 우위를 점한 일본은 ... (중략) ... 청에게 강제로 (가)의 양도를 요구했는데, 일본이 이곳을 확보한다는 것은 일본이 아시아 대륙에서 강력하고 영향력 있는 나라가 된다는 것을 의미합니다. ... (중략) ... 이러한 상황에 반발하여 러시아는 할 수 있는 한 강력한 반대를 표명하였고, 프랑스와 독일의 지원을 받아 (가)을/를 청에게 돌려주도록 일본에 압박을 가했습니다.

- 운테르베르게르, 「한국 문제의 현황」 -

- ① 공행이 설치된 지역을 찾아본다.
- ② 한국광복군이 창설된 곳을 파악한다.
- ③ 경사 대학당이 설립된 도시를 살펴본다.
- ④ 영국 상인이 신보를 창간한 곳을 알아본다.
- ⑤ 포츠머스 조약으로 일본이 획득한 조차지를 조사한다.




14. (가) 도시에 대한 설명으로 옳은 것은? [3점]

동아시아 답사 계획서

격동의 도시를 찾아서 [1편]

1. 답사 목적: ‘동양의 파리’로 불리는 (가)은/는 동아시아 근현대사의 주요 무대였다. 이번 답사를 통해 (가)을/를 중심으로 전개된 격동의 역사를 되돌아본다.

2. 답사 장소: 대한민국 임시 정부 청사
→ 홍콩 공원 내 윤봉길 의사 기념관
→ 중국 공산당 제1차 전국 대표 대회 유적지

대한민국 임시 정부 청사 윤봉길 의사 기념관 중국 공산당 제1차 전국 대표 대회 유적지

- ① 초량 왜관이 설치된 곳이다.
- ② 금릉 기기국이 설립된 곳이다.
- ③ 아주 화친회가 창립된 곳이다.
- ④ 고소변화도의 배경이 된 곳이다.
- ⑤ 난징 조약의 체결로 개항된 곳이다.

15. 밑줄 친 ‘신정부’에 대한 설명으로 옳은 것은?

사료로 읽는 동아시아사

신민들이 열심히 충효에 힘써 마음을 하나로 하여 대대로 그 미덕을 배워 온 것은 일본의 뛰어난 점이며 교육의 근본 정신도 또한 여기에 있다. 신민들은 부모에게 효도하고, 형제는 사이좋게, 부부는 화목하게 ... (중략) ... 일생의 직무에 힘써 항상 헌법을 중시하고 법률에 따라 한 차례 나라의 비상사가 되면 의용을 가지고 나라를 위해 일하며 천지와 같이 끝없는 황실의 운명을 지키고 도와줘야 한다.

해설

위 사료는 신정부가 대일본 제국 헌법을 공포한 이듬해 반포한 ‘교육에 관한 칙어(교육 칙어)’이다. 충효를 강조한 교육 칙어는 천황 중심의 국가 체제 확립에 기여하였다.

- ① 광무 개혁을 실시하였다.
- ② 흥정 헌법 대강을 반포하였다.
- ③ 미·일 화친 조약을 체결하였다.
- ④ 베르사유 조약의 조인을 거부하였다.
- ⑤ 징병제를 실시하여 군대를 정비하였다.

16. 밑줄 친 ‘6년 동안’에 있었던 사실로 옳은 것은? [3점]

열흘 전 시작된 루거우차오 사건을 우발적인 일로 여기는 사람이 있으나 일본의 여론 대응과 외교상의 표현은 우리에게 무력 충돌의 징조를 느끼게 했다. ... (중략) ... 일본이 만주를 점령한 이후, 지난 6년 동안 이어진 일본의 침략은 결국 루거우차오까지 이르렀다. 만약 루거우차오를 일본에 빼앗긴다면 베이징도 선양에 이어 두 번째가 되고 말 것이다!

- 장제스, 「루산 성명」 -

- ① 조선 의용대가 창설되었다.
- ② 포츠담 선언이 발표되었다.
- ③ 미드웨이 해전이 일어났다.
- ④ 일본이 국제 연맹을 탈퇴하였다.
- ⑤ 제1차 국·공 합작이 성립되었다.

17. (가)에 들어갈 내용으로 가장 적절한 것은?

마오쩌둥이 이끄는 중국 공산당은 “산업 혁명을 비롯한 세계의 혁명들은 모두 도시에서 일어났으나, 중국에서 혁명의 주체는 농민이니 우리는 농촌에서 혁명을 일으키자!”라고 하며 농촌 중심의 경제 발전을 꾀하였다. 이에 농민들을 인민공사에 가입시키고 수많은 용광로 설치를 통하여 식량과 철강을 증산하고자 하였다. 그러나 소련의 원조 중단, 자연재해, 근로의욕 저하 등으로 이는 성공하지 못하였고, 마오쩌둥의 사회주의 경제 정책을 비판하던 류사오치 등이 부상하였다. 이에 정치적 위기감을 느낀 마오쩌둥은 (가)

- ① 합영법을 추진하였다.
- ② 대장정을 감행하였다.
- ③ 문화 대혁명을 일으켰다.
- ④ 선전 등지에 경제특구를 지정하였다.
- ⑤ 국민 혁명군을 이끌고 북벌을 단행하였다.

18. 밑줄 친 ‘이 사건’이 발생한 시기를 연표에서 옳게 고른 것은?

베트남의 남북 대립 상황에 미국이 본격적으로 개입하는 결정적 계기가 된 이 사건의 비밀 문서가 공개되었다. 그중 가장 충격적인 내용은, 통킹만에서 미국 군함이 북베트남 어뢰정에 의해 공격을 받았다는 이 사건을 미군이 의도적으로 조작했다는 것이다. 당시 미국의 존슨 대통령은 이 정보를 바탕으로 공습을 지시했고, 미국 의회는 군사 행동을 승인하는 결의안을 통과시켰다.

| | (가) | (나) | (다) | (라) | (마) |
|------------|-----------|---------|-----------|-------------|-----------|
| 6·25 전쟁 발발 | 제네바 회담 개최 | 4·19 혁명 | 닉슨 독트린 발표 | 파리 평화 협정 체결 | 미·중 국교 수립 |

- ① (가) ② (나) ③ (다) ④ (라) ⑤ (마)

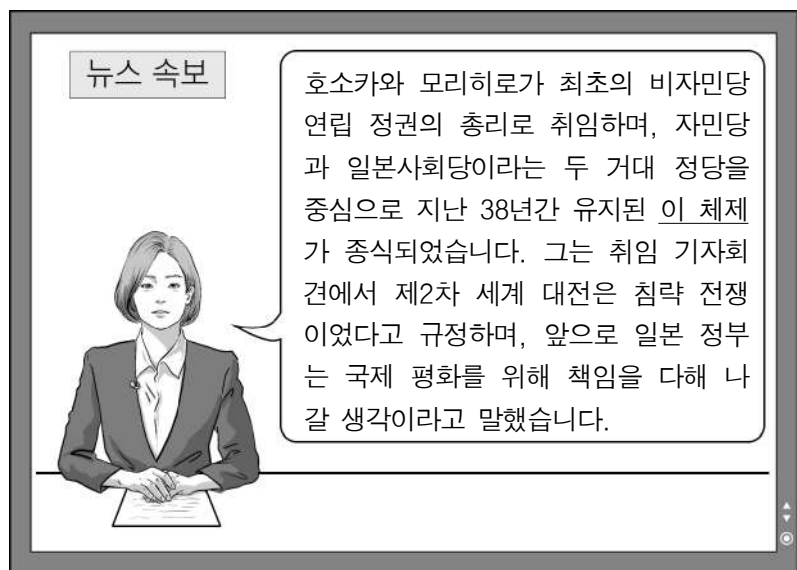
19. 밑줄 친 ‘올해’ 이후 동아시아에서 일어난 사실로 옳은 것은?

[3점]



- ① 한국-유신 헌법이 제정되었다.
- ② 한국-제1차 경제 개발 5개년 계획이 시작되었다.
- ③ 중국-텐안먼 사건이 일어났다.
- ④ 일본-신헌법(평화 헌법)이 제정되었다.
- ⑤ 베트남-베트남 사회주의 공화국이 수립되었다.

20. 밑줄 친 ‘이 체제’가 유지된 시기의 동아시아 상황으로 옳은 것은? [3점]



- ① 한국-한·일 기본 조약이 체결되었다.
- ② 한국-최초로 여야 간 평화적 정권 교체가 일어났다.
- ③ 중국-세계 무역 기구[WTO]에 가입하였다.
- ④ 일본-국가 총동원법이 시행되었다.
- ⑤ 일본-극동 국제 군사 재판이 개최되었다.

* 확인 사항

- 답안지의 해당란에 필요한 내용을 정확히 기입(표기)했는지 확인 하시오.