

제 4 교시

사회탐구 영역(세계지리)

성명

수험번호

3

제 [] 선택

1. 다음 자료의 (가), (나)에 해당하는 내용으로 가장 적절한 것은?

(가)의 사례



영국을 대표하는 랜드마크 중 하나인 '런던 아이'는 템즈강변에 위치한 높이 135m의 대관람차이다. 매년 300만 명 이상의 관광객이 방문하는 여행 명소로 유명하다.

(나)의 사례



'카망베르 드 노르망디' 치즈는 노르망디 지방에서 생산된 우유만을 사용하며 독특한 향과 질감을 지니고 있다. 이에 원산지 보호 명칭 제도(AOC)를 통해 인증되었다.

(가)

- ① 장소 마케팅
- ② 장소 마케팅
- ③ 지리적 표시제
- ④ 지리적 표시제
- ⑤ 다국적 기업의 현지화

(나)

- 공정 무역
- 지리적 표시제
- 공정 무역
- 다국적 기업의 현지화
- 장소 마케팅

2. 다음 자료의 (가)~(다) 지형에 대한 설명으로 옳은 것만을 <보기>에서 고른 것은?

(가)은/는 바위의 아랫부분이 차별적으로 깎이면서 형성된 버섯 모양의 바위이다.



(나)은/는 산 정상부를 중심으로 여러 개의 권곡이 만나 형성된 뾰족한 봉우리이다.



(다)은/는 빙하가 만들어 낸 U자곡에 바닷물이 들어와서 형성된 좁고 긴 만이다.

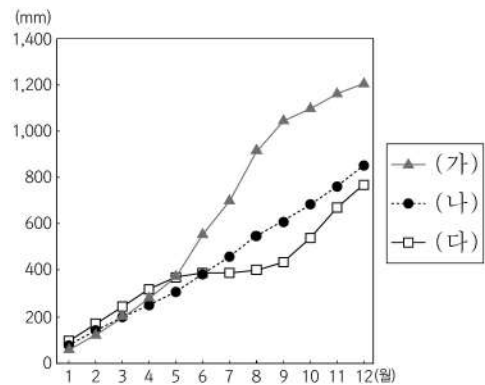


<보 기>

- ㄱ. (가)는 바람에 날린 모래의 침식으로 형성되었다.
- ㄴ. (나)는 빙하에 의해 운반된 물질이 퇴적되어 형성되었다.
- ㄷ. (다)는 후빙기 해수면 상승으로 형성되었다.
- ㄹ. (가)와 (나)는 물리적 풍화 작용보다 화학적 풍화 작용이 우세한 지역에서 발달한다.

- ① ㄱ, ㄴ ② ㄱ, ㄷ ③ ㄴ, ㄷ ④ ㄴ, ㄹ ⑤ ㄷ, ㄹ

3. 그래프는 지도에 표시된 세 지역의 누적 강수량을 나타낸 것이다. (가)~(다) 지역에 대한 설명으로 옳은 것은? [3점]

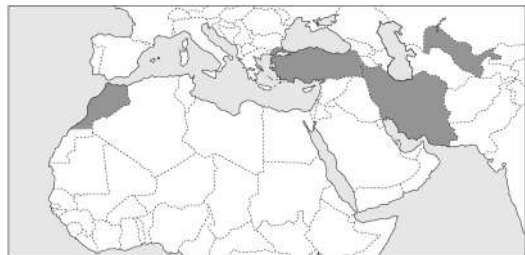


- ① (가)에서는 계절풍의 영향으로 벼농사가 활발하게 이루어진다.
- ② (나)에서는 올리브 등을 재배하는 수목 농업이 활발하다.
- ③ (가)는 (나)보다 기온의 연교차가 작다.
- ④ (나)는 (다)보다 아열대 고압대의 영향을 크게 받는다.
- ⑤ (가)는 대륙 서안, (다)는 대륙 동안에 위치한다.

4. 다음 자료는 세계지리 퀴즈의 일부이다. A 국가에 대한 설명으로 옳은 것은? [3점]

※ 다음 글에서 설명하는 (가)~(다) 국가를 지도에서 찾아 하나씩 지운 후 남은 국가 A를 쓰시오. (단, (가)~(다)와 A는 각각 지도에 표시된 국가 중 하나임.)

- (가) 시르다리아강과 아무다리아강 사이에 있는 내륙국이다. 과거 실크로드의 중심지인 사마르칸트 도시 유적이 남아 있다.
- (나) 지브롤터 해협을 사이에 두고 유럽의 이베리아 반도와 마주 보고 있다. 중세 모습이 보존된 '미로의 도시' 페스가 유명하다.
- (다) '아리아인의 나라'라는 뜻의 이름을 가진 국가로 페르시아만 연안에 위치한다. 지하 관개수로인 카나트가 발달해 있다.



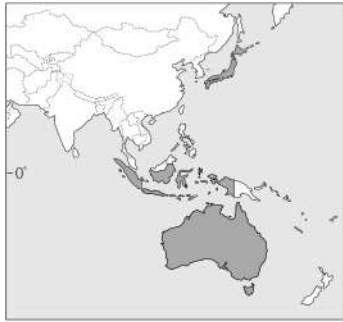
<정답> (가)~(다) 국가를 지우고 남은 국가는 A (이)다.

- ① 아틀라스산맥이 분포하고 있다.
- ② 카스피해 연안에 위치한 국가이다.
- ③ 대표적 관광지로 파묵칼레가 있다.
- ④ 걸프 협력 회의(GCC)의 회원국이다.
- ⑤ 아랄해 주변의 사막화로 인한 직접적 피해를 겪고 있다.

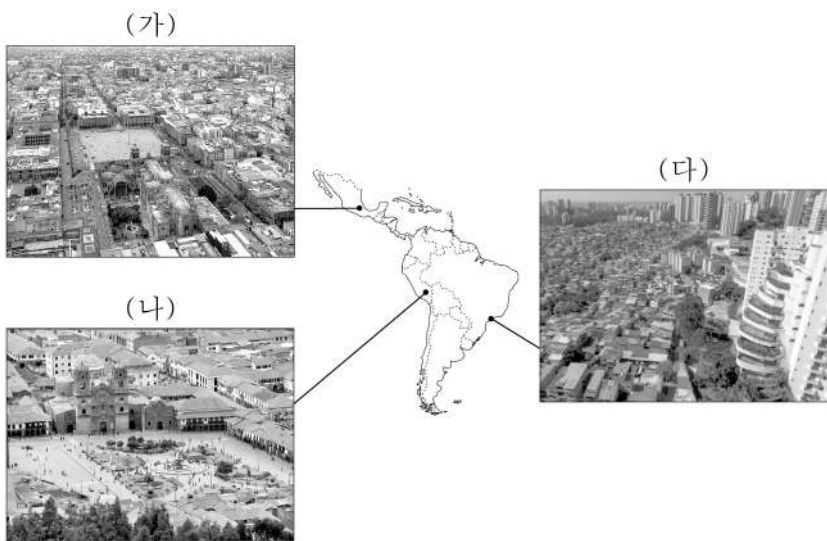
5. 표는 지도에 표시된 세 국가의 산업 구조를 나타낸 것이다. (가)~(다) 국가에 대한 설명으로 옳은 것은? [3점]

구분		(가)	(나)	(다)
산업별 종사자 수 비율(%)	1차	3.1	29.6	2.7
	2차	24.1	21.5	17.5
	3차	72.8	48.9	79.8
산업 종사자 수 (만 명)		6,633	13,119	1,225

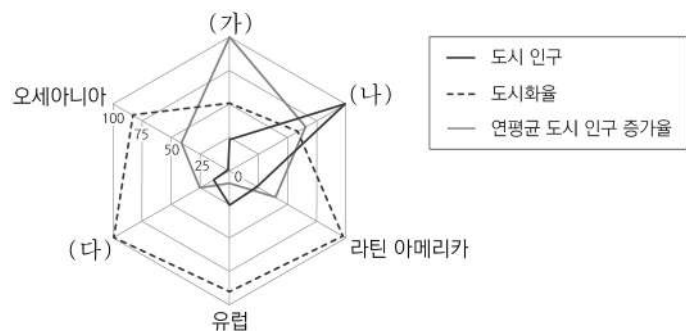
(2020)



- ① (가)의 전통 음식으로 나시고랭이 있다.
 ② (나)는 내륙의 찬정을 이용한 기업적 목축업이 발달하였다.
 ③ (가)는 (나)보다 총수출액에서 자동차가 차지하는 비율이 높다.
 ④ (나)는 (다)보다 밀 생산량이 많다.
 ⑤ (다)는 (가)보다 3차 산업 종사자 수가 많다.
6. 다음 자료는 중·남부 아메리카의 도시 경관을 나타낸 것이다. (가)~(다) 도시에 대한 설명으로 옳지 않은 것은? (단, (가)~(다)는 각각 멕시코시티, 상파울루, 쿠스코 중 하나임.)



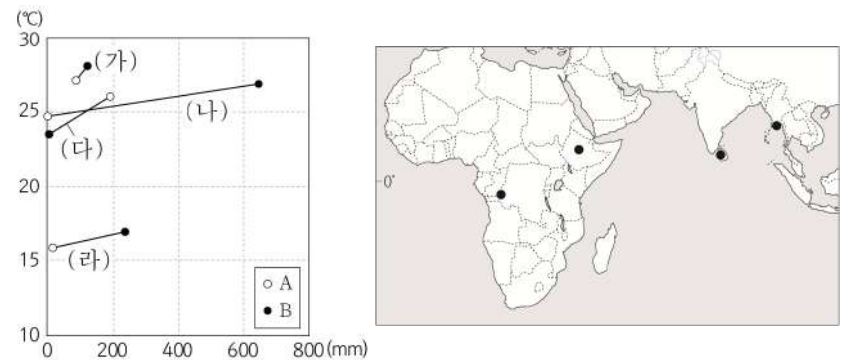
- ① (가)는 해당 국가의 수도이다.
 ② (나)는 과거 잉카 문명의 도시이다.
 ③ (다)에는 ‘파벨라’라고 불리는 불량 주택 지구가 있다.
 ④ (가)는 (다)보다 해발 고도가 높은 곳에 위치한다.
 ⑤ (가)~(다)는 모두 에스파냐어를 공용어로 사용한다.
7. 그래프의 (가)~(다) 지역(대륙)에 대한 설명으로 옳은 것은?



* 최댓값을 가진 지역(대륙)의 값을 100으로 했을 때의 상대값임.
 ** 도시 인구와 도시화율은 2015년, 연평균 도시 인구 증가율은 2010~2015년 기준임.

- ① (가)에는 최상위 세계 도시가 위치한다.
 ② (가)는 (나)보다 촌락 인구가 많다.
 ③ (다)는 (가)보다 노령화 지수가 높다.
 ④ 2015년 (나)의 인구 1위 국가는 도시화의 종착 단계에 있다.
 ⑤ 2010~2015년 (다)는 (나)보다 이혼향도 현상이 활발하다.

8. 그래프는 지도에 표시된 네 지역의 시기별 평균 기온과 강수량을 나타낸 것이다. (가)~(라) 지역에 대한 설명으로 옳은 것은? (단, A, B 시기는 각각 1월, 7월 중 하나임.) [3점]

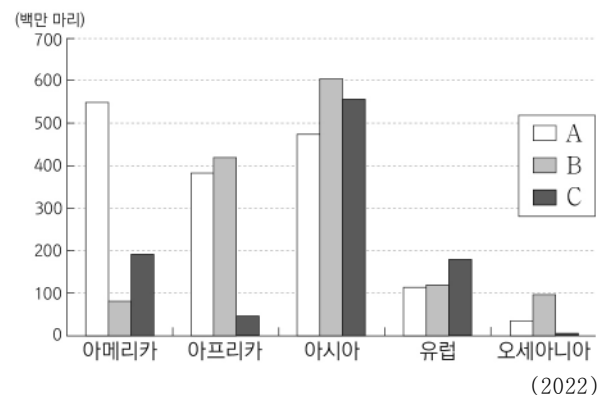


- ① (가)는 연중 우리나라의 봄과 같은 날씨가 나타난다.
 ② (다)는 A 시기에 적도 수렴대의 영향을 주로 받는다.
 ③ (라)는 아시아에 위치한다.
 ④ (나)는 (다)보다 B 시기에 낮의 길이가 짧다.
 ⑤ (가)~(라) 모두 기온의 연교차가 일교차보다 크다.
9. (가)~(다) 국가에 대한 설명으로 옳은 것만을 <보기>에서 고른 것은? [3점]

유럽은 다양한 문화적 배경이 존재하며, 한 국가 내에서도 경제적 격차에 따라 갈등이 나타나기도 한다. 벨기에에서는 [가]어를 사용하는 플랑드르 지역과 [나]어를 사용하는 왈로니아 지역 간의 갈등이 발생한다. [다]의 카탈루냐 지역은 고유한 언어와 문화를 가졌으며 다른 지역들과 경제적 격차로 인해 분리 독립을 요구하고 있다.

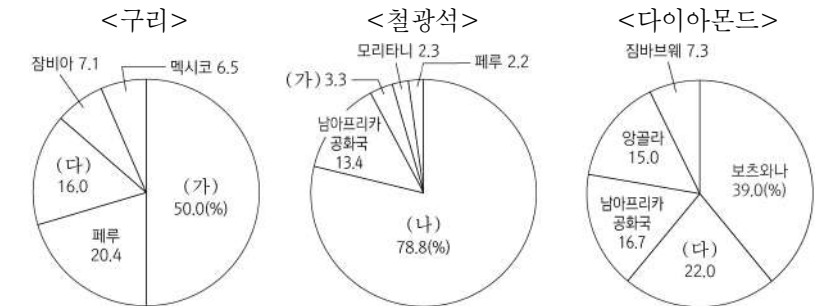
- <보 기>
- ㄱ. (가)는 유로화 대신 독자적인 화폐를 사용하고 있다.
 ㄴ. 캐나다의 퀘벡주는 (다)어를 주로 사용한다.
 ㄷ. (나)와 (다)는 모두 지중해 연안에 위치한다.
 ㄹ. (다)는 (가)보다 국토 면적이 넓다.

- ① ㄱ, ㄴ ② ㄱ, ㄷ ③ ㄴ, ㄷ ④ ㄴ, ㄹ ⑤ ㄷ, ㄹ
10. 그래프는 주요 가축의 지역(대륙)별 사육 두수를 나타낸 것이다. A~C에 대한 설명으로 옳은 것은? (단, A~C는 각각 돼지, 소, 양 중 하나임.) [3점]

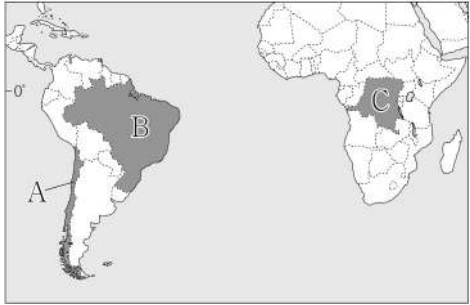


- ① A의 털은 모직 공업의 주원료로 이용된다.
 ② B는 이슬람 문화권에서 식용을 금기시한다.
 ③ 서남아시아에서는 C를 주로 유목의 형태로 사육한다.
 ④ A는 B보다 벵골사 지역에서 노동력 대체 효과가 크다.
 ⑤ 전 세계 육류 생산량은 B가 C보다 많다.

11. 그래프는 주요 자원의 국가별 생산량 비율을 나타낸 것이다.
(가)~(다)에 해당하는 국가를 지도의 A~C에서 고른 것은?

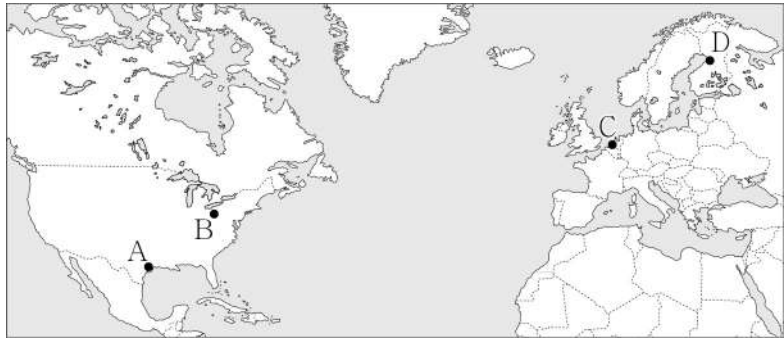


* 사하라 이남 아프리카와 중·남부 아메리카 내 생산량이 많은 상위 5개국의 합을 100%로 하여 나타낸 것임. (2021)



	(가)	(나)	(다)
①	A	B	C
②	A	C	B
③	B	A	C
④	B	C	A
⑤	C	A	B

12. 지도의 A~D 지역에 대한 설명으로 옳지 않은 것은?



- ① A는 유전을 기반으로 석유 화학 공업이 발달하였다.
- ② B는 러스트 벨트에 속한다.
- ③ C는 석탄 및 철광석 산지를 중심으로 공업이 발달하였다.
- ④ D에는 기업, 대학, 연구소가 연계된 첨단 산업 클러스터가 있다.
- ⑤ B는 A보다 공업 발달의 역사가 오래되었다.

13. (가)~(다) 국가에 대한 설명으로 옳은 것은? (단, (가)~(다)는 각각 베트남, 타이, 필리핀 중 하나임.) [3점]

(가) 세계적인 쌀 수출 국가이다. 수도인 방콕을 비롯하여 전국 각지에서는 매년 우기가 시작될 무렵 풍작을 기원하며 서로에게 물을 뿌리는 송고란 축제가 열린다.

(나) 아시아에서 커피 생산량이 가장 많은 국가이다. 이곳의 부온 마투웃에서는 뛰어난 품질의 커피를 홍보하는 축제를 개최하여 수많은 관광객이 찾고 있다.

(다) 환태평양 조산대에 위치한 국가이다. 과거 지진 피해를 입었던 바기오에서는 주민들을 위로하며 꽃을 뿌리는 의식으로부터 유래한 파낙벵가 축제가 열린다.

- ① (가)는 중국과 국경을 접하고 있다.
- ② (나)에서는 로힝야족에 대한 탄압으로 난민이 발생하였다.
- ③ (다)의 여성 전통 의복으로는 아오자이가 있다.
- ④ (가)는 (다)보다 국가 내의 불교 신자 수 비율이 높다.
- ⑤ 메콩강은 (나)와 (다)를 지난다.

14. 다음은 종교 분쟁에 관한 신문 기사의 일부이다. (가)~(다)종교에 대한 설명으로 옳은 것은? (단, (가)~(다)는 각각 이슬람교, 크리스티교, 힌두교 중 하나임.)

△△신문
팔레스타인의 무장정파인 하마스와 이스라엘 간의 전쟁이 장기화되고 있다. 민간인 피해가 속출하는 가운데 이스라엘은 강경한 태도를 고수하고 있으며, 하마스 또한 (가), (나), 유대교의 공동 성지인 예루살렘을 수도로 한 팔레스타인 국가를 건설하고 싶다는 입장을 표명했다.

□□신문
인도의 아요디아 사원 분쟁은 16세기 초 무굴 제국의 초대 황제인 바부르가 옛 유적을 파괴하고 (나) 사원인 모스크를 건설하면서 시작되었다. 다신교인 (다) 측은 비슈누 신의 화신인 라마가 탄생한 성지에 사원을 다시 설립해야 한다고 요구하였고, 최근 새로운 사원이 건축되었다.

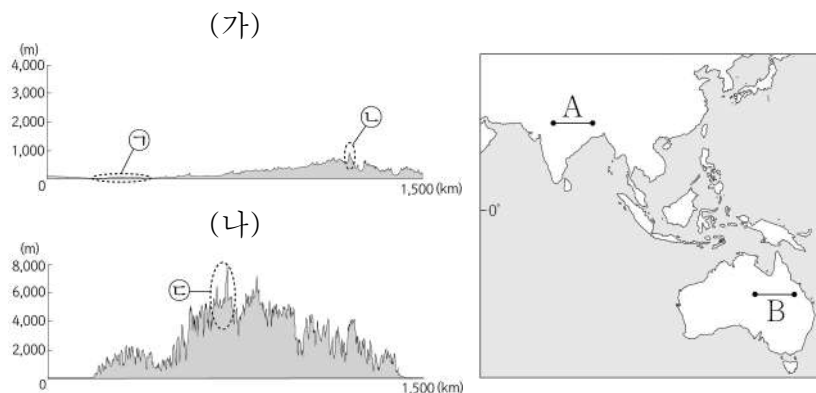
- ① (가)의 주요 종파에는 수니파와 시아파가 있다.
- ② (나)의 기원지는 남부 아시아에 위치한다.
- ③ (다)의 대표적인 종교 경관은 십자가와 종탑이다.
- ④ (가)는 (나)보다 전 세계 신자 수가 많다.
- ⑤ (나)는 민족 종교, (다)는 보편 종교이다.

15. 다음 자료는 인터넷 검색 화면의 일부이다. (가), (나)에 해당하는 용어로 옳은 것은?

지구적 환경 문제 × +
<해양 오염>
○ 영향: 쓰레기 섬 형성, 해양 생태계 파괴 등
○ 국제 사회의 해결 노력
- 폐기물의 해양 투기로 인한 해양 오염을 방지하는 (가) 체결(1972년)
- 유럽 연합(EU)의 플라스틱세 도입(2021년)
<지구 온난화>
○ 영향: 이상 기후 증가, 해수면 상승에 따른 저지대 침수 등
○ 국제 사회의 해결 노력
- 선진국과 개발 도상국 모두 온실가스 감축 의무에 동참하도록 하는 (나) 체결(2015년)
- 유럽 연합(EU)의 탄소 국경세 도입 예정(2026년)

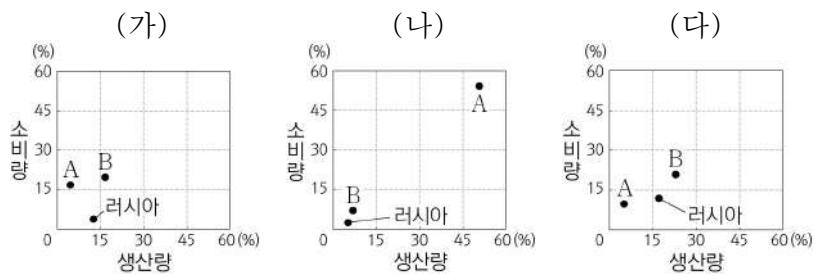
	(가)	(나)
①	런던 협약	파리 협정
②	런던 협약	람사르 협약
③	파리 협정	람사르 협약
④	파리 협정	몬트리올 의정서
⑤	람사르 협약	몬트리올 의정서

16. 그림은 지도에 표시된 A, B 두 구간의 지형 단면을 나타낸 것이다. 이에 대한 설명으로 옳은 것은? (단, (가), (나)는 각각 A, B의 지형 단면 중 하나임.) [3점]



- ① (가)는 A, (나)는 B의 지형 단면을 나타낸 것이다.
- ② ㉠은 지진과 화산 활동이 활발한 지역이다.
- ③ ㉡은 알프스-히말라야 조산대에 속한다.
- ④ ㉢은 두 개의 대륙판이 충돌하여 형성된 산지이다.
- ⑤ ㉣은 ㉢보다 형성 시기가 늦다.

17. 그래프는 세 화석 에너지 자원의 주요 국가별 생산량 및 소비량 비율을 나타낸 것이다. 이에 대한 설명으로 옳은 것은? (단, (가)~(다)는 각각 석유, 석탄, 천연가스 중 하나이며, A, B는 각각 미국, 중국 중 하나임.) [3점]



* 전 세계 화석 에너지 생산량 및 소비량에서 차지하는 국가별 비율임. (2021)

- ① (가)는 (나)보다 상용화된 시기가 이른다.
- ② (나)는 (다)보다 연소 시 대기 오염 물질의 배출량이 많다.
- ③ (다)는 (가)보다 수송용으로 이용되는 비율이 높다.
- ④ 중국은 러시아보다 천연가스 소비량이 많다.
- ⑤ A는 미국, B는 중국이다.

18. 다음 자료의 ㉠~㉣에 대한 설명으로 옳은 것만을 <보기>에서 고른 것은?

2007년 유네스코 세계 자연 유산으로 등재된 중국 남방 카르스트 지역은 구이저우·광시·윈난·충칭 지방에 걸쳐 약 1,762km²의 면적에 이르며, 다양한 종류의 ㉠ 카르스트 지형이 분포한다.



<뤄핑의 ㉠ 돌리네>



<안순의 ㉡ 석회 동굴>



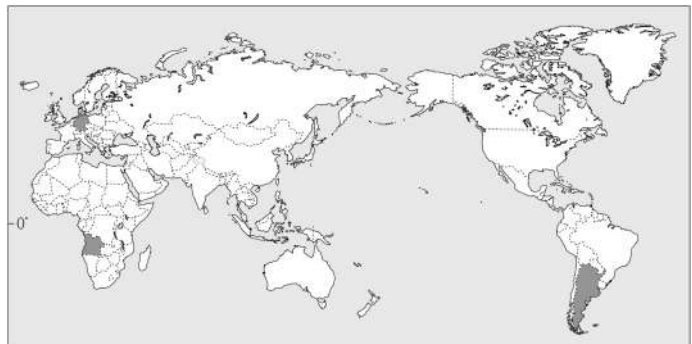
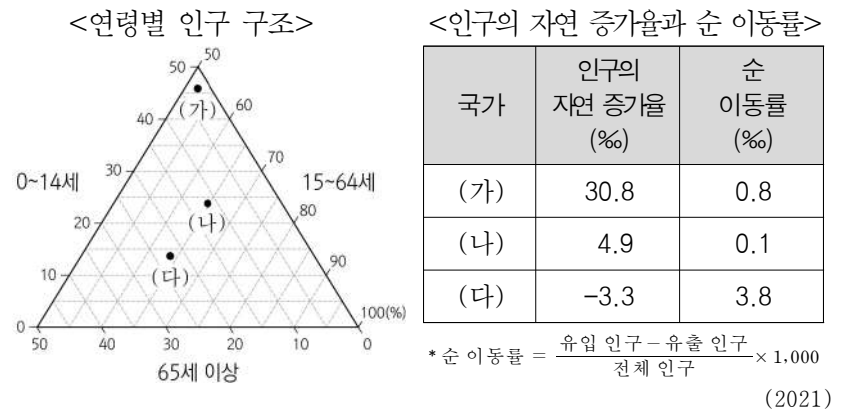
<상이의 ㉢ 탑 카르스트>

<보 기>

- ㉠. ㉠은 습윤 기후 지역보다 건조 기후 지역에서 잘 발달한다.
- ㉡. ㉡ 주변의 토양은 대체로 회백색을 띤다.
- ㉢. ㉢의 내부에서는 종유석, 석순, 석주 등을 볼 수 있다.
- ㉣. ㉣은 주로 암석의 차별적 용식에 의해 형성되었다.

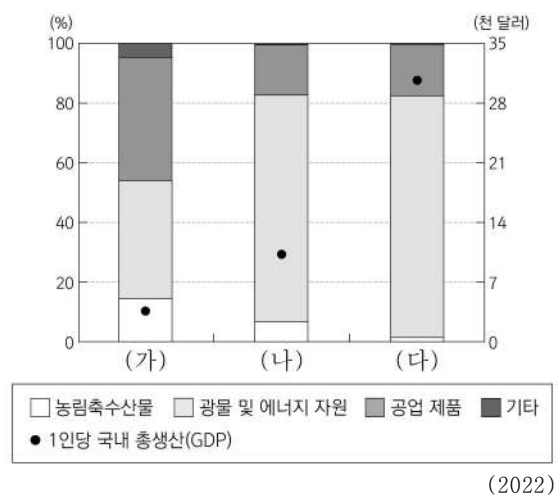
- ① ㉠, ㉡ ② ㉠, ㉢ ③ ㉡, ㉣ ④ ㉡, ㉣ ⑤ ㉢, ㉣

19. 다음 자료는 지도에 표시된 세 국가의 인구 특성을 나타낸 것이다. 이에 대한 설명으로 옳은 것은? [3점]



- ① (가)는 (나)보다 중위 연령이 높다.
- ② (나)는 (다)보다 1인당 평균 소득이 높다.
- ③ (다)는 (가)보다 합계 출산율이 높다.
- ④ (가)~(다) 중 총부양비는 (가)가 가장 높다.
- ⑤ 2021년 (다)는 총인구가 감소하였다.

20. 그래프는 세 국가의 상품별 수출액 비율과 1인당 국내 총생산(GDP)을 나타낸 것이다. (가)~(다)에 해당하는 국가로 옳은 것은?



- | | (가) | (나) | (다) |
|---|---------|---------|---------|
| ① | 이집트 | 카자흐스탄 | 사우디아라비아 |
| ② | 이집트 | 사우디아라비아 | 카자흐스탄 |
| ③ | 카자흐스탄 | 이집트 | 사우디아라비아 |
| ④ | 카자흐스탄 | 사우디아라비아 | 이집트 |
| ⑤ | 사우디아라비아 | 이집트 | 카자흐스탄 |

* 확인 사항

- 답안지의 해당란에 필요한 내용을 정확히 기입(표기)했는지 확인 하시오.