

제 4 교시

사회탐구 영역(동아시아사)

성명

수험번호

3

제 [ ] 선택

1. 밑줄 친 ‘이 유물’이 출토된 지역을 지도에서 옳게 고른 것은?

제 뒤로 보이는 박물관은 이 지역의 신석기 문화를 대표하는 반포 유적 위에 세워졌습니다. 박물관 입구의 사람 얼굴을 한 물고기 모양은 이 유적에서 출토된 이 유물의 무늬에서 따온 것입니다.



- ① (가)    ② (나)    ③ (다)    ④ (라)    ⑤ (마)

2. (가) 황제에 대한 설명으로 옳은 것은?



이것은 [가]의 조서를 새긴 청동판이다. 여기에는 “26년, 황제가 천하의 제후를 아우르니 백성이 크게 평안해졌다. 칭호를 만들어 스스로 황제라 하였다. 조서를 내려 승상인 외장과 왕관에게 도량형을 법으로 정하게 하니, 하나도 부족하거나 의심할 것 없이 명확하게 통일되었다.”라고 새겨져 있다.

- ① 군국제를 실시하였다.  
② 분서갱유를 단행하였다.  
③ 장건을 서역에 파견하였다.  
④ 백등산 전투에서 승리하였다.  
⑤ 준왕을 몰아내고 집권하였다.

3. 자료에 나타난 시기의 동아시아 상황으로 옳은 것은? [3점]

무(武)가 송 황제에게 보낸 표문에 이르기를, “선왕들은 대대로 조공을 게을리한 적이 없습니다. 신(臣) 또한 왕위를 이어받은 이상, 폐하께서 계시는 천하의 중심으로 찾아뵈어야 한다고 생각하고 백제를 경유하기 위해 배도 준비해 두었습니다. 그러나 고구려의 방해로 ...(중략)... 비록 길을 나서더라도 도착을 장담할 수 없는 상태가 되어 버렸습니다. ...(중략)... 폐하의 덕으로 고구려를 멸망시킨다면 조공에 힘썼던 선왕들의 공적을 쇄퇴하게 만드는 일도 없을 것입니다.”라고 하였다.

- ① 해안요가 건설되었다.  
② 5대 10국 시대가 전개되었다.  
③ 고구려가 낙랑군을 축출하였다.  
④ 북위가 화북 지방을 지배하였다.  
⑤ 신라가 당과 군사 동맹을 체결하였다.

4. (가) 국가에 대한 설명으로 옳은 것은? [3점]

우리는 싸우는 것을 바라지 않았기에 약 40년간 [가]에 해마다 물품을 보냈습니다. 그럼에도 불구하고 그들은 우리의 변경을 침범하고 있습니다. 우리 군대와 백성이 분노하여 죽음을 각오하고 싸우려 하지만 군대가 가는 데에는 시간이 걸립니다. 만약 고려가 거병한다면 서로 호응하여 앞뒤로 공격할 수 있습니다. 우리가 승리하면 후진이 [가]에 내주었던 장성 이남의 연운 지역을 회복할 수 있을 것입니다.

- ① 발해를 멸망시켰다.  
② 별무반을 편성하였다.  
③ 튀양으로 천도하였다.  
④ 정화의 함대를 파견하였다.  
⑤ 백강 전투에서 패배하였다.

5. 자료에 나타난 왕조에 대한 설명으로 옳은 것은?

황제는 광수경의 상주문을 읽고 흡족해하며 운하 공사를 속히 시행하라고 명하였다. 이전까지는 수만 석이 넘는 곡식이 해마다 통주에서 대도까지 육로로 운송되었는데, 이 과정에서 동원된 가축이 수없이 죽어 손실이 컸다. ...(중략)... 황제가 상도에서 대도로 돌아오는 길에 적수담을 지나면서 배들이 물 위에 빠곡히 떠 있는 모습을 보고 크게 기뻐하며 운하에 ‘통해하’라는 이름을 붙였다. 또한 광수경에게 교초 12,500관을 하사하고, 통해하의 운송 업무를 맡겼다.

- ① 동호를 정복하고 월지를 몰아내었다.  
② 장거정을 등용하여 개혁을 추진하였다.  
③ 행성을 설치하고 다루가치를 파견하였다.  
④ 군사·행정 조직으로 팔기제를 운영하였다.  
⑤ 수도 흥경을 중심으로 동서 무역을 전개하였다.

6. 자료를 활용한 탐구 활동으로 가장 적절한 것은?

짐이 생각하건대, 공자의 도(道)는 맹자 이후로 제대로 전해지지 못하였다. 그러나 우리 조정에 이르러 주돈이, 장재, 정호, 정이가 성인의 경지를 깊이 탐구하여 학문이 비로소 그 방향을 얻게 되었다. 또한 주희가 『대학』, 『논어』, 『맹자』, 『중용』의 체계와 근원을 통찰하여 공자의 도가 세상에 밝게 드러났다. 이제 이들을 문묘에 종사하도록 하여 숭상하는 뜻을 보이게 하라.

- ① 사회 진화론이 끼친 영향을 파악한다.
- ② 다이카 개신의 주요 내용을 정리한다.
- ③ 성리학의 성립과 확산 과정을 알아본다.
- ④ 신토(신도)와 불교의 융합 양상을 살펴본다.
- ⑤ 해체신서의 간행을 계기로 발전한 학문을 조사한다.

7. (가) 국가에 대한 설명으로 옳은 것은? [3점]

마카오에서 세계 미식 축제가 열립니다. 마카오는 16세기 중엽 (가)의 상인들이 명으로부터 거주권을 획득한 이후, 플라카와 나가사키를 잇는 중요한 무역 중심지가 되었습니다. 그 영향으로 마카오에서는 (가)와/과 중국의 음식이 융합된 독특한 음식 문화가 형성되었습니다.



- ① 메카트니 사절단을 파견하였다.
- ② 바타비아를 교역의 거점으로 삼았다.
- ③ 베트남과 제1차 사이공 조약을 체결하였다.
- ④ 마닐라를 건설하고 갈레온 무역을 전개하였다.
- ⑤ 크리스티노 포교 문제로 일본과의 교역이 중단되었다.

8. 자료의 상황이 나타난 시기를 연표에서 옳게 고른 것은? [3점]

예부의 호인이 통역을 데려와 나덕헌에게 “내일 칸께서 교외로 나아가 황제의 자리에 오르고 축하를 받을 것이니, 사신들도 마땅히 참여해야 할 것이요.”라고 하였다. 나덕헌이 “우리나라가 이곳에 사신을 보낸 것이 한두 번이 아니요. 관례에 의하면 한번 만난 뒤에 다시 만나는 예가 없소.”라고 하자, 호인이 “금이 예식을 행하면 형제국인 조선이 참관하는 것은 당연하거늘 어찌 거절한단 말이오.”라고 하였다.

	(가)	(나)	(다)	(라)	(마)	
오닌의 난 발발	삼포 왜란	벽계관 전투	에도 막부 수립	인조반정	이자성의 베이징 점령	

- ① (가)      ② (나)      ③ (다)      ④ (라)      ⑤ (마)

9. (가) 인물이 활동한 시기에 동아시아에서 볼 수 있는 모습으로 가장 적절한 것은? [3점]

東大寺

사찰 역사

주요 건물

관람 안내

계단원 계단당

이곳은 수계 의식이 거행되던 계단원이다. 일본에 불교가 전래된 후 승려의 수는 늘어났지만 제대로 계율을 전할 사람이 없었다. 당의 승려 (가) 이/가 일본에 온 이후에야 비로소 수계 제도가 정비되었다. 그는 대불전 앞에서 쇼무 상황 및 승려들의 수계 의식을 주관하였고, 이를 계기로 도다이사에 계단당 등의 건물을 갖춘 계단원이 조성되었다.

- ① 사고전서 편찬에 참여하는 학자
- ② 적산 법화원에 머물고 있는 승려
- ③ 수도 헤이조쿄를 방문하는 외국 사절
- ④ 베이징의 자금성 건설에 동원되는 장인
- ⑤ 한위노국왕이라고 새겨진 금인을 받는 국왕

10. (가) 막부 시기의 동아시아 문화에 대한 설명으로 옳지 않은 것은?

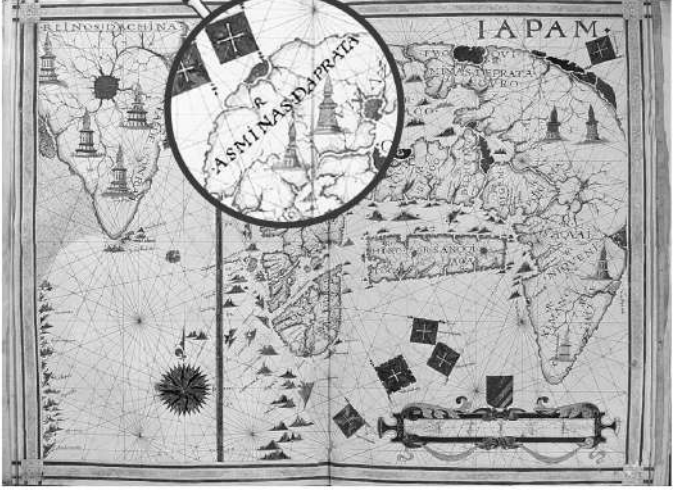


그림은 아침 일찍 혼진[本陣]에서 출발 준비를 하는 다이묘 일행을 그린 우키요에이다. (가) 시기에는 막부의 거점으로 향하는 주요 도로에 역참이 설치되어 있었다. (가) 시기에 지방 영지와 막부의 거점을 정기적으로 오가야 했던 다이묘들은 역참에 설치된 숙소인 혼진에서 묵었다.

- ① 한국 - 판소리가 성행하였다.
- ② 한국 - 한글 소설이 유행하였다.
- ③ 중국 - 경극이 인기를 끌었다.
- ④ 중국 - 경사 대학당이 설립되었다.
- ⑤ 일본 - 가부키가 공연되었다.

11. (가)에 대한 설명으로 옳은 것만을 <보기>에서 고른 것은?

지도로 보는 동아시아사



[해설] 이것은 16세기에 유럽인이 제작한 지도이다. 확대된 부분은 이와미 광산이 있는 지역으로, '□(가)'의 광산'이라고 적혀 있다. 이와미 광산의 □(가) 생산량은 일본이 조선으로부터 회취법을 도입한 이후 크게 증가하였다.

- < 보 기 >

  - ㄱ. 명·청대에 세금 납부 수단으로 이용되었다.
  - ㄴ. 초량 왜관을 통해 일본으로 대량 수출되었다.
  - ㄷ. 송이 북방 민족에게 세폐로 제공한 물품이었다.
  - ㄹ. 이삼평에 의해 일본에서 본격적으로 생산되었다.
- ① ㄱ, ㄴ    ② ㄱ, ㄷ    ③ ㄴ, ㄷ    ④ ㄴ, ㄹ    ⑤ ㄷ, ㄹ

12. (가) 사건에 대한 설명으로 옳은 것은? [3점]


○○신문

9월 7일을 국치일로

최근 중국에서 반제국주의 운동이 거세지고 있는 가운데, 9월 7일을 국치일로 정하자는 주장이 제기되어 눈길을 끌고 있다. 24년 전 이날, 중국은 □(가)을/를 진압한 8개국을 포함한 열강들과 조약을 맺었다. 조약에 따르면 중국은 베이징에 공사관 구역을 설정하고, 방위 병력의 상주를 허용하며, 배상금을 지불해야 하였다. 이러한 치욕을 당한 중국인들은 마음이 쓰렸을 것이다. 지금에 와서 이날을 국치일로 정하자는 것은 중국의 정신이 차차 깨어가고 있음을 보여 준다.

- ① 부청멸양을 구호로 내세웠다.
- ② 삼국 간섭이 일어나는 배경이 되었다.
- ③ 메이지 유신을 개혁의 모델로 삼았다.
- ④ 홍수전이 조직한 상제회가 주도하였다.
- ⑤ 일본의 21개조 요구 철회를 주장하였다.


13. 밑줄 친 '이 조약'이 체결된 시기의 동아시아 상황으로 옳은 것은? [3점]



이것은 이 조약의 비준 100주년을 기념하는 우표이다. 우표에는 일본 사절단이 탄 미국 배를 뒤따라 가는 일본 군함 칸린마루호가 그려져 있다. 사절단은 미국 대통령을 만나 영사 재판권, 나가사키 등의 추가 개항을 내용으로 담은 이 조약의 비준서를 교환하였다.

- ① 한국 - 광무개혁이 추진되었다.
- ② 중국 - 잡지 신청년이 발행되었다.
- ③ 중국 - 제2차 아편 전쟁이 전개되었다.
- ④ 일본 - 태양력이 채택되었다.
- ⑤ 일본 - 대일본 제국 헌법이 제정되었다.

14. 밑줄 친 '나'에 대한 설명으로 옳은 것은?



오늘날 군벌은 할거하고, 외세의 침략은 날로 심해지고 있습니다. 이제 우리 국민 혁명군은 북벌을 통해 삼민주의를 완수할 것입니다. 나는 국민 혁명군 총사령관으로서 반드시 북벌의 대업을 완수할 것을 맹세합니다.

- ① 동양 평화론을 집필하였다.
- ② 홍군을 이끌고 대장정을 감행하였다.
- ③ 중화민국의 임시 대통령으로 취임하였다.
- ④ 유신 헌법을 통해 장기 집권을 꾀하였다.
- ⑤ 쿠데타를 일으키고 중국 공산당을 탄압하였다.

15. 밑줄 친 '3년' 동안에 있었던 사실로 옳은 것은? [3점]

온갖 어려움을 극복하고 끝까지 분투하는 용맹함은 조선 혁명 청년 특유의 정신이자 조선 의용대의 상징이기도 하다. 이제 막 혁명 공작의 첫걸음을 내디딘 우리는 결코 자만하거나 게으름을 피워서는 안 될 것이다. 루거우차오 부근에서의 충돌 이후 전개된 중국의 대일 항전이 3년째에 접어드는 올해는 조선 의용대가 성립된 지 2년째에 접어드는 해이기도 하다. 우리는 앞으로도 중화 민족의 해방을 위해, 조선 민족 혁명의 완성을 위해 계속 투쟁해 나갈 것이다.

- ① 알타 회담이 개최되었다.
- ② 미드웨이 해전이 벌어졌다.
- ③ 일본이 난징 대학살을 자행하였다.
- ④ 한중 민족 항일 대동맹이 결성되었다.
- ⑤ 윤봉길의 홍커우 공원 의거가 일어났다.

16. 밑줄 친 ‘황제’에 대한 설명으로 옳은 것은?

병부에서 아뢰기를, “양광 총독 주유덕의 보고에 따르면, 강제 이주한 연해 지역의 백성들이 오랫동안 생업을 잃은 채 고통받고 있다고 합니다.”라고 하였다. 이에 황제가 명하기를 “그렇다면 연해 지역에 군대를 배치하여 타이완의 정씨 세력에 대한 방어를 강화한 후, 이주민들을 임시로 원래의 생업지로 돌려보내 농번기를 놓치지 않게 하라.”라고 하였다.

- ① 호라즘을 정복하였다.
- ② 삼번의 난을 진압하였다.
- ③ 세키가하라 전투에서 승리하였다.
- ④ 난징에서 베이징으로 천도하였다.
- ⑤ 두 차례의 일본 원정을 단행하였다.

17. (가) 도에서 있었던 사실로 옳은 것은?

나가사키 출신의 사업가 호리 히사타로는 강화도 조약으로 개항된 (가)에서 호텔을 운영하였다. 호텔은 벽돌로 지어진 3층짜리 서양식 건물로 침실과 식당을 갖추고 있었다. 한때 성황리에 운영되던 호텔은 노량진과 (가)을/를 잇는 철도가 개통되고, 5년 후 러일 전쟁까지 발발하자 경영난을 겪다가 결국 문을 닫았다.

- ① 금릉 기기국이 설치되었다.
- ② 아주 화친회가 결성되었다.
- ③ 영국 상인이 신보를 창간하였다.
- ④ 황성 만들기 사업이 추진되었다.
- ⑤ 외국인 조계(거류지)가 형성되었다.

18. 밑줄 친 ‘이 조약’에 대한 설명으로 옳은 것은? [3점]

처음에 미국은 한국을 이 조약의 참가국이자 서명국으로 참여시키고자 하였습니다. 그러나 중국의 참여가 배제된 상태에서 한국을 참가시킬 수 없다는 영국 등의 반대에 직면하자 입장을 바꾸었습니다. 결국 한국과 중국이 제외된 채 연합국과 일본은 제2차 세계 대전 이래의 적대 관계를 평화 관계로 전환하는 이 조약을 체결하였습니다. 그 결과 일본은 주권을 회복하였습니다.



- ① 6·25 전쟁 중에 체결되었다.
- ② 일본의 주력함 비율을 제한하였다.
- ③ 신헌법(평화 헌법)의 제정에 영향을 끼쳤다.
- ④ 미국과 일본의 군사적 동맹 관계를 규정하였다.
- ⑤ 극동 국제 군사 재판이 개최되는 근거가 되었다.

19. 밑줄 친 ‘이 전쟁’에 대한 설명으로 옳은 것만을 <보기>에서 고른 것은? [3점]



이 사진은 영국의 사진작가가 촬영한 것이다. 맨발로 다급히 도망치는 어린이의 모습은 이 전쟁의 비극을 보여 준다. 작가는 통킹만 사건을 빌미로 미국이 본격적으로 개입한 이 전쟁의 참혹한 실상을 알리려고 하였다.

< 보 기 >

- ㄱ. 유엔군의 개입으로 전세가 역전되었다.
- ㄴ. 파리 평화 협정이 체결되는 계기가 되었다.
- ㄷ. 자위대의 전신인 경찰 예비대 창설에 영향을 끼쳤다.
- ㄹ. 베트남 사회주의 공화국이 수립되는 결과를 가져왔다.

- ① ㄱ, ㄴ    ② ㄱ, ㄷ    ③ ㄴ, ㄷ    ④ ㄴ, ㄹ    ⑤ ㄷ, ㄹ

20. 밑줄 친 ‘이 운동’에 대한 설명으로 옳은 것은?

이 그림은 철강 증산을 독려하기 위해 마을을 방문한 마오쩌둥의 모습을 담고 있습니다. 그는 1950년대 후반부터 이 운동을 추진하며 마을에 재래식 용광로를 설치하여 철강 증산을 시도하였습니다. 그러나 이 운동은 기술력 부족 등으로 목표를 이루지 못하고 실패로 끝났습니다.



- ① 남순 강화로 가속화되었다.
- ② 3저 호황을 배경으로 추진되었다.
- ③ 도이머이 정책이 실시되는 원인이 되었다.
- ④ 문화 대혁명이 일어나는 데 영향을 끼쳤다.
- ⑤ 중국이 세계 무역 기구[WTO]에 가입하는 계기가 되었다.

\* 확인 사항

- 답안지의 해당란에 필요한 내용을 정확히 기입(표기)했는지 확인하십시오.