

제 4 교시

사회탐구 영역(한국지리)

성명

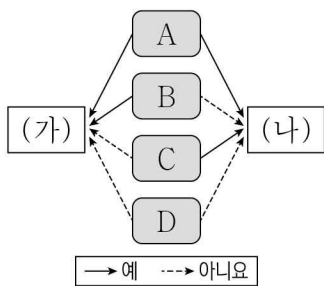
수험번호

3

제 [] 선택

1. 다음 자료는 두 지역의 지리 정보를 나타낸 것이다. (가), (나) 지역의 특징을 그림과 같이 표현할 때, A~D에 들어갈 질문으로 옳은 것을 <보기>에서 고른 것은? (단, (가), (나)는 각각 마라도, 백령도 중 하나임.)

구분	(가)	(나)
위치 정보	33° 07' 03" N, 126° 16' 10" E	37° 57' 30" N, 124° 39' 37" E
지역 형태		
면적	약 0.3km ²	약 51.1km ²

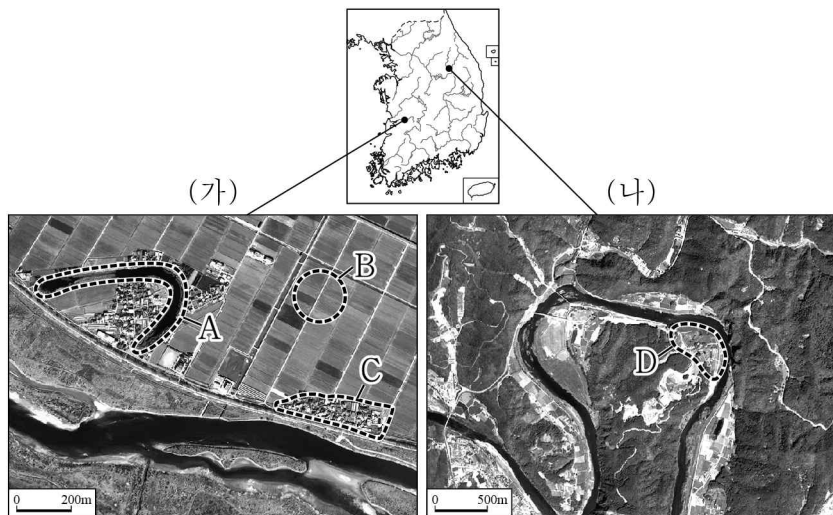


<보 기>

- ㄱ. 행정 구역상 인천광역시에 속합니까?
 ㄴ. 종합 해양 과학 기지가 건설되어 있습니까?
 ㄷ. 우리나라 영토의 4극 중 하나에 해당합니까?
 ㄹ. 최종 빙기에 한반도와 육지로 연결되어 있었습니까?

- | | |
|-------------------------------------|-------------------------------------|
| <u>A</u> <u>B</u> <u>C</u> <u>D</u> | <u>A</u> <u>B</u> <u>C</u> <u>D</u> |
| ① ㄴ ㄱ ㄷ ㄹ | ② ㄷ ㄹ ㄱ ㄴ |
| ③ ㄷ ㄹ ㄴ ㄱ | ④ ㄹ ㄱ ㄷ ㄴ |
| ⑤ ㄹ ㄷ ㄱ ㄴ | |

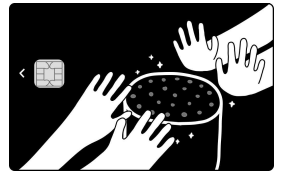
2. 다음은 지도에 표시된 두 지역의 하천 지형을 나타낸 위성 영상이다. 이에 대한 설명으로 옳은 것은? (단, A~D는 각각 배후 습지, 우각호, 자연 제방, 하안 단구 중 하나임.) [3점]



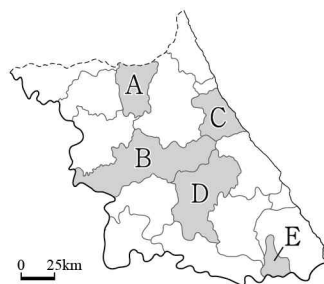
- ① (가)의 하천은 (나)의 하천보다 하상의 평균 해발 고도가 높다.
 ② (나)의 하천은 (가)의 하천보다 하방 침식이 활발하다.
 ③ A는 자연 상태에서 시간이 지날수록 규모가 확대된다.
 ④ B는 C보다 토양 배수가 양호하다.
 ⑤ D는 B보다 홍수 시 범람에 의한 침수 위험이 높다.

3. 다음 자료에서 설명하는 지역을 지도의 A~E에서 고른 것은?

이 지역은 대표적 탄광 도시로 석탄 산업의 쇠퇴 이후 지역 경제가 급격히 침체되었다. 이에 태백산 생태 관광을 육성함은 물론 폐광 지역 산업 유산을 활용한 석탄 박물관을 조성하고 지역 상품권을 발행하는 등 지역 경제 활성화를 위해 노력하고 있다.



▲ 석탄의 이미지를 활용한 카드형 지역 상품권



- ① A
 ② B
 ③ C
 ④ D
 ⑤ E

4. 표는 네 지역에 입지한 교통 관련 시설을 나타낸 것이다. (가)~(라) 지역에 대한 설명으로 옳은 것은? (단, (가)~(라)는 각각 목포, 부산, 제주, 청주 중 하나임.)

시설 \ 지역	(가)	(나)	(다)	(라)
항만	○	○	○	×
지하철역	○	×	×	×
국제 공항	○	○	×	○
고속 철도역	○	×	○	○

* ○는 시설이 입지함을, ×는 시설이 입지하지 않음을 의미함.

- ① (가)에는 세계 자연 유산으로 등재된 동굴이 있다.
 ② (다)에는 우리나라 최대 규모의 무역항이 있다.
 ③ (라)에는 오송 생명 과학 단지가 위치한다.
 ④ (가)와 (나)에는 하굿둑이 건설되어 있다.
 ⑤ (다)와 (라)는 경부 고속 국도가 통과한다.

5. 다음 자료는 (가), (나) 지역의 전통 가옥에 관한 것이다. 이에 대한 설명으로 옳은 것만을 <보기>에서 고른 것은? (단, A, B는 각각 겨울, 여름 중 하나임.)

구분	(가)	(나)
가옥 구조		
특징	A 을 지내기 유리하도록 넓은 대청마루를 설치하였다.	B 에 실내에서 활동할 수 있도록 정주간을 설치하였다.

<보 기>

- ㄱ. (가)는 (나)보다 폐쇄적 가옥 구조가 나타난다.
 ㄴ. (나)는 (가)보다 봄꽃의 개화 시기가 늦다.
 ㄷ. A는 B보다 열대 저기압의 통과 횟수가 많다.
 ㄹ. B는 A보다 평균 상대 습도가 높다.

- ① ㄱ, ㄴ ② ㄱ, ㄷ ③ ㄴ, ㄷ ④ ㄴ, ㄹ ⑤ ㄷ, ㄹ

6. 다음 자료는 우리나라 주요 해안을 방문한 여행객이 사회 관계망 서비스에 올린 내용이다. ㉠~㉣에 대한 설명으로 옳지 않은 것은?

국내에서 가장 넓은 ㉠갯벌이 발달되어 있으며, 우리나라의 대표 철새 도래지로 유명해.

갯벌 # 신안

㉡지반 융기로 형성된 계단 모양의 지형을 볼 수 있으며, 많은 관광객이 찾아오는 해돋이 명소야.

정동진 # 강릉

㉢파랑과 연안류의 퇴적으로 형성된 모래사장이 펼쳐져 있는데, 여름철에는 해수욕장으로 이용돼.

망상해변 # 동해

㉣파랑의 침식으로 형성된 해안 절벽과 그 전면에 평탄해진 지형을 관찰할 수 있어.

채석강 # 부안

- ① ㉠은 주로 조류의 퇴적 작용으로 형성된다.
- ② ㉡의 퇴적층에는 둥근 자갈이나 모래가 분포한다.
- ③ ㉢은 침식에 의해 육지 쪽으로 후퇴한다.
- ④ ㉠은 ㉢보다 퇴적물의 평균 입자 크기가 크다.
- ⑤ ㉢은 만(灣), ㉣은 곶(串)에서 주로 발달한다.

7. 표는 지도에 표시된 세 지역군의 유형별 외국인 주민 비율을 나타낸 것이다. (가)~(다) 지역군에 대한 설명으로 옳은 것만을 <보기>에서 고른 것은? [3점]

(단위: %)

지역군	(가)	(나)	(다)
외국인 주민 유형			
외국인 근로자	13.3	28.3	24.7
결혼 이민자	11.8	6.2	19.8
유학생	32.6	2.7	0.0
외국 국적 동포	8.5	30.1	7.4
기타	33.8	32.7	48.1

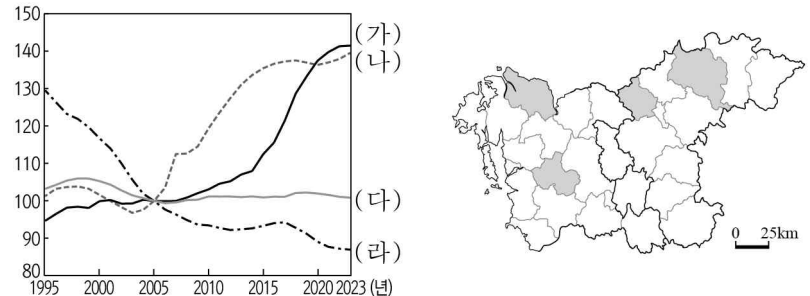
* 외국인 주민은 한국 국적을 가지지 않은 자만 해당함. (2023) (통계청)

<보 기>

- ㄱ. (가)는 (다)보다 전입 인구가 많다.
- ㄴ. (나)는 (가)보다 외국인 주민의 성비가 높다.
- ㄷ. (다)는 (나)보다 노령화 지수가 낮다.
- ㄹ. 결혼 이민자의 수는 (다)>(가)>(나) 순으로 많다.

- ① ㄱ, ㄴ ② ㄱ, ㄷ ③ ㄴ, ㄷ ④ ㄴ, ㄹ ⑤ ㄷ, ㄹ

8. 그래프는 지도에 표시된 네 지역의 인구 변화를 나타낸 것이다. (가)~(라)에 대한 설명으로 옳은 것은? [3점]



* 각 지역의 2005년 인구를 100으로 했을 때의 상대값임. (통계청)
 ** 2023년의 행정 구역을 기준으로 함.

- ① (가)에는 혁신도시가 조성되어 있다.
- ② (나)는 지명의 첫 글자가 도(道) 명칭의 유래가 되었다.
- ③ (다)에는 대규모 제철소가 입지해 있다.
- ④ (라)는 도청 소재지이다.
- ⑤ (가)는 시(市) 지역, (나)는 군(郡) 지역이다.

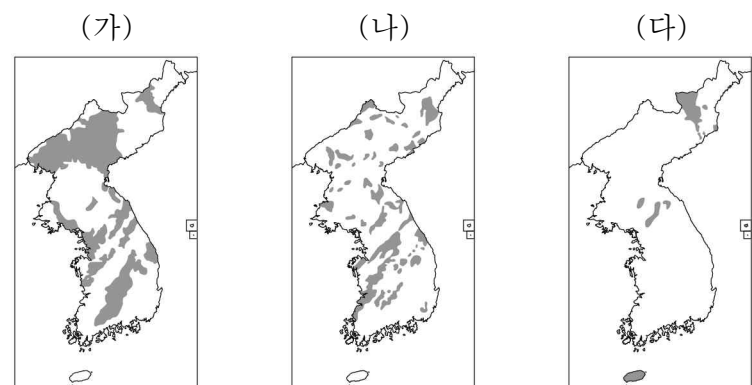
9. 표는 A~C 기상 현상의 발생 일수 변화를 나타낸 것이다. 이에 대한 설명으로 옳은 것은? (단, A~C는 각각 열대야, 한파, 황사 중 하나임.)

구분	2005~2014년				2015~2024년			
	3~5월	6~8월	9~11월	12~2월	3~5월	6~8월	9~11월	12~2월
A	0.0	6.6	0.1	0.0	0.0	10.5	0.5	0.0
B	0.1	0.0	0.0	7.7	0.0	0.0	0.0	5.4
C	5.2	0.0	0.8	1.4	4.9	0.0	0.7	0.8

* 전국(관측 지점)의 시기별 연평균 발생 일수임. (기상청)

- ① B는 북태평양 기단이 강하게 영향을 미칠 때 주로 발생한다.
- ② C로 인해 저체온증과 동상 위험이 증가한다.
- ③ A는 C보다 호흡기 및 안과 질환을 많이 일으킨다.
- ④ B는 A보다 냉방용 에너지 소비량의 급증을 유발한다.
- ⑤ 한파 일수는 2005~2014년에 비해 2015~2024년에 감소하였다.

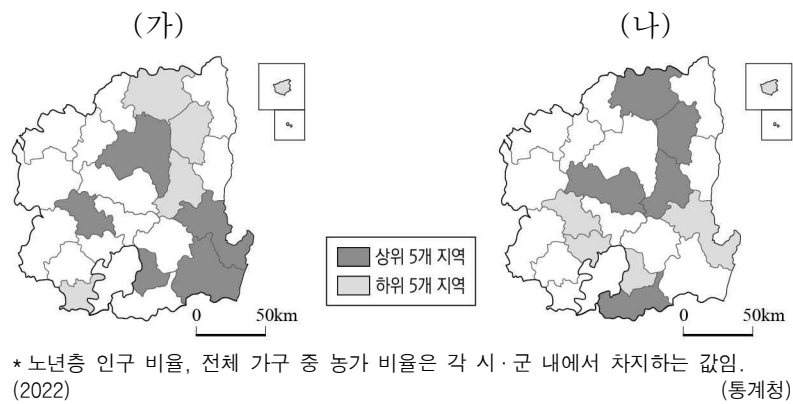
10. 지도는 한반도의 주요 암석 분포를 나타낸 것이다. 이에 대해 옳게 설명한 내용에만 있는 대로 ○ 표시한 학생을 고른 것은? (단, (가)~(다)는 각각 변성암, 현무암, 화강암 중 하나임.) [3점]



내용	학생				
	갑	을	병	정	무
(가)는 화산암에 속하는 다공질의 암석이다.	○		○		
(나)는 산 정상부를 이루는 경우 주로 돌산으로 나타난다.	○	○			○
(다)는 침식 분지의 주변 산지를 주로 구성하는 암석이다.			○	○	
(가)는 (나)보다 형성 시기가 이르다.		○		○	

- ① 갑 ② 을 ③ 병 ④ 정 ⑤ 무

11. 지도는 두 지표의 경상북도 상위 및 하위 5개 시·군을 나타낸 것이다. (가), (나)에 해당하는 지표로 옳은 것은?



- (가) (나)
- ① 노년층 인구 비율 제조업 사업체 수
 - ② 노년층 인구 비율 전체 가구 중 농가 비율
 - ③ 제조업 사업체 수 금융 및 보험업 종사자 수
 - ④ 금융 및 보험업 종사자 수 제조업 사업체 수
 - ⑤ 금융 및 보험업 종사자 수 전체 가구 중 농가 비율

12. 다음 글은 주요 신·재생 에너지의 특성에 관한 것이다. (가)~(다) 에너지에 대한 설명으로 옳은 것은?

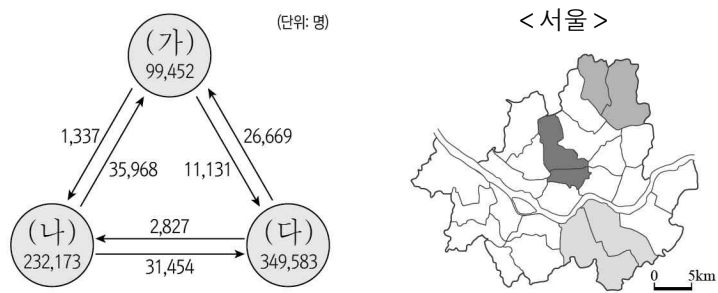
(가) 일조량이 풍부한 전남, 전북 등을 중심으로 발전이 이루어지고 있다. 일부 지역에서 패널 설치에 따른 산림 훼손 문제가 발생하기도 한다.

(나) 바람이 지속적으로 많이 부는 지역이 전력 생산에 유리하며 강원, 경북, 제주 등에서 발전량이 많다. 발전 과정에서 소음 문제로 지역 주민과의 갈등을 빚기도 한다.

(다) 조차가 큰 지역이 개발 잠재력이 높으며 경기 시화호에서 전력이 생산되고 있다. 발전소 건설로 인해 주변 해양 생태계 파괴 문제가 거론되기도 한다.

- ① (가)는 주간보다 야간에 발전량이 많다.
- ② (다)는 서해안보다 동해안이 발전소 입지에 유리하다.
- ③ (가)는 (나)보다 주택에서의 발전 시설 설치 비율이 높다.
- ④ (나)는 (다)보다 발전 시 기상 조건의 영향을 적게 받는다.
- ⑤ (다)는 (가)보다 국내 총발전량이 많다.

13. 다음 자료는 지도에 표시된 세 지역군 간 통근·통학 인구를 나타낸 것이다. (가)~(다) 지역군에 대한 설명으로 옳은 것은?



- ① (가)는 (나)보다 초등학교 학생 수가 많다.
- ② (가)는 (다)보다 주간 인구 지수가 높다.
- ③ (나)는 (가)보다 상업지의 평균 지가가 높다.
- ④ (나)는 (다)보다 생산자 서비스업 사업체 수가 많다.
- ⑤ (다)는 (가)보다 시가지의 형성 시기가 이른다.

14. 다음은 지도에 표시된 A~C에 대한 학생의 답변과 교사의 채점 결과이다. 이에 대한 설명으로 옳은 것만을 <보기>에서 고른 것은? [3점]

내용	답변	
	갑	을
A는 기반암이 빗물에 용식되어 형성되었다.	예	아니요
(가)	㉠	예
(나)	㉡	아니요
점수	3점	1점

* 교사는 각 답변이 옳으면 1점, 틀리면 0점을 부여함.

<보 기>

㉠. (가)가 'B는 유동성이 큰 용암이 굳어져서 형성되었다.' 이면, ㉡은 '아니요'이다.

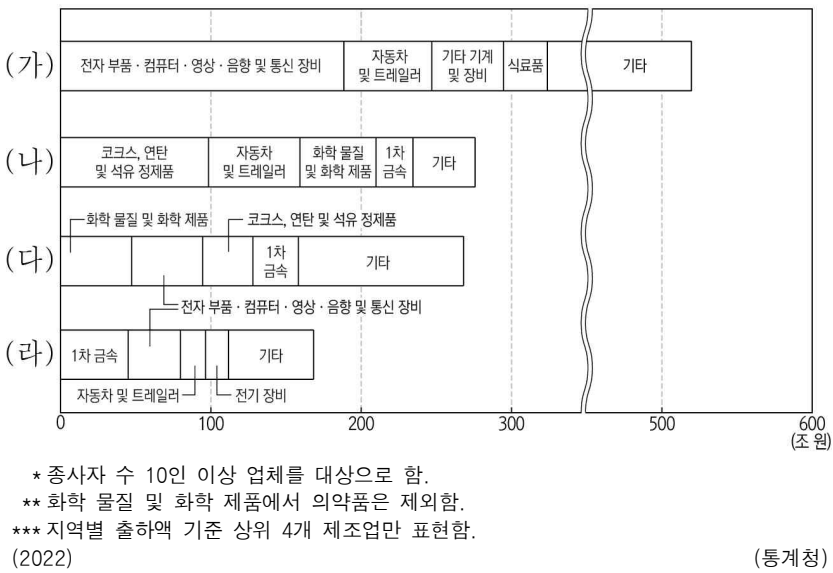
㉡. (나)가 'A에서는 주로 논농사가 이루어진다.'이면, ㉠은 '아니요'이다.

㉢. (가)가 'A의 기반암은 C의 기반암보다 형성 시기가 이른다.' 이면, (나)에는 'B 일대에는 주로 붉은색 토양이 분포한다.'가 들어갈 수 있다.

㉣. ㉠이 '아니요'이면, (나)에는 'C는 화구의 함몰로 형성된 칼데라이다.'가 들어갈 수 있다.

- ① ㉠, ㉡ ② ㉠, ㉢ ③ ㉡, ㉣ ④ ㉡, ㉣ ⑤ ㉢, ㉣

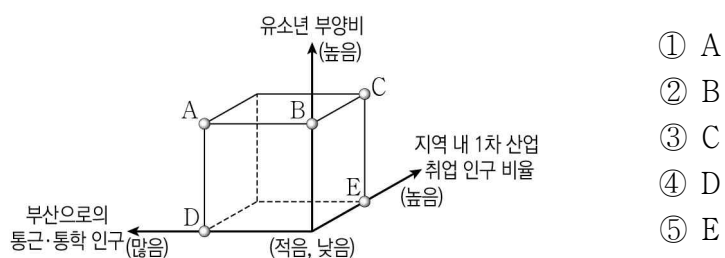
15. 그래프는 네 지역의 제조업 업종별 출하액을 나타낸 것이다. (가)~(라)에 해당하는 지역으로 옳은 것은? [3점]



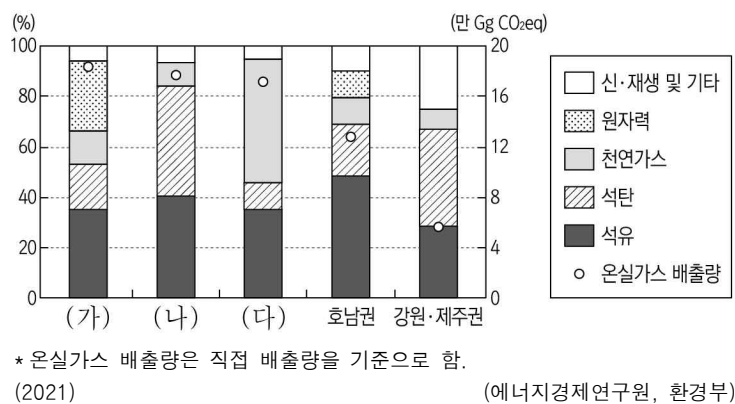
- (가) (나) (다) (라) (가) (나) (다) (라)
- ① 경기 울산 충남 경북 ② 경기 충남 울산 경북
 - ③ 경북 울산 충남 경기 ④ 충남 경기 경북 울산
 - ⑤ 충남 울산 경기 경북

16. 다음 자료의 ㉠에 대한 ㉡의 상대적 특성을 그림의 A~E에서 고른 것은?

- ㉠ 합천군의 중위 연령은 62.4세로 도내에서 가장 높다. 이에 지방소멸대응기금을 활용해 청년임대주택의 공급을 추진하는 등 청년층의 인구 유입을 유도하고 있다.
- ㉡ 김해시의 중위 연령은 44.1세로 도내에서 가장 낮다. 이에 청년정책팀을 설치하여 유입된 청년층의 정착과 삶의 질 향상을 지원하는 정책을 추진하고 있다.

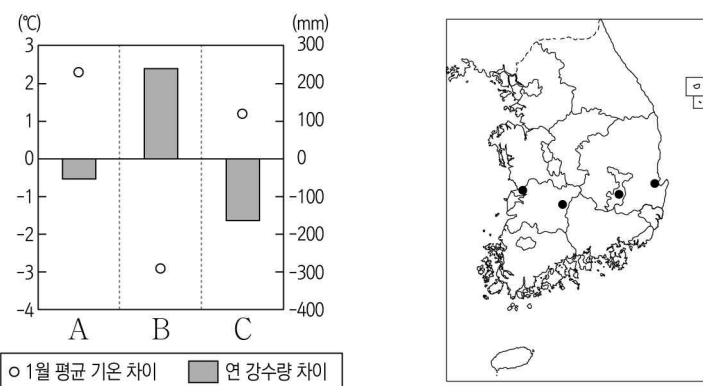


17. 그래프는 권역별 1차 에너지원의 공급 비율과 온실가스 배출량을 나타낸 것이다. (가)~(다) 권역에 대한 설명으로 옳은 것은? (단, (가)~(다)는 각각 수도권, 영남권, 충청권 중 하나임.) [3점]



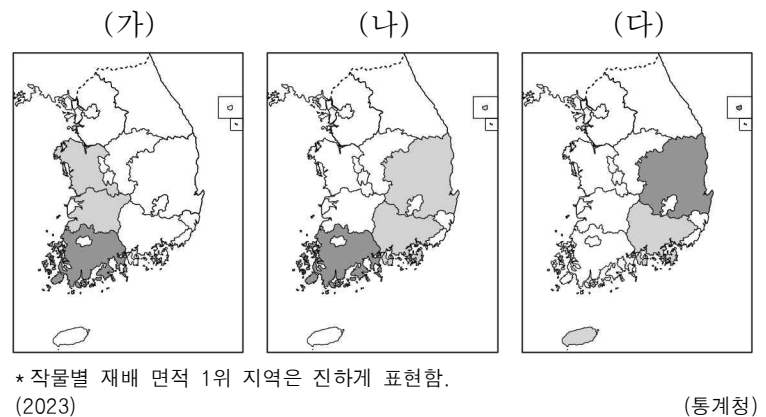
- ① (나)의 인구 2위 도시는 광역시이다.
② (가)는 (나)보다 단위 면적당 온실가스 배출량이 많다.
③ (나)는 (다)보다 인구 밀도가 높다.
④ (다)는 (가)보다 지역 내 총생산이 많다.
⑤ (가)와 (다)의 행정 구역 경계는 맞닿아 있다.

18. 그래프는 A~C 지역과 (가) 지역 간의 기후 값 차이를 나타낸 것이다. 이에 대한 설명으로 옳은 것은? (단, A~C와 (가)는 각각 지도에 표시된 네 지역 중 하나임.) [3점]



- ① A는 B보다 해발 고도가 높다.
② B는 C보다 무상 일수가 많다.
③ C는 A보다 겨울 강수 집중률이 높다.
④ C는 (가)보다 바다의 영향을 많이 받는다.
⑤ (가)는 A보다 기온의 연교차가 크다.

19. 지도는 세 작물의 시·도별 재배 면적 상위 3개 지역을 나타낸 것이다. (가)~(다)에 대한 설명으로 옳은 것만을 <보기>에서 고른 것은? (단, (가)~(다)는 각각 과수, 벼, 채소 중 하나임.) [3점]



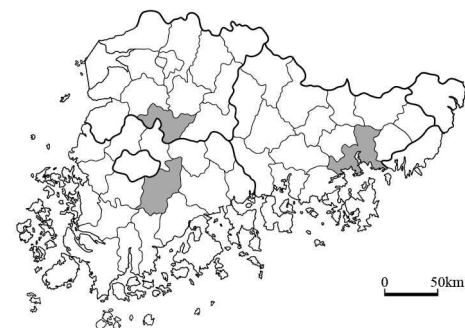
<보 기>

- ㄱ. (다)는 주로 밭보다 논에서 재배된다.
ㄴ. (가)는 (나)보다 논지 재배 면적 비율이 높다.
ㄷ. (나)는 (다)보다 1인당 소비량이 많다.
ㄹ. (다)는 (가)보다 국내 자급률이 높다.

- ① ㄱ, ㄴ ② ㄱ, ㄷ ③ ㄴ, ㄷ ④ ㄴ, ㄹ ⑤ ㄷ, ㄹ

20. 다음 자료의 (가), (나)에 들어갈 탐구 주제로 가장 적절한 것을 <보기>에서 고른 것은? [3점]

- ◎ 지도에 표시된 지역의 명칭을 활용하여 끝말잇기를 순서대로 완성하고, 지역별 탐구 주제를 작성해 보세요.
(끝말잇기 예 : 부천⇒천안⇒안양)



순서	1	2	3
지역			
탐구 주제	(가)	전통 장류를 소재로 한 축제가 지역 경제에 미치는 영향	(나)

<보 기>

- ㄱ. 특례시 지정 이후 지역 발전 추진 전략
ㄴ. 람사르 협약에 등록된 우포늪의 보전 방안
ㄷ. 죽녹원과 죽세공품 등 대나무를 활용한 장소 마케팅 효과
ㄹ. 세계 문화유산으로 등재된 고인돌 유적의 역사·문화적 가치

- (가) (나) (가) (나) (가) (나)
① ㄱ ㄴ ② ㄷ ㄱ ③ ㄷ ㄴ
④ ㄹ ㄱ ⑤ ㄹ ㄴ

* 확인 사항

- 답안지의 해당란에 필요한 내용을 정확히 기입(표기)했는지 확인 하시오.